



**2023年5月7日事业单位联考B类  
《职业能力倾向测验》试题**

公考通整理

2023年5月7日事业单位联考B类《职业能力倾向测验》试题

一、常识判断。根据题目要求，在四个选项中选出一个最恰当的答案。

1、党的二十大报告系统总结了十八大以来党和国家事业取得的历史性成就。对此，下列说法正确的是（ ）。

- A、打赢了人类历史上规模最大的脱贫攻坚战
- B、货物贸易总额和吸引外资均高居世界第一
- C、我国经济总量占世界经济的比重超过30%
- D、全国居民人均可支配收入历史性突破6万元

2、2023年3月，中共中央、国务院印发了《党和国家机构改革方案》。关于该方案的内容，下列说法正确的是（ ）。

- A、组建金融监督管理总局，不再保留中国人民银行
- B、组建中央社会工作部，作为党中央议事协调机构
- C、组建国家数据局，由国家发展和改革委员会管理
- D、按照5%的比例精减中央和地方党政机关人员编制

3、关于“两会”，下列说法错误的是（ ）。

- A、议案是由政协委员向人大或政府提出的
- B、全国人民代表大会可修改宪法，监督宪法实施
- C、政协委员通常情况下是以协商推荐的方式产生
- D、省级人大代表是由下一级人大代表差额选举产生

4、近年来，随着我国经济社会发展，人力资源社会保障部公布了一些“新职业”。下列关于新职业的说法，错误的是（ ）。

- A、城市管理网格员可以受理相关群众举报
- B、直播销售员属于互联网营销师的工种之一
- C、家庭教育指导师可策划家校协同育人活动
- D、电子数据取证分析师的工作不包括数据恢复

5、下列人物与典故对应错误的是（ ）。

- A、孙臧——减灶诱敌
- B、周公旦——问鼎中原
- C、商纣王——倒曳九牛

D、伊尹——调和五味治天下

6、此图显示了中国历史上某个朝代的部分版图，下列哪一事件没有发生在该朝代存续期间？（ ）



A、法国大革命爆发

B、拜占庭帝国灭亡

C、麦哲伦船队环球航行

D、英国东印度公司建立

7、关于中国历史上的人才选拔培养制度，下列说法错误的是（ ）。

A、宋太祖在位时，确立了殿试的制度

B、唐高祖在位时，开创了科举取士制度

C、清朝同治帝在位时，首次官派留学生

D、清朝光绪帝在位时，宣布废除科举考试

8、民族管弦乐队一般分为吹管乐器、弓弦乐器、弹拨乐器以及打击乐器四个乐器组。下列分组与乐器对应错误的是（ ）。

A、打击乐器——锣、镲

B、吹管乐器——笛子、唢呐

C、弹拨乐器——三弦、芦笙

D、弓弦乐器——二胡、马头琴

9、清人王士禛评论：“汉魏以来，二千余年间，以诗名其家者众矣。顾所号为仙才者，唯曹子建、李太白、苏子瞻三人而已。”下列不是这三人作品的是（ ）。

A、煮豆燃豆其，豆在釜中泣

B、凭谁问，廉颇老矣，尚能饭否

C、长风破浪会有时，直挂云帆济沧海

D、料得年年肠断处，明月夜，短松冈

10、在台北故宫博物院《风格故事：康熙御制珐琅彩瓷特展》中，有一件展品题名为“清康熙玻璃胎画珐琅牡丹蓝地胆瓶”。下列与之相关的说法错误的是（ ）。

- A、“胆瓶”是一种酷似悬胆的陶瓷经典造型
- B、“珐琅彩”是首创于康熙时朝的一种工艺
- C、“玻璃胎”是指这件瓷器以玻璃为基底素材
- D、“蓝地”说明瓷器的胎体由蓝色的瓷泥制成

11、关于中国的木结构建筑，下列说法错误的是（ ）。

- A、北方民居建筑多采用叠梁式结构
- B、晋祠圣母殿是木结构建筑的代表作
- C、天坛祈年殿是采用榫卯结构的建筑
- D、《营造法式》中有木结构建筑的设计规范

12、关于我国自然资源，下列说法正确的是（ ）。

- A、山东的金矿资源主要在胶东半岛
- B、西南林区是中国第一大天然林区
- C、我国是世界铜矿储量最多的国家
- D、我国人工草场主要在中东部地区

13、某支船队需要从希腊向新加坡运送货物，他们穿过哪条运河和哪条海峡运输距离最短？（ ）

- A、基尔运河；望加锡海峡
- B、伊利运河；土耳其海峡
- C、苏伊士运河；马六甲海峡
- D、巴拿马运河；霍尔木兹海峡

14、下列关于耳机的说法，错误的是（ ）。

- A、佩戴骨传导耳机时，无法听见周围环境的声音
- B、封闭式头戴耳机内部的回音和压抑感比较明显
- C、入耳式耳机因接触面小，对耳蜗内部压强较大
- D、主动降噪耳机可以产生与噪音相等的反相声波

15、“烟笼寒水月笼沙，夜泊秦淮近酒家。商女不知亡国恨，隔江犹唱后庭花。”关于这首诗中提及的事物或现象，下列说法错误的是（ ）。

- A、月光体现了光的反射
- B、笼罩寒水的“烟”是水汽遇冷固化而成
- C、夜晚水变寒的过程是一个热传递的过程
- D、隔江听到歌声说明声音能在空气中传播
- 16、关于太阳，下列说法正确的是（ ）。
- A、太阳表面的逃逸速度是第三宇宙速度
- B、太阳只有绕着银河系公转但没有自转
- C、太阳的下一个演化阶段是成为一颗超新星
- D、日全食时能观测到太阳大气最外层的日冕
- 17、关于生活中的化学品，下列说法正确的是（ ）。
- A、除湿袋常使用吸水性强的氢氧化钙进行除湿
- B、老式照相机闪光后会冒烟，是由于镁粉的燃烧
- C、含有聚乙烯材质的瓶子适用于盛放酒精类饮品
- D、碳酸氢钠能使蛋白质变性，常用于松花蛋的腌制
- 18、关于能源，下列说法错误的是（ ）。
- A、在涨潮过程中海水的势能化为动能
- B、渗透能不依赖天气也不排放二氧化碳
- C、风的能量是由太阳辐射能转化而来的
- D、波浪产生的能量与迎波面宽度成正比
- 19、下列细胞及其功能对应错误的是（ ）。
- A、T淋巴细胞——机体免疫
- B、叶肉细胞——进行光合作用
- C、脂肪细胞——运输氧和二氧化碳
- D、神经元细胞——感受刺激，传导兴奋
- 20、关于海洋灾害，下列说法错误的是（ ）。
- A、辽东湾和渤海湾在冬季可能会形成海冰
- B、全球的海啸发生区域大体与地震带一致
- C、硅藻或绿藻导致的赤潮一般不是红色的
- D、海雾的生成过程和原因不包括地形因素

二、言语理解与表达。本部分包括表达与理解两方面的内容。请根据题目要求，在四个选项中选出一个最恰当的答案。

21、互联网不是法外之地，在网络经济中，当公平交易秩序被践踏，消费者权益受侵犯、网络平台和电商不能慎独自律时，司法力量必须（ ）维护消费者权益。

- A、挺身而出
- B、杀一儆百
- C、严惩不贷
- D、破釜沉舟

22、系好青少年第一科“法治扣子”，需要创新方式方法，增强法制宣传教育实效。如今，越来越多的学校一改往日贴标语、办讲座、背条文的传统方法，以启发式、互动式、探究式教学方法，在（ ）的法治体验中激发青少年的兴趣，学习兴趣，将法律知识（ ）为法律意识，涵养成法治精神。

- A、生动 引申
- B、灵活 融合
- C、真实 内化
- D、新鲜 转换

23、一个人如果长期失败，而且被（ ）是能力或性格有问题，则容易产生负疚感和羞愧感，心理治疗师对于负疚感的处理原则之一，就是（ ）病人把导致自身挫折的原因归结于外部因素，并把过去的失败重新定义为未来成功的一部分。

- A、指责 引导
- B、嘲讽 鼓励
- C、归咎 启发
- D、认定 说服

24、欣赏苏州园林，就如同欣赏一幅流动立体的山水画，在（ ）的空间内，古人以围墙变幻出天地自然，用门窗定格下四季更替，文人士大夫们“大隐隐于世”的（ ），都藏在这山水花木之间了。

- A、有限 情致
- B、局促 志向
- C、狭窄 意趣
- D、错落 信仰

25、春秋中期分封制、宗法制和礼乐制逐步（ ），郑国、晋国先后颁布成文法，包括军队编制、兵

种、武器装备、军赋征收等军事制度也发生了重大变化，改革改良之风逐渐兴起。这些改革虽还不能与战国变法（ ），但革故鼎新的改革精神却成为战国变法的先导。

- A、消失 同日而语
- B、崩溃 分庭抗礼
- C、瓦解 相提并论
- D、废除 并驾齐驱

26、当前我国经济形势总体是好的，但经济发展面临的国际环境和国内条件都在发生深刻而复杂的变化，推进供给侧结构性改革过程中（ ）会遇到一些困难和挑战，经济运行稳中有变、变中有忧，我们既要保持战略定力，推动我国经济发展沿着正确方向前进；又要增强忧患意识，（ ），精准研判，妥善应对经济领域可能出现的重大风险。

- A、理所当然 见机行事
- B、不可避免 未雨绸缪
- C、毋庸置疑 稳扎稳打
- D、接二连三 居安思危

27、干部一定要知敬畏、存戒惧、守底线，敬畏党、敬畏人民、敬畏法纪，不能在“月黑风高无人见”的（ ）中乱了心智，不能在“你知我知天知地知”的花言巧语中迷了方向，不能在“富贵险中求”的侥幸心理中铤而走险，不能在“法不责众”的错误认识中（ ）。

- A、威逼利诱 误入歧途
- B、自欺欺人 恣意妄为
- C、欲盖弥彰 徇私枉法
- D、掩耳盗铃 渐行渐远

28、互联网时代，由于信息体量庞杂，数据传播迅速，对明星、公众人物表情包的侵权认定存在较大难度，但这并不代表人们可以（ ）地创作和使用表情包。随着互联网相关法律法规的进一步完善，表情包的使用会更加（ ）。

- A、自以为是 循规蹈矩
- B、肆无忌惮 恰到好处
- C、随心所欲 有章可循
- D、异想天开 理直气壮

29、从某种意义上看，亚文化的实质就是“用自己的声音说自己的话”。有时表达的是一种对主流的

不满，比如恶搞文化里对主流文化的（ ）和解构；有时是展示和（ ）自己的与众不同，比如发型服饰夸张的杀马特少年。表现形态虽有不同，但本质上都是一种情绪的宣泄和对身份认同的（ ）。

- A、漠视 卖弄 期待
- B、嘲讽 炫耀 渴求
- C、消解 强调 希冀
- D、不屑 凸显 憧憬

30、在现实世界中，日常事象和重要事件的\_\_\_\_\_往往被混乱无序的生活表象掩盖。要想挖掘生活细节的真实、生活逻辑的真实、生活本质的真实，既需要电影创作者通过语言文字符号系统和视听隐喻形象系统\_\_\_\_\_这些生活场景，也需要通过艺术家对生活现象进行主观判断、能动选择、叙事材料的确认与创造。因此，电影很难达成艺术表现与客观现实的\_\_\_\_\_。

依次填入画横线部分最恰当的一项是（ ）。

- A、规律 模拟 统一
- B、真理 反映 平衡
- C、价值 复制 融合
- D、本质 呈现 同构

31、熟练运用一门国际通用外语，固然是涉外法治人才不可或缺的基本功，与熟练掌握国际法律规则体系和知识一样重要，但它们绝不是培养高素质涉外法治人才仅有的两门必修业务课，国际化实务能力的培养，应当包括国际贸易、国际金融、国际结算、国际谈判、国际法律文书制作等方面的知识运用能力，是融复合性、专业性、国际性、本土性为一体的跨学科人才培养系统工程。在法学院校中，这需要整合涉外法治人才能力培养相关的院系，并与法律实务部门协力才可完成。

这段文字意在说明，涉外法治人才培养（ ）。

- A、不能仅靠法学院校单独完成
- B、应着重提升国际化实务能力
- C、要把外语和国际法律列为专业必修课
- D、需进行顶层设计并构建综合培养体系

32、科学的种子能不能茁壮成长，关键看有没有悉心呵护、持续培养。当前，我国在中小学开设了科学课程，但能够承担科学课程的专业老师仍较少，尤其在欠发达地区和边远乡村，这一情况更为突出。让更多孩子的科学潜质得到释放，一方面，需要逐渐补齐科学师资短板，加强科学教师培训，提升科学教育整体水平；另一方面，可以利用网络课程普惠的优势，组织权威机构，制作纯公益、全开放科学教育内容，



推动科学资源下沉。此外，还有必要引导科普资源和服务向欠发达地区倾斜，努力缩小地区差距，让更多孩子有机会走进科学世界，实现科学梦想。

这段文字意在强调（ ）。

- A、进一步推动我国科学教育的普及
- B、多措并举提升科学教育师资水平
- C、科学资源的分配应达到区域平衡
- D、要让孩子享受到科学教育的乐趣

33、《诗经》是周代典礼活动中用于歌唱的音乐文本，其乐歌属性已成为普遍的共识。近年来，学者们试图通过《诗经》文本中遗存的相关歌唱信息，来考察《诗经》歌唱形态以及周代诗乐制度等问题，取得了不少重要的突破，但是，今本《诗经》已经是高度文本化、经典化之后的文本，与乐用形态下的歌诗相此，其文本已损失了大量的乐用信息，甚至偏高了实际乐用时的诗乐形貌。因此，借由《诗经》文本探寻《诗经》歌唱诸问题，难免会有隔阂甚至偏差，并不能完整、全面地呈现周代歌诗乐用的真实面貌。

这段文字意在强调（ ）。

- A、要弄清楚周代诗乐的生成与乐用机制并非易事
- B、探寻周代诗乐形貌须以更加客观全面的史料为依托
- C、周代歌诗乐用的真实面貌很难通过今本《诗经》完整还原
- D、今本《诗经》经过时代的洗礼其所藏乐用信息已非常有限

34、19世纪末以来，随着吐鲁番文书、敦煌文献、黑水城文书及宋元以来契约文书等大批写本文献的陆续发现，曾经“不登大雅之堂”的民间文书文献逐渐进入研究者的视野。与传统的四部（经史子集）文献不同，民间文书的创造和使用主体是普通民众，记载的是普通百姓的日常生活，它们最真切地反映了普通百姓的生活面貌，是我们研究古代社会各阶层经济活动和精神文化生活的最宝贵的第一手资料，是逝去时代的文化化石和时代印记，具有独特性与不可复制性，富有较高的学术价值、文化价值和文物价值。

这段文字意在说明（ ）。

- A、民间文书是研究古代社会生活的珍贵资料
- B、民间文书能真切还原普通百姓的生活面貌
- C、民间文书摆脱了“不登大雅之堂”的窘境
- D、关注民间文书是古代历史研究的重要突破

35、多普勒效应是指如果信号源和接收者之间有相对运动，那么接收端接收到的信号频率将发生变化：相向运动则频率增加，反向运动则频率降低。公路上的测速雷达、医学上的彩超，用的都是多普勒效应原

理。在宇宙学研究中，多普勒效应也大放异彩，研究遥远天体的运动不再是不可能的事情。它甚至还引出了颠覆人们世界观的理论“宇宙大爆炸理论”——星系都在互相远离，宇宙处于不断膨胀的状态。虽然多普勒效应有着极高的知名度，但多普勒本人的经历却鲜为人知：他的全名曾被谬传许久，他的大半生都在被拒绝中度过，甚至提出多普勒效应的当天，会场下面只坐了六个人。

这段文字接下来最可能重点介绍（ ）。

- A、围绕宇宙大爆炸理论的论争
- B、多普勒效应与交通信号设计
- C、多普勒的学习经历与学术生涯
- D、天文学家建立宇宙模型的基础

36、在农业时代，国富民安的前提就是农产品的丰足，而温暖湿润的气候刚好能够提供保证，初唐和盛唐时期，黄河中下游地区水土肥沃，梅树、柑橘等亚热带作物常见于长安周边。这让北方游牧民族的日子比较好过，空前繁荣开放的盛唐就是建立在这个基础上的。然而到了8世纪中期，全球气候逐渐转为干冷，春暖花开越来越晚，霜雪却早早来临，造成的农业减产动摇了国本。安史之乱后，大唐帝国再也没能满状态复活，疲于应对财力衰弱，外敌入侵，直到灭亡。后来的宋朝和明朝，也都经历了类似的气候周期。成也气候败也气候，大概这就是古代农业帝国的宿命吧。

横线句中的“这”指的是（ ）。

- A、唐王朝的农业比较发达
- B、全球刚好处于气候温暖期
- C、黄河提供了良好的生产条件
- D、盛唐执行开放宽容的边疆政策

37、科技深度介入竞技体育，有力提升了运动员们的竞赛成绩，延长了运动员的运动生命周期，提高了各项赛事的精彩程度，让人类不断向着更快、更高、更强的目标挺进。当然，也要看到，科技从来都是一柄双刃剑，体育科技的运用不可避免地会带来不公平现象的产生，有条件的国家和运动员可以使用更先进、更科学的体育设备和训练方法，可能将经济领域的不平等延伸到体育领域，同时也可能加剧竞技运动员的科技异化程度。

根据这段文字，作者认为（ ）。

- A、要严防体育科技的运用所带来的不公平现象
- B、科技深度介入竞技体育，早已是当今体坛的趋势
- C、竞技体育运动员的成绩要靠汗水浇灌，也要靠科技护航

D、要辩证看待科技深度介入竞技体育所带来的好处和弊端

38、无人驾驶矿用车有利于调度中心更加准确掌握车辆状态，可有效降低矿方的安全生产责任风险，提高矿企的生产效益，具有广阔的市场前景。但与无人驾驶汽车的应用相比，矿区采矿道路条件较差，无固定清晰路标，还可能出现某些不可预测的障碍物，路面循迹避障的算法设计是无人矿车驾驶系统的难点之一。此外，采矿工作是系统工程，矿区会有多辆无人驾驶矿车同时作业，涉及多条采矿线路，为了保障高效安全作业，协调工作设计也是重难点。

这段文字没有提及无人驾驶矿用车的（ ）。

- A、研发情况
- B、工作环境
- C、技术难点
- D、应用前景

39、2022年8月4日，我国成功将陆地生态系统碳监测卫星“句芒号”送入预定轨道。句芒，是我国古代民间神话中的木神、春神、东方之神，主管树木的发芽生长，象征对自然环境的敬畏与责任。“句芒号”是世界首颗森林碳汇主被动联合观测的遥感卫星，能够实现对森林植被生物量、气溶胶分布、叶绿素荧光等的高精度定量遥感测量，进而计算出森林碳汇，即“森林植被吸收并存储的二氧化碳量”，从而转变传统的人工碳汇计量手段，提高碳汇计量的效率和精度。

这段文字没有提及（ ）。

- A、“句芒号”名字的由来
- B、“句芒号”卫星的功能
- C、用于计算森林碳汇的数据
- D、国外碳汇观测卫星的情况

40、口耳相传的神话传说，是史前人类的珍贵记忆，是构建民族共同体的重要基石。华夏文明拥有许多关于音乐的美丽传说。据《吕氏春秋·古乐篇》记载，黄帝的乐官伶伦曾经不远万里来到昆仑神山，聆听凤凰鸣叫，制成12根律管，作为确定音高的标准，出自昆仑的“十二律吕体系”，历代确立的“十二律位传统”，乃至以“昆仑”为意象的文化复兴追求，奠定了中华民族音乐多元一体格局的历史基因，展现出包括中原与西域在内的各民族音乐艺术的辉煌开端。

这是一篇文章的摘要，文章标题最可能是（ ）。

- A、伶伦风律：中国神话谱系与中华文化认同
- B、昆山凤鸣：各民族共同构建的中华文化符号

C、律出昆仑：中华民族多元一体音乐文化的开端

D、万山之相：民族多元一体格局视域下的昆仑文化

41、在大多数人看来，亲密关系一旦牵涉了经济往来便会招致非议，\_\_\_\_\_：“分隔领域”学说假设了社会生活分属理性和情感两个领域，与此相关的“敌对世界”模型则认定二者之间一有互动就会相互干扰。“亲密关系是一朵脆弱的花，一旦沾染金钱和经济私利就会枯萎”，在刻板印象中，掺杂了物质的感情经不起风浪。社会学家泽利泽却提供了一个不同于以往的思路，认为亲密关系如果没有资金助力则无法长久，没有亲密联络，经济活动也没有意义可言，“对钱闭口不谈”才是对亲密关系真正的伤害。

填入横线处最恰当的一项是（ ）。

A、这种观念背后有两种常见的思维作为支撑

B、其实金钱交易背后隐藏着道德和社会意义

C、人与人之间的关系本质上是一种经济关系

D、破坏情感的不是金钱而是价值观上的分歧

42、\_\_\_\_\_，当前经济全球化遭遇挫折，发展不确定性因素增多，现有国际秩序和多边贸易体系受到挑战。产业数字化是应对新一轮大发展大变革大调整的重要破局手段，受到世界各国的高度关注。一方面，发达国家纷纷推出重大战略，全力巩固数字经济领域主导地位；另一方面，发展中国家也顺应信息革命潮流，抢抓国际产业转移和再分工机遇。

填入横线处最恰当的一项是（ ）。

A、产业数字化是数字经济增长的核心引擎

B、产业数字化是经济转型升级的必经之路

C、产业数字化是数字经济融合创新的重要部分

D、产业数字化是抢占国际竞争新优势的必然选择

43、过去的犯罪真相难于查明，需要一场严肃的刑事诉讼对案情加以重构。这一过程与考古非常类似，都需要根据不断挖掘、打捞出证据，逐步还原某个历史场景。不过，刑事诉讼与考古的不同其实多于相似：考古没有时间限制，挖掘一旦无法持续，可以等待；而刑事诉讼程序则必须遵守法定期限，不能让案件在期限之外悬而不决，狱羁冤人，必须有一套对真相不明的疑难案件的处置规则，\_\_\_\_\_。

填入横线处最恰当的一项是（ ）。

A、所以在刑事治罪领域，特别强调以事实为依据

- B、为文明诉讼所公认的规则，那就是“疑罪从无”
- C、描述、回溯事实还是要取决于如何理解法条文义
- D、犯罪行为发生在过去，还原真相的过程也会出错

44、①气候学家近些年来非常担心，北极变暖会导致最后一次冰期在西伯利亚、阿拉斯加和加拿大极地区出现的所有永久冻土迅速消失

②除了对自然界的影晌外，这些灾难性过程还会对极地居民造成极为不利的影晌

③这些动植物残骸将开始腐烂，向大气层释放甲烷和二氧化碳，在自然火災中燃烧，进一步加速全球变暖

④据当前预测，西伯利亚和阿拉斯加南都地区永久冻土在本世纪末会消失三分之一左右

⑤专家认为，永久冻土融化会释放出在数百万年冰期内冻结在土壤中、并不断累积的大量有机物质

⑥最近，气候学家研究发现，永久冻土融化将影响俄罗斯、加拿大和美国极地城市 70% 以上的基础设施

将以上六个句子重新排序，语序正确的是（ ）。

- A、①④⑤③②⑥
- B、④⑥①⑤③②
- C、⑤①③②⑥④
- D、⑥⑤①④③②

45、①敦煌研究是一个国际性学术的大门类，里面牵扯到考古学、人类学、史学、美术史、文学、语言学、宗教史。

②虽然敦煌在中国，但是季羨林先生说得对：“敦煌在中国，敦煌学在世界。”

③在敦煌，我们能够找到大量不同语言、不同文化、不同信仰曾经在这片土地上流传、交流和碰撞的证据。

④所有你能想象得到的人文学科，几乎都能够在敦煌会聚起来。

⑤打开这些宝物，可以看到一个我们从来没有想过但又确实存在过的中国。

⑥围绕着敦煌这个地方，产生了种种启发、种种研究，它早已不只是我们中国国内的事。

将以上六个句子重新排序，语序正确的是（ ）。

- A、①⑥②④⑤③
- B、②③④⑤⑥①
- C、③⑤②⑥①④
- D、④⑥⑤①③②

三、数量分析。本部分包括数学运算和资料分析两种类型，在四个选项中选出一个最恰当的答案。

46、某创业团队为方便员工通勤，在单位附近租赁了公寓供员工休息，租赁费用为每月 280 元/人，今年新招聘 4 名员工，在租赁费用总额不变的情况下。租赁费用降至每月 240 元/人，问该团队租赁公寓每月花费多少元？（ ）

- A、1120
- B、3360
- C、6720
- D、7840

47、制造集团下属某工厂 32%的工人为高级技工，在将 40 名工人（其中 24 人为高级技工）调往其他厂后，高级技工占工人的比重下降到 25%。问该单位原有多少名高级技工？（ ）

- A、48
- B、64
- C、80
- D、96

48、某单位派甲、乙等 11 名职工到基层开展执勤工作，一段时间后随机挑选 3 人检查工作情况，问甲、乙二人中至多有一人被抽查的概率是多少？（ ）

- A、 $\frac{3}{55}$
- B、 $\frac{24}{55}$
- C、 $\frac{28}{55}$
- D、 $\frac{52}{55}$

49、一个正方体零件的体积为 1，如用此零件切割出一个尽可能大的圆柱体零件 A，再用 A 切割出一个尽可能大的正方体零件 B，则 B 的体积在以下哪个范围内？（ ）

- A、不到 0.3
- B、0.3-0.4 之间
- C、0.4-0.5 之间
- D、超过 0.5

50、企业采购 25 台相同的计算机分配给 4 个不同的部门，要求任意 2 个部门分配到的计算机数量不同，且任一部门分配到的计算机数量不得少于其余任一部门所分配数量的一半。问有多少种不同的分配方式？

( )

- A、24
- B、48
- C、144
- D、288

(一)

2010~2021年全国用水量情况 单位：亿立方米

年份	用水总量	用水分类			
		农业生产	工业生产	生活	生态
2010	6022	3689	1447	766	120
2011	6107	3743	1462	790	112
2012	6131	3902	1381	740	108
2013	6183	3922	1406	750	105
2014	6095	3869	1356	767	103
2015	6103	3852	1335	793	123
2016	6040	3768	1308	821	143
2017	6043	3766	1277	838	162
2018	6016	3693	1262	860	201
2019	6021	3682	1217	872	250
2020	5813	3613	1030	863	307
2021	5920	3644	1050	909	317

51、2016-2020年，全国农业生产用水总量约为工业生产用水总量的多少倍？( )

- A、2.5
- B、3
- C、3.5
- D、4

52、以下各年中，全国生态用水量同比增速最快的是( )。

- A、2015年
- B、2016年
- C、2017年
- D、2018年

53、2012-2017年，全国农业生产、工业生产、生活和生态四类用水中至少有三类用水量同比下降的年



份有几个？（ ）

- A、1
- B、2
- C、3
- D、4

54、2021 年生态用水量占全国用水总量的比重相较 2010 年（ ）。

- A、高不到 5 个百分点
- B、高 5 个百分点以上
- C、低不到 5 个百分点
- D、低 5 个百分点以上

55、以下折线图反映的是 2018-2021 年间，全国哪一类用水量同比增量的变化趋势？（ ）



- A、生活用水
- B、生态用水
- C、农业生产用水
- D、工业生产用水

(二)

2019 年末，全国共有文化市场经营单位 22.02 万家，较上年末减少 1.91 万家，从业人员 164.59 万人，全年营业收入 8467.90 亿元，营业利润 1046.58 亿元。其中，娱乐场所 67367 个，从业人员 54.25 万人，全年营业收入 535.50 亿元，营业利润 71.55 亿元；互联网上网服务营业场所 116809 个。从业人员 31.19 万人，全年营业收入 243.85 亿元，营业利润 41.28 亿元；演出市场单位 22944 个，从业人员 49.94 万人，全年营业收入 1551.87 亿元，营业利润 134.80 亿元；艺术品经营机构 6036 个，从业人员 2.44 万人，全年营业收入 89.30 亿元，营业利润 20.30 亿元；经营性互联网文化单位 7002 家，从业人员 26.78 万人，全年



营业收入 6035.15 亿元，营业利润 776.20 亿元。

2020 年末，全国共有文化市场经营单位 20.89 万家，从业人员 160.91 万人，全年营业收入 9967.49 亿元，营业利润 1699.70 亿元。其中，娱乐场所 6.54 万个，从业人员 53.23 万人，全年营业收入 419.25 亿元，营业利润 5.33 亿元。互联网上网服务营业场所 10.62 万个，从业人员 24.71 万人，全年营业收入 181.53 亿元。演出市场单位 2.23 万个，从业人员 49.52 万人，全年营业收入 2157.50 亿元，营业利润 351.15 亿元。艺术品经营机构 0.53 万个，从业人员 1.94 万人，全年营业收入 71.99 亿元，营业利润 9.29 亿元。经营性互联网文化单位 0.97 万家，从业人员 31.49 万人，全年营业收入 7137.22 亿元，营业利润 1331.13 亿元。

56、2020 年末，全国文化市场经营单位数量较 2018 年末（ ）。

- A、增加了 5%以内
- B、增加了 5%以上
- C、减少了 5%以内
- D、减少了 5%以上

57、如按期初和期末从业人数的平均值来计算平均从业人数，则 2020 年全国文化市场经营单位平均每名从业人员创造的营业收入约为多少万元？（ ）

- A、61
- B、70
- C、79
- D、88

58、2020 年末，平均每个演出市场单位的从业人员数约是经营性互联网文化单位的多少倍？（ ）

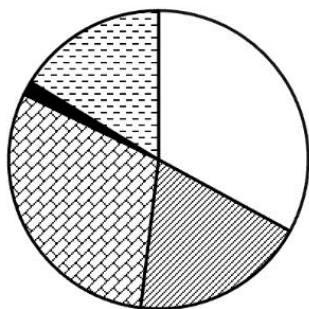
- A、0.3
- B、0.7
- C、1.5
- D、3.1

59、将①娱乐场所、②演出市场单位、③艺术品经营机构和④经营性互联网文化单位按 2020 年利润率（利润率=营业利润÷营业收入×100%）从高到低排列，以下正确的是（ ）。

- A、②③④①
- B、②④③①
- C、④②③①

D、④③②①

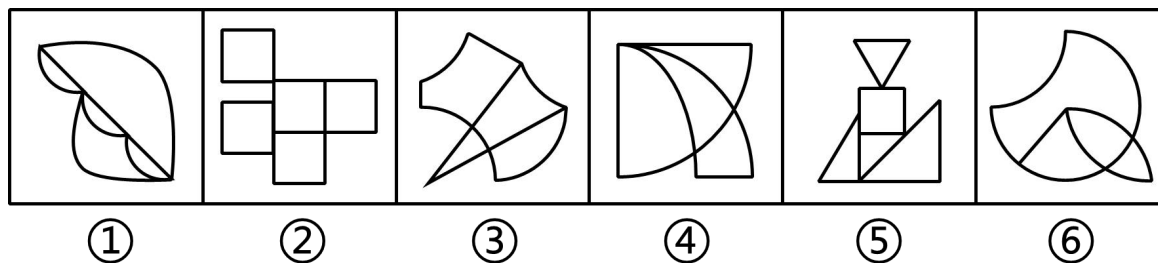
60、以下饼图反映了2019年全国娱乐场所、互联网上网服务营业场所、演出市场单位、艺术品经营机构和经营性互联网文化单位哪一指标的数值占有所有文化市场经营单位总体数值的比重？（ ）



- A、营业收入
- B、营业利润
- C、年末单位数
- D、年末从业人数

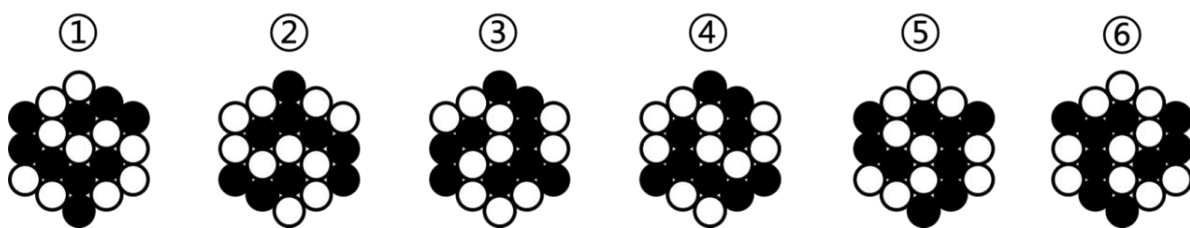
**四、判断推理。**本部分包括图形推理、定义判断、类比推理与逻辑判断四种类型的试题，在四个选项中选出一个最恰当的答案。

61、把下面的图形分为两类，使每一类图形都有各自的共同特征或规律，分类正确的一项是（ ）。



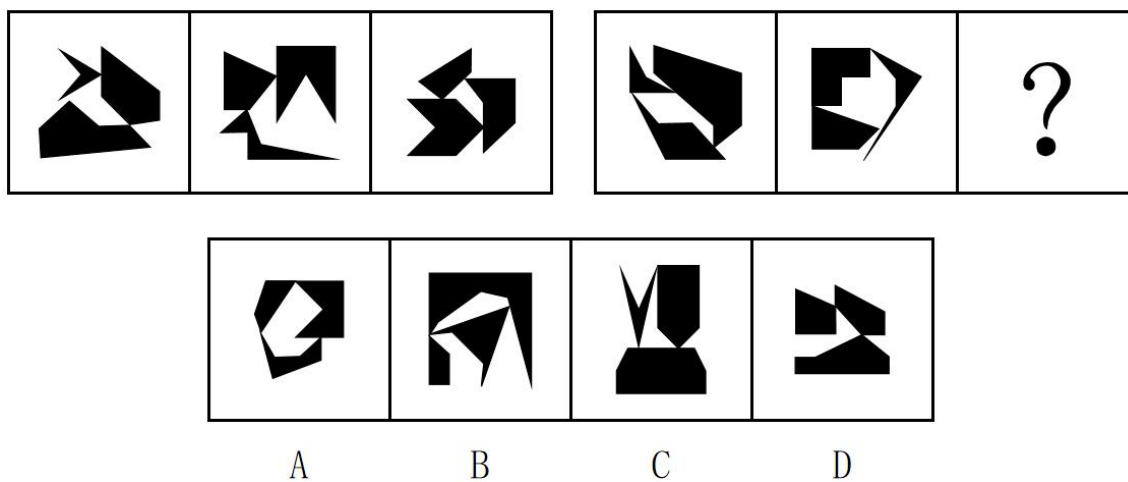
- A、①②④，③⑤⑥
- B、①②⑤，③④⑥
- C、①③⑤，②④⑥
- D、①③⑥，②④⑤

62、把下面的六个图形分为两类，使每一类图形都有各自的共同特征或规律，分类正确的一项是（ ）。



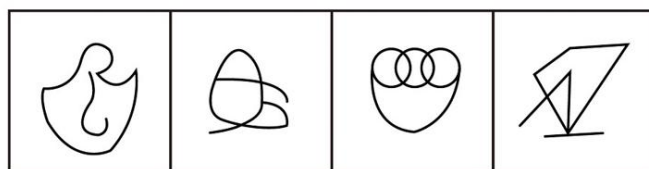
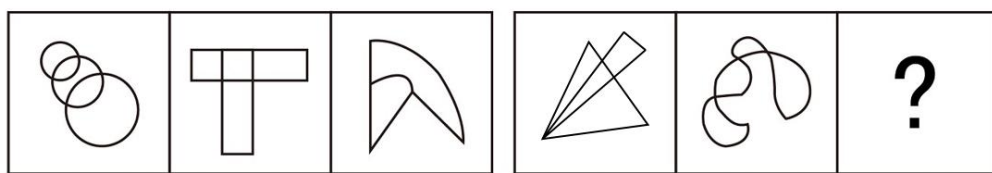
- A、①②⑤，③④⑥
- B、①②⑥，③④⑤
- C、①③④，②⑤⑥
- D、①③⑤，②④⑥

63、从所给的四个选项中，选择最合适的一个填入问号处，使之呈现一定的规律性（ ）。



- A、A
- B、B
- C、C
- D、D


64、从所给的四个选项中，选择最合适的一个填在问号处，使之呈现一定的规律性（ ）。



A B C D

- A、A
- B、B
- C、C
- D、D

65、把下面的六个图形分为两类，使每一类图形都有各自的共同特征或规律，分类正确的一项是（ ）。



- A、①②③，④⑤⑥
- B、①②④，③⑤⑥
- C、①③⑤，②④⑥
- D、①④⑤，②③⑥

66、空白恐惧症是指一旦发现自己没有任何事务安排和计划，一片“空白”，就会感到不安、恐慌，硬要找点事情做或虚假做事的一种焦虑状态，其成因通常是对于别人在社交平台上所展示的“充实”状态感到不安。

根据上述定义，下列属于空白恐惧症的是（ ）。

- A、晚自习后，同学要去图书馆继续学习，小林觉得回去也不能立刻休息，于是也和同学去了图书馆
- B、暑假期间，小丽看到朋友发的带娃出游的照片，想到自己很少有时间能够带孩子出游，觉得很抱歉
- C、小明跟朋友在一起无所事事闲逛了一天，觉得自己浪费了时间，虚度了大好的光阴，突然感觉很焦

虑

D、小方看到同事在朋友圈分享了每周计划，而自己却没什么安排，担心被落下，于是报了并不需要的培训班

67、快餐文化是指追求速成、通俗、短期流行，不注重深厚积累和内在价值的文化思潮和文化现象，是人们生活节奏加快的产物。

根据上述定义，下列属于快餐文化的是（ ）。

- A、方便面以其便宜、好吃、方便、保存时间长，而广受人们的欢迎
- B、家长为了自己的孩子能够赢在起跑线上，焦虑不已，抢报各种兴趣培训班
- C、“五分钟看大片”通过在短时间内让受众了解影视剧情而深受年轻人的欢迎
- D、学生利用思维导图的方式，可以快速掌握学科知识，提高学习的效率和效果

68、句法造词法是指按照造句的规则来创造新词的方法，可分为主谓式（例如“地震”“日食”）、动宾式（例如“下岗”“督学”），并列式（例如“师生”“褒贬”）、偏正式（例如“飞快”“绿叶”）和补充式（例如“提高”“照亮”）形式，有些运用句法造词法构成的词语可综合使用上述两种或两种以上形式。

根据上述定义，下列词语没有综合运用上述形式的是（ ）。

- A、文具店
- B、脱粒机
- C、辅导班
- D、国营厂

69、在情绪 ABC 理论中，A 表示诱发性事件；B 表示个体针对此诱发性事件产生的一些信念，即对这件事的一些看法、解释；C 表示个体产生的情绪和行为的结果。该理论认为，事件 A 只是引发情绪和行为的结果 C 的间接原因，而引起 C 的直接原因则是个体对事件 A 的认知和评价而产生的信念 B。

根据上述定义，下列最符合情绪 ABC 理论的是（ ）。

- A、甲、乙两人同时被丙所骗，生性乐观的甲认为吃一堑长一智，而乙则为自己的轻信懊恼不已
- B、甲玩游戏到深夜，第二天起来迟了，急忙打车去上班，结果还是迟到了，他抱怨出租车司机技术不熟练，态度还恶劣
- C、甲、乙两人去看国际画展，喜欢中国传统绘画的甲认为《向日葵》《星空》等毫无美感，简直就是涂鸦之作，而乙看得流连忘返

D、甲、乙两人应聘后均未被录用，甲无所谓，而乙伤心欲绝，因为甲认为，这次应聘只是试一试，增加临场经验；而乙则是多日准备，志在必得

70、功能医学从个体的遗传、环境、心理、生活方式和生理的联动关系入手，通过研究个体由生理功能下降到病理改变的发病过程，来判断功能变化程度、疾病的发展进程，找出功能下降及疾病产生的原因，做到早期发现疾病及预防未来疾病的发生。

根据上述定义，下列不符合功能医学理念的是（ ）。

- A、专注于个性化治疗干预方案
- B、强调病理诊断，药物是最佳手段
- C、没有临床疾病不等于处于健康状态
- D、关注整体功能变化，而非仅针对疾病

71、生态产品是由生态系统自然生产或人类社会劳动生产，或由两种生产共同作用提供的，能维系生态安全，保障生态调节功能。提供良好人居环境的，满足人民日益增长的美好生活需要的产品或服务。

根据上述定义，下列不属于生态产品的是（ ）。

- A、某城市人工湿地中流淌的对生活污水和工业废水再生利用的再生水
- B、平均水深 7 米多，水草繁盛候鸟成群，水色清澈、景色旖旎的可鲁克湖
- C、集自然景观和民族风情于一体，面积 152 平方公里的坎布拉国家森林公园
- D、利用橡胶树上采集的橡胶制成的物美价廉，安全系数高的汽车专用轮胎

72、火性思维指的是个人对待所遇到的人或者事所采取的基本行动策略是首先根据一些规范或者要求来对其进行评价，并据此采取相关匡正行为；水性思维指的是个人对待所遇到的人或者事所采取的基本行动策略是首先对其进行理解并据此采取顺势而为的行为。

①小陈在小区看到一些家长纵容孩子在草坪上随意奔跑，他急忙走过去对其家长进行善意的提醒，得到了家长的理解

②对于在菜市场门前随意摆摊设点的商贩，菜市场管理人员小赵根据领导的要求让他们到固定摊位售卖

③一辆轿车突然停在正常行走的小陆面前，小陆正要上前理论，爸爸急忙提醒他，可能车主是有急事，我们就多理解一下，绕开走吧

根据上述定义，下列判断正确的是（ ）。

- A、①中小陈是火性思维，③中小陆爸爸是水性思维
- B、①中小陈是水性思维，③中小陆爸爸是火性思维
- C、②中小赵是火性思维，①③中小陈和小陆爸爸是水性思维
- D、①②中小陈和小赵是火性思维，③中小陆爸爸是水性思维

73、电子对抗是指敌对双方为削弱、破坏对方电子设备的使用效能，保障己方电子设备发挥效能而采取的各种电子措施和行动，电子对抗的形式包括电子对抗侦察、电子防御等，其中电子对抗侦察是搜集敌方电子设备信息的侦察；电子防御是在敌方实施电子对抗的情况下，为保障己方电子设备和电子系统发挥效能而采取的措施和行动。

根据上述定义，下列没有体现上述两种电子对抗形式的是（ ）

- A、通过无线电技术侦听敌方雷达，识别其所在位置，获取该雷达技术参数
- B、通过为战机涂抹特殊材料，使其平面反射面积缩小，使敌方雷达无法探测到
- C、受到反雷达导弹攻击时，利用多部雷达组网发射信号，使导弹无法定位而偏离方向
- D、通过水声设备对敌方声呐，声制导武器的声信号进行截收，确定目标类型和部署数量

74、命令性规范和禁止性规范都是义务性规范。命令性规范，是指规定人们的积极义务，即人们必须或应当作出某种行为的规范；禁止性规范，是指规定人们的消极义务（不作为义务），即禁止人们作出一定行为的规范。

- ①禁止用任何方法对公民进行侮辱、诽谤和诬告陷害
- ②行为人与相对人恶意串通，损害他人合法权益的民事行为无效
- ③公安机关拘留人的时候，必须出示拘留证
- ④对当事人的同一个违法行为，不得给予两次以上罚款的行政处罚

根据上述定义，下列说法正确的是（ ）。

- A、①④属于命令性规范
- B、②③属于禁止性规范
- C、②④属于禁止性规范
- D、只有③属于命令性规范

75、电影场面调度是指在剧本提供的人物动作、场景视觉角度等基础上，结合实际拍摄条件，进行的有关演员或摄影机活动位置的调度，通过调度，可以起到刻画人物性格、表现人物关系、渲染场面气氛、交代时空间隔等作用。

根据上述定义，下列体现了电影场面调度的是（ ）。

- A、采用特殊剪辑手法，让处于不同时空的人物同时呈现在同一个画面上
- B、跟拍某演员从进门一直走到房子深处的角落，用透视关系表现空间感
- C、设置充满阳光的布景，播放欢快的音乐，映衬出电影主人公明媚的心情
- D、通过拍摄演员两次见到某人的表情变化，体现其对该人不断加深的好感

76、闭门：造车

A、抛砖：引玉

B、震耳：欲聋

C、冷言：冷语

D、曲高：和寡

77、汽锅鸡：竹筒饭

A、螺蛳粉：东坡肉

B、瓦罐鱼：小笼包

C、铁板烧：三杯鸡

D、盐水鸭：担担面

78、泰山北斗：德高望重

A、天罗地网：防范严密

B、钟鸣鼎食：金玉满堂

C、人才辈出：卧虎藏龙

D、珠联璧合：关系亲密

79、口若悬河：喋喋不休

A、好高骛远：高瞻远瞩

B、能言善辩：巧舌如簧

C、独占鳌头：鹤立鸡群

D、百无聊赖：兴趣索然

80、近乡情更怯：不敢问来人

A、空山不见人：但闻人语响

B、松下问童子：言师采药去

C、君自故乡来：应知故乡事

D、至今思项羽：不肯过江东

81、大脑：思考：思想

A、心脏：跳动：血液

B、肺脏：呼吸：空气

C、芯片：编程：软件



D、车床：切割：产品

82、信用卡：借记卡：银行卡

A、针织物：机织物：纺织物

B、保守派：激进派：两面派

C、交叉路：丁字路：十字路

D、轩辕台：越王台：主席台

83、股票：走势图：交易信息

A、心脏：心电图：心脏结构

B、的士：计价器：运营范围

C、海拔：地平线：地面起伏

D、企业：利润表：经营情况

84、（ ）对于 蜡笔 相当于 照片 对于（ ）

A、铅笔 相片

B、图画 相机

C、文具 相册

D、毛笔 图像

85、沟沟坎坎 对于（ ）相当于（ ）对于 排场

A、困难 风风光光

B、河流 红红火火

C、山山水水 阔气

D、磕磕绊绊 奢华

86、考古人员在河南安阳洹河北岸的殷墟商王陵及周边区域新勘探发现东西两个围沟及 400 余座祭祀坑。这两个围沟均围绕在殷商大墓外围，相距 40 米，在东围沟东段以东、南段以南，存在大范围空白区域，极少发现商代晚期遗存，考古人员由此推测，不仅商王陵园区存在明确规划，陵园外围也有较大段范围被划入缓冲区，禁止一般人占用。

以下哪项如果为真，最能支持上述考古人员推测？（ ）

A、在商王陵大墓内，没有发现商代晚期遗存

B、在商王陵园外围区域，基本不会发现商代晚期遗存

C、大量发现商代晚期遗存的区域，当时均被一般人占用

D、发现商代晚期遗存的区域，均处于商王陵园的外围区域

87、某论坛有人发帖：“人类正常体温  $37^{\circ}\text{C}$  已成历史，自 19 世纪以来，人类体温下降了  $0.4^{\circ}\text{C}$ ，而体温每下降  $1^{\circ}\text{C}$ ，免疫力就会下降 30%；而体温每上升  $1^{\circ}\text{C}$ ，免疫力就会提高 5-6 倍。”因此有网友担心，自己体温始终低于正常标准，这意味着自己的免疫力也低于常人。

以下哪项如果为真，最能质疑该网友的担心？（ ）

A、人类体温是否自 19 世纪以来下降了  $0.4^{\circ}\text{C}$ ，目前并无权威统计数据支持

B、体温越高，就会激活人体内更多的免疫细胞，从而更好地歼灭入侵的病原微生物

C、正常体温标准是根据多数人的测量结果而来，每个人的体温存在差异属于正常现象，对健康并无影响

D、一般正常体温为腋下温度  $36-37^{\circ}\text{C}$ ，舌下温度为  $36.3-37.2^{\circ}\text{C}$ ，直肠温度为  $36.5-37.7^{\circ}\text{C}$ ，体位不同，有所差异

88、科学家选择了两块“受伤的雨林”——原生雨林被砍光，在失去土壤韧性后又被用来放牧，最终长满了一种被称为“栅栏草”的入侵植物，原生雨林没有机会喘息与再生。研究人员将其中一块地均匀覆盖上近半米的咖啡果肉，另一块土地则什么也不做，任其自然。两年之后，两块地发生了迥然不同的剧变：被咖啡果肉覆盖的那块，“栅栏草”已经完全消失，取而代之的是本应属于这里的热带树种的年轻树冠；而另一块地则依然被“栅栏草”霸占着。由此可见，咖啡果肉有助于热带雨林的生态恢复。

以下各项如果为真，除哪项外均能支持以上结论？（ ）

A、覆盖咖啡果肉是一次“集中施肥”的过程，能够使土地更有韧性，生产恢复能力更佳

B、咖啡果肉是制作咖啡豆后的废料，其味道会吸引食草型动物前来觅食，改变周边的环境

C、咖啡果肉中富含碳、氮、磷等植物生长所需要的营养成分，能够为雨林修复按下“加速键”

D、半米高的咖啡果肉会形成密不透风的“隔绝”层，在重压之下“栅栏草”被抑制生长，窒息死亡

89、集团研发部的 40 人都吃苦耐劳，他们均具有博士学位；有些员工已经获得多项发明专利，还有些员工甚至获得了国家科技发明大奖。研发部已经成为集团发展的核心力量。

根据上述信息，关于该集团研发部，可以得出以下哪项？（ ）

A、获得国家科技发明大奖的员工均吃苦耐劳

B、获得多项发明专利的员工也获得了国家科技发明大奖

C、获得国家科技发明大奖的员工是集团发展的核心力量

D、这些博士要么获得多项发明专利，要么获得了国家科技发明大奖

90、与劳动、资本、技术等要素一样，所有数据财产都属于信息时代的经济要素。只有明确数据财产

的权属，才能建立和完善数据要素市场。只有建立数据财产制度，才能充分调动数据处理者在数据开发利用和流通中的积极性，并且才能使静态的数据资源在动态流转中跃变为具有经济价值的资产。只有数据资源真正成为具有经济价值的资产，才能推动数据产业的发展，并且才能实现经济的数字化转型。

由此可以推出（ ）。

- A、一旦明确了数据财产的权属，就能建立和完善数据要素市场
- B、静态的数据资源只有在动态流转中才能跃变为具有经济价值的资产
- C、若数据资源未能真正成为具有经济价值的资产就不能实现经济的数字化转型
- D、数据财产制度建立起来了，数据处理者在数据开发利用和流通中的积极性就能充分调动起来

91、近期，某人生吃龙虾，结果导致细菌感染，幸亏抢救及时，暂时脱离了生命危险。所以，生吃龙虾一定要慎重，谨防细菌感染。

以下哪项与上述论证形式最为类似？（ ）

- A、不识庐山真面目，只缘身在此山中
- B、近墨者黑，近朱者赤，年轻人交友一定要慎重
- C、春种一粒粟，秋收万颗子，生命皆是如此，循环往复
- D、以天下之所顺，攻亲戚之所畔，故君子有不战，战必胜矣

### （三）

节俭一直是中华民族的传统美德。随着经济社会的发展，人们对物质的要求越来越高，“月光族”“啃老族”早已屡见不鲜。然而，近年来，情况也正在发生着悄然变化。遵循“省钱而不降品味，省钱而不失时尚，省钱而不减体面”原则的“新节俭主义”开始被越来越多年轻人所推崇和青睐。对此，网络上出现了各种不同的声音。

网友 1：“新节俭主义”首先需要你会省钱，能省钱，这也并不是件容易的事情，所以推崇不代表践行。

网友 2：我们家不允许剩饭，这是传承的家风，无论传统节俭还是“新节俭主义”，都是勤劳节俭美德的体现。

网友 3：“新节俭主义”强调量入为出、“把钱用在刀刃上”，是一种返璞归真、更成熟、更健康的消费理念。

网友 4：节俭并非只为了省钱，更是用环保的理念去生活，就像你买下一本二手书的同时，也为地球减轻一份重量，这也是“新”的一个体现。

网友 5：“新节俭主义”源于社会生活压力，年轻人深感生活的不易，因此奉行“新节俭主义”。

网友 6：就应该像传统节俭一样什么都省，“新节俭主义”说什么“该花的就花”，这实际上是浪费的

一种托辞。

网友 7：调查显示，43.55%的受访者曾在互联网平台上寻找各种省钱方式，35.18%的受访者尚未尝试在互联网平台上寻找省钱方式，其余受访者觉得没必要尝试，所以大多数年轻人是推崇“新节俭主义”的。

92、下列选项中，均能够支持“新节俭主义”观点的是（ ）。

- A、网友 1 和网友 2
- B、网友 2 和网友 3
- C、网友 4 和网友 5
- D、网友 5 和网友 6

93、对下列问题的回答，除哪项外对网友 7 的论证都是重要的？（ ）

- A、受访者是否都是年轻人？
- B、回答“尚未尝试”的受访者是否尝试过其他节省的方式？
- C、“觉得没有必要尝试”的受访者是否尝试过其他节省的方式？
- D、受访者“曾在互联网平台上寻找各种省钱方式”的原因是什么？

#### （四）

个人所得税起征点各地是否应该相同？对于这一论题，大家众说纷纭。

评论员甲：全国统一的个人所得税起征点是否公平？对于东部和西部地区，收入水平不完全相同，我认为为了公平起见，个人所得税的起征点应该考虑到各地区收入水平的差距，而不应该是全国统一的。

研究员乙：各个地区的平均收入水平不一样，如果按照行政区划区别对待，会产生一个问题。比如，如果东部地区抬高了个人所得税起征点，大家都会涌入这些地区，从而影响了劳动力要素流动的市场调节机制，因此。我认为起征点应该全国统一。

网友丙：一个人去不去东部地区发展，肯定不光考虑个人所得税的起征点，还有其他一些条件，因此个人所得税起征点各地不同不会是人才流动的壁垒。征收个人所得税的一个非常重要的目的，就是调节收入分配。如果高收入地区高起征点，低收入地区低起征点，那么，调节分配的功能就会失效，甚至产生逆向调节的效果。

94、以下哪项最为恰当地概括了甲和乙争论的焦点？（ ）

- A、个人所得税起征点调整是否弊大于利？
- B、确定个人所得税起征点的标准是单一的还是复合的？
- C、确定个人所得税起征点应该是公平优先还是效果优先？
- D、确定个人所得税起征点是否应该按照行政区划区别对待？

95、对于丙的论证，下列评价最恰当的是（ ）。

- A、肯定了甲的论据，且支持了甲的结论
- B、肯定了甲的论据，但从一个新的角度，质疑了甲的结论
- C、肯定了乙的论据，且支持了乙的结论
- D、否定了乙的论据，但提出了一个新的理由，支持了乙的结论

**五、综合分析。**所给出的文字资料均有若干问题要你回答。你应根据资料提供的信息进行分析、判断和处理。

### （五）

宋人高承在《事物纪原》中介绍“钱陌”，说“自古用钱，贯皆以千，百皆以足”。“钱陌”就是指串起来的一百文钱，中国古代基本上以金、银、铜钱为主要货币，每一百文钱串成钱串，方便计量与携带，因此“陌”就成为计算钱数的单位，指一百文钱。但是，早在南朝梁武帝时期，就曾以八十、七十甚至三十为陌，至唐、五代时期，这种现象也不同程度地存在。

宋代实行铜本位制，以铜钱为主要货币。随着商品经济迅猛发展，钱币的铸造量无法满足经济活动的需求，“钱荒”就成为具有宋朝时代特点的社会经济现象，出现字面意义上的“钱不够用”。因而普遍采用“以不足一百文的钱当作一百来计算和使用”的办法，称为“短陌”，而把“足数满百”（足陌）称为“十足钱”、“短陌”的数额，依当时当地的具体情况而定，随意性较大。宋朝政府曾有以“七十上陌”统一“短陌”的计划，但未能实现。

孟元老《东京梦华录》介绍北宋末年开封城中的货币流通情况、其中“都市钱陌”，包括以下几种形式：

“官用七十七”是以七十七文为“陌”，相当于对“足陌”打了七七折，是“都市钱陌”中实际货币数量最多的一种，“含金量”最高，与官府相关的经济行为大多采用这一标准，故称“官陌”。

“街市通用七十五”是以七十五文为“陌”，是北宋东京城经济活动中普遍采用的标准，称为“市陌”。

“金银七十四”是金银行的“行陌”。北宋时期，金银主要用于铸造器皿和装饰装潢，并不作为货币使用，但仍被视为重要的支付手段和贮藏手段，有时甚至作为价值尺度，当时有专门从事金银买卖的店铺，这一行业所用钱陌标准低于官陌和市陌，应与交易数量巨大有关。

“鱼、肉、菜七十二陌”，这一标准的使用范围相当于菜市场，属于“行陌”之一，这一行业的交易有如下特点：频繁发生，但数量通常不会很大；买主基本上是普通市民，手中货币存量有限；交易活动为民生所必需。

“珍珠、雇婢妮，买宠物、雇佣奴婢以及花鸟虫鱼等宠物交易、这类交易通常不会发生在普通市民之

间，不是基本生活所需。单笔交易数额可能相对较大。

“文字五十六陌”是“折扣最高”的钱陌，或者说是“含金量最低”的钱陌，适用于提供文字服务的行业。“行陌”数额在某种程度上是供需双方讨价还价的结果。是供需关系的反映，由此似可推知，北宋时期文字行是一个买方主导的市场，读书人的文字不值钱。

“短陌”是中国古代铜本位货币体系所特有的一种现象，很早就出现在经济活动之中。关于“短陌”现象出现原因，学界认识不一。其最初原因与采用铜币形式但是铸币权不统一有关。此后的发展中，又复合了产铜量与钱币铸造量无法满足交易需求、商业行为中奸诈之人恶意“取人长钱，还人短陌”从而获利，政府有意以之作为克扣手段来增加财政收入。市场中的通货膨胀导致点检钱数困难因而以贯论钱等复杂因素。唐代政府曾经将不足数的“短陌”钱定为非法，予以打击；但唐宪宗时期，政府为了平定藩镇叛乱、筹措巨额军费的权宜之计使得市场流通的“陌钱”不足数。经过晚唐五代，“短陌”成为官方承认的常态形式，并为宋代政府所继承。

宋代钱币陌数混乱，使得钱数计算非常麻烦，人们在用钱时，\_\_\_\_\_，特别是“足陌”与“短陌”间的换算，几乎成为必备能力。不过这种换算并不像加减法那样简单，是一种专门算术知识，并非人人都能掌握，即使在官方和文化人中，也经常出现换算错误。

但是，从货币发展角度来看，“短陌”的实行，使得货币作为价值尺度、充当一般等价物的意义逐渐淡化，作为流通手段的职能得到凸显，这成了纸币这一货币符号在经济生活中出现的基础。

96、根据这篇文章，下列说法正确的是（ ）。

- A、宋朝政府以“七十七陌”统一“短陌”
- B、唐代政府曾经规定钱必须“足陌”，否则即为非法
- C、五代时期的官府最早“以八十、七十甚至三十为陌”
- D、南朝官府以“取人长钱，还人短陌”来增加财政收入

97、填入文中横线处最恰当的一项是（ ）。

- A、经常面临不同陌制间的换算问题
- B、需要随行就市确定钱币的实际数目
- C、总要事先了解钱币数量的计算方法
- D、可能并不清楚行业所依循陌制的标准

98、下列哪一说法与原文相符？（ ）

- A、“短陌”的合法化发生在北宋中晚期
- B、古代的铜币流通必然带来“短陌”现象



- C、纸币在宋代的出现成为“短陌”现象的推手
- D、货币短缺是宋代“短陌”现象产生的根本原因

99、《东京梦华录》中提到冬季从黄河运到东京鱼市售卖的鱼“每斤不上一百文”，那么当时买一斤鱼最多只需付多少钱？（ ）

- A、七十二文
- B、七十四文
- C、七十五文
- D、七十七文

100、最适合做这篇文章标题的是（ ）。

- A、中国古代的货币制度
- B、困扰北宋王朝的“钱荒”
- C、北宋东京城中的“钱陌”
- D、铜本位制下的货币流通

### 参考答案

1、本题考查政治常识。

A项正确，党的二十大报告指出，我们经过接续奋斗，实现了小康这个中华民族的千年梦想，我国发展站在了更高历史起点上。我们坚持精准扶贫、尽锐出战，打赢了人类历史上规模最大的脱贫攻坚战，全国八百三十二个贫困县全部摘帽，近一亿农村贫困人口实现脱贫，九百六十多万贫困人口实现易地搬迁，历史性地解决了绝对贫困问题，为全球减贫事业作出了重大贡献。

B项错误，党的二十大报告指出，我国成为一百四十多个国家和地区的主要贸易伙伴，货物贸易总额居世界第一，吸引外资和对外投资居世界前列，形成更大范围、更宽领域、更深层次对外开放格局。故“吸引外资居世界第一”说法错误。

C项错误，党的二十大报告指出，国内生产总值从五十四万亿元增长到一百一十四万亿元，我国经济总量占世界经济的比重达百分之十八点五，提高七点二个百分点，稳居世界第二位。故“我国经济总量占世界经济的比重超过30%”说法错误。

D项错误，党的二十大报告指出，居民人均可支配收入从一万六千五百元增加到三万五千一百元。故“全国居民人均可支配收入历史性突破6万元”说法错误。

故正确答案为 A。

2、本题考查政治常识。

2023 年 3 月，中共中央、国务院印发了《党和国家机构改革方案》。

A 项错误，《党和国家机构改革方案》指出，组建国家金融监督管理总局。国家金融监督管理总局在中国银行保险监督管理委员会基础上组建，将中国人民银行对金融控股公司等金融集团的日常监管职责、有关金融消费者保护职责，中国证券监督管理委员会的投资者保护职责划入国家金融监督管理总局。不再保留中国银行保险监督管理委员会。故“不再保留中国人民银行”说法错误。

B 项错误，《党和国家机构改革方案》指出，组建中央社会工作部。负责统筹指导人民信访工作，指导人民建议征集工作，统筹推进党建引领基层治理和基层政权建设，统一领导全国性行业协会商会党的工作，协调推动行业协会商会深化改革和转型发展，指导混合所有制企业、非公有制企业和新经济组织、新社会组织、新就业群体党建工作，指导社会工作人才队伍建设等，作为党中央职能部门。故“作为党中央议事协调机构”说法错误。

C 项正确，《党和国家机构改革方案》指出，组建国家数据局。负责协调推进数据基础制度建设，统筹数据资源整合共享和开发利用，统筹推进数字中国、数字经济、数字社会规划和建设等，由国家发展和改革委员会管理。

D 项错误，《党和国家机构改革方案》指出，精减中央和国家机关人员编制。中央和国家机关各部门人员编制统一按照 5% 的比例进行精减，收回的编制主要用于加强重点领域和重要工作。中央垂管派出机构、驻外机构不纳入统一精减范围，根据行业和系统实际，盘活用好存量编制资源。故“按照 5% 的比例精减地方党政机关人员编制”说法错误。

故正确答案为 C。

3、本题考查法律常识。

A 项错误，两会是人大会议和政协会议的统称。根据《中国人民政治协商会议全国委员会提案工作条例》第二条规定：“提案是政协委员，参加政协的各党派、各人民团体，政协各专门委员会，政协全体会议期间的界别、委员小组（以下统称提案者），向政协全体会议或者常务委员会提出并交提案审查委员会或者提案委员会审查的书面意见和建议。……”议案则是人大会议期间，法律规定的机关或者代表按法定的联名人数，依照法定的程序提出的议事原案。人大代表议案与政协委员提案的不同之处在于：人民代表大会是权力机关，人大代表的议案一经通过，就具有法律效力；而人民政协是统一战线组织，政协委员提案是民主监督的一种形式，没有法律的约束力。

B 项正确，根据《宪法》第六十二条规定：“全国人民代表大会行使下列职权：（一）修改宪法；（二）



监督宪法的实施； . . . . .”

C 项正确，政协委员以协商推荐的方式产生，一般分为提名推荐、协商确定建议名单、政协常务委员会会议通过、公布四个步骤。

D 项正确，根据《选举法》第三十一条规定：“全国和地方各级人民代表大会代表实行差额选举，代表候选人的人数应多于应选代表的名额。”根据《宪法》第九十七条：“省、直辖市、设区的市的人民代表大会代表由下一级的人民代表大会选举；县、不设区的市、市辖区、乡、民族乡、镇的人民代表大会代表由选民直接选举。”

本题为选非题，故正确答案为 A。

4、本题考查政治常识。

A 项正确，城市管理网格员是运用现代城市网络化管理技术，巡查、核实、上报、处置市政工程（公用）设施、市容环境、社会管理事务等方面的问题，并对相关信息进行采集、分析、处置的人员。他们的工作任务包括操作信息采集设备，巡查、发现网格内市政工程（公用）设施、市容环境、社会管理事务等方面的问题，受理相关群众举报；操作系统平台对发现或群众举报的网格内市政工程（公用）设施、市容环境、社会管理事务等方面的问题进行核实、上报、记录；研究网格内市政工程（公用）设施、市容环境、社会管理事务等方面问题的立案事宜，提出处置方案；通知存在问题的责任单位，并协助解决相关问题；核实上级通报的问题，协助责任单位处置，并反馈处置结果；收集、整理、分析相关信息、数据，提出网格内城市治理优化建议。

B 项正确，互联网营销师有四大工种，即直播销售员、选品员、视频创推员、平台管理员。直播销售员是在直播过程中针对企业产品进行宣传推广，以及进行直接的直播营销人员；选品员是自产品选择、产品卖点提炼、商务谈判、直播流程设计中参与实施管理的人员；视频创推员是通过视频的创作及推广，为后续的直播销售充分预热和赋能，并进一步地开展用户互动工作的人员；平台管理员是针对直播平台进行后台管理，包括账号管理、数据监控，并通过分析指导进一步的直播销售过程的人员。

C 项正确，家庭教育指导师是指通过教育学、应用心理学、社会家庭学的理论知识，帮助家庭在夫妻关系、亲子关系、婆媳关系上建立良好的家庭环境，通过改变孩子的生活、学习习惯，建立孩子的德行和责任，帮助家庭幸福的专业人员。家庭教育指导师可以助力家校育人协同发展。

D 项错误，电子数据取证分析师是从事电子数据的收集提取、数据恢复及取证分析的人员。电子数据取证分析师的工作包括数据恢复。

本题为选非题，故正确答案为 D。

5、本题考查人文常识。

A 项正确，“减灶诱敌”源自马陵之战，战国时，孙臆采用“佯装却战，减灶示弱，诱敌深入，设伏歼之”的计策，以逐日减灶制造齐军大量逃亡的假象，迷惑魏军，诱其追击。待魏军追至马陵险要地带，齐军万箭齐发，魏军不及防备，大败，魏将庞涓被迫自杀。

B 项错误，传说古代夏禹铸造九鼎，代表九州，作为国家权力的象征。“问鼎中原”发生在春秋时期。楚庄王励精图治，楚国实力不断增强，楚庄王北伐，向周天子的使者询问九鼎的重量，鼎是权力的象征，暴露了其想要取代周天子号令天下的野心。

C 项正确，帝辛，商朝末代君主，世称“纣”，即商纣王。帝辛力大无比，有“倒曳九牛”之威，“抚梁易柱”之力。即倒拉九头牛，抚起房梁换柱子。

D 项正确，“调和五味治天下”出自商代伊尹。相传伊尹初见商汤时的谈话，被后人整理成《吕氏春秋》中的《本味篇》，在劝说商汤时，伊尹投商汤之所好，从烹调美味的诸多技术要领引发出治国平天下的道理，说任用贤才、推行仁义之道是治国之本，君臣、君民关系必需理顺调和。

本题为选非题，故正确答案为 B。

#### 6、本题考查人文常识。

北元（1368 年-1635 年），是指元朝在中原的统治被推翻后，元朝皇室退居漠北，与明朝对峙的政权。东察合台汗国是 14-17 世纪由蒙古察合台后代在天山南北建立的中国新疆地方政权。

A 项错误，法国大革命又称法国资产阶级革命，是指 1789 年 7 月 14 日至 1794 年 7 月 27 日在法国爆发的革命，统治法国多个世纪的波旁王朝及其统治下的君主制在三年内土崩瓦解。法国大革命没有发生在元朝存续期间。

B 项正确，拜占廷帝国共历经 12 个朝代，93 位皇帝，是欧洲历史上最悠久的君主制国家。1453 年 5 月 29 日，奥斯曼帝国苏丹穆罕默德二世率军攻入君士坦丁堡，拜占廷帝国正式灭亡。拜占廷帝国灭亡发生在元朝存续期间。

C 项正确，斐迪南·麦哲伦葡萄牙人，为西班牙政府效力探险。1519 年-1521 年率领船队首次环航地球，死于菲律宾的部族冲突中。虽然他没有办法亲自环球了，但他船上的水手在他死后继续向西航行，回到了欧洲。麦哲伦船队环球航行发生在元朝存续期间。

D 项正确，不列颠东印度公司，也被称为约翰公司，1600 年 12 月 31 日英格兰女王伊丽莎白一世授予该公司皇家许可状，给予它在印度贸易的特权而组成。英国东印度公司的建立发生在元朝存续期间。

本题为选非题，故正确答案为 A。

#### 7、本题考查人文常识。

A 项正确，唐朝武则天在位期间，首创殿试，但没有将其制度化。宋太祖在位期间，为加强中央集权，

在开宝六年确立了殿试的各种制度，逐渐形成解试、省试和殿试的三级考试制。

B项错误、D项正确，科举是通过分科考试选用官吏的制度。隋文帝统一中国后，废除以门第、品级为主的选人制度。隋炀帝大业元年（公元605年），设立进士科，正式开科取士，科举考试制度正式形成。1905年光绪皇帝下诏废科举。

C项正确，同治帝在位期间，清政府进行洋务运动，在1872~1875年间选派120名12岁左右的“留美幼童”，这就是中国最早的官派留学生。

本题为选非题，故正确答案为B。

8、本题考查人文常识。

A项正确，打击乐器是一种以打、摇动、摩擦、刮等方式产生效果的乐器。锣是一种中国传统打击乐器。锣是用铜等冶炼而成的，锣身呈一个圆形的弧面，四周是以锣身的边框固定，演奏者用木槌敲击锣身正面的中央部分，产生振动而发音。镲，是一种中国打击乐器，是由两个圆形的铜片互相撞击发声的。

B项正确，我国吹管乐器根据发音方法不同，可分为三类：气息经由吹孔，引起空气柱的振动而发音的，如笛子、箫、埙、排箫等；气息经过哨子，引起空气柱的振动而发音的，如唢呐、管等；气息经由簧片，引起空气柱的振动而发音的，如笙、芦笙、巴乌等。

C项错误，弹拨乐器，是用手指或拨子拨弦，及用琴竹击弦而发音的乐器总称。弹拨乐器分横式与竖式两类。横式，如：箏、古琴、扬琴和独弦琴等；竖式，如：琵琶、阮、月琴、三弦、柳琴等。芦笙属于吹管乐器，非弹拨乐器。

D项正确，弓弦乐器是由弓与弦组成的乐器，是以弓擦奏琴弦而发音的弓奏弦鸣乐器。弓弦乐器一般多为竹木与丝弦的组合。中国民族古典乐器中的弓弦乐器主要有二胡、高胡、中胡、四胡、板胡、京胡、革胡、低革胡、椰胡、坠胡以及少数民族的艾捷克、马头琴、牛腿琴、马骨胡、玎嘎那、纳西胡琴等。

本题为选非题，故正确答案为C。

9、本题考查人文常识。

曹子建：曹植，字子建，是三国时期著名文学家，为建安文学的代表人物之一。

李太白：李白，字太白，号青莲居士，唐朝伟大的浪漫主义诗人。

苏子瞻：苏轼，字子瞻，号东坡居士，北宋文学家、书法家、美食家、画家。

A项正确，该句出自《七步诗》，是曹植的一首诗。这首诗用同根而生的萁和豆来比喻同父共母的兄弟，用萁煎其豆来比喻同胞骨肉的哥哥曹丕残害弟弟，表达了对曹丕的强烈不满，生动形象、深入浅出地反映了封建统治集团内部的残酷斗争和诗人自身处境艰难，沉郁愤激的思想感情。

B项错误，该句出自《永遇乐·京口北固亭怀古》，是南宋词人辛弃疾创作的一首词。作者是怀着深重

的忧虑和一腔悲愤写这首词的。上片赞扬了在京口建立霸业的孙权和率军北伐气吞胡虏的刘裕，表示要像他们一样金戈铁马为国立功。下片借讽刺刘义隆来表明自己坚决主张抗金但反对冒进误国的立场和态度。

C项正确，该句出自《行路难三首》，是李白的组诗作品。这三首诗抒写了诗人在政治道路上遭遇艰难后的感慨，反映了诗人在思想上既不愿与权贵同流合污又不愿独善一身的矛盾。

D项正确，该句出自《江城子·乙卯正月二十日夜记梦》，是苏轼为悼念原配妻子王弗而创作的一首悼亡词，表现了绵绵不尽的哀伤和思念。

本题为选非题，故正确答案为B。

10、本题考查人文常识。

A项正确，胆瓶，因器型如悬胆而得名。直口，细长颈，削肩，肩以下渐硕，腹下部丰满。为花器，始烧于唐代至清中晚期。盛行于宋代，是陶瓷器型中的经典。胆瓶由于造型典雅优美，给人超凡脱俗的无限情趣，为当时宋代朝野各界所追捧。

B项正确，珐琅彩釉，始创于清代康熙晚期。至雍正时，珐琅彩得到进一步发展。珐琅彩吸取了铜胎画珐琅的技法，在瓷质的胎上，用各种珐琅彩料描绘而成的一种新的釉上彩瓷，亦称“瓷胎画珐琅”。

C项正确，D项错误，玻璃胎是以玻璃为胎体，以画珐琅工艺进行装饰的复合工艺技术。这件胆瓶是玻璃制品，器表以蓝料为地，但并非蓝色瓷泥制成。

本题为选非题，故正确答案为D。

11、本题考查人文常识。

A项错误，叠梁式构架，即在柱子上放梁、梁上放短柱、短柱上放短梁，层层叠落至屋脊，各个梁头上再架檩条以承托屋椽的形式，即用前后檐柱承托四椽椽、椽上再立二童柱承托平梁的做法。叠梁式结构被广泛应用在汉族寺院、宫殿以及庙宇等大型建筑中，是皇家建筑群落的首选结构，同时也是中华民族木构建筑结构的典型代表。在我国北方地区，室内少柱甚至无柱，空间大，叠梁式耗材多，因此不适用。

B项正确，晋祠圣母殿，面阔7间，进深8架椽（6间），重檐歇山顶，是中国最具代表性的、最著名的北宋时期建筑之一，更是国宝级宋代木结构建筑的代表作。

C项正确，榫卯是中国传统木工中一种结合多个木零件的方式。如果榫卯使用得当，不需要钉子和胶水，木结构之间就能严密扣合。北京天坛的祈年殿正是榫卯结构的精华之作。

D项正确，《营造法式》是北宋官方颁布的一部建筑设计、施工的规范书，相当于就是当时的建筑法规。其中对木构建筑的设计规范，包括体系模数、构建比例、用料等都有详细的规定。

本题为选非题，故正确答案为A。

12、本题考查地理国情。

A 项正确，山东省的金矿主要集中在胶东半岛的西北部地区，产地较为集中。

B 项错误，东北林区是我国第一大天然林区，西南林区是我国第二大天然林区。

C 项错误，根据中华人民共和国自然资源部 2023 年 4 月发布的《2022 年中国自然资源统计公报》，2021 年底我国铜矿储量为 3494.8 万吨。智利是目前为止全球最大的铜储量国，截至 2022 年，其铜储量高达约 1.9 亿吨。

D 项错误，我国的人工草场主要在东南部地区，与耕地、林地交错分布。

故正确答案为 A。

13、本题考查地理国情。

A 项错误，基尔运河，又称北海-波罗的海运河，位于德国北部，是沟通北海和波罗的海的国际运河；望加锡海峡是印度尼西亚群岛中段的海峡，介于婆罗洲和苏拉威西岛之间，北通苏拉威西海，南接爪哇海与弗洛勒斯海。

B 项错误，伊利运河是美国纽约州运河。西起伊利湖东端的布法罗，经莫霍克河谷地，东至哈得孙河岸的奥尔巴尼；土耳其海峡，又称黑海海峡，是欧、亚两洲的天然分界。位于小亚细亚半岛和巴尔干半岛之间。

C 项正确，希腊，欧洲南部国家，位于欧洲东南部的巴尔干半岛南端，东濒爱琴海，西濒伊奥尼亚海，南临地中海，北与阿尔巴尼亚、马其顿、保加利亚和土耳其接壤；新加坡，位于马来半岛南端、马六甲海峡出入口，北隔柔佛海峡与马来西亚相邻，南隔新加坡海峡与印度尼西亚相望；

苏伊士运河，是连接地中海塞得港与红海的陶菲克港，是欧、亚、非三大洲海上国际贸易的通道；马六甲海峡，是亚洲东南部马来半岛和苏门答腊岛之间，连接安达曼海和南海的狭长水道。为沟通太平洋与印度洋的战略水道，亚、非、欧三洲的海上交通纽带。若从希腊出发到新加坡，最短路线为：地中海——苏伊士运河-红海-印度洋-马六甲海峡-新加坡。

D 项错误，巴拿马运河，是沟通大西洋和太平洋的著名国际航运水道。位于中美洲巴拿马共和国中部。北起加勒比海利蒙湾岸的克里斯托瓦尔，南至太平洋巴拿马湾岸的巴尔博亚；霍尔木兹海峡，是阿曼穆桑代姆半岛与伊朗拉雷斯坦地区之间连接波斯湾与阿曼湾的水道。

故正确答案为 C。

14、本题考查科技常识。

A 项错误，骨传导耳机利用的是骨头的震动传声原理，不需要通过鼓膜震动进行声音传输，因此不需要入耳。佩戴骨传导耳机时，仍然可以听见周围的声音。

B 项正确，封闭式头戴耳机虽然隔音效果好，但因为过于封闭，会导致耳机内部的回音和压抑感比较强



烈，佩戴时更容易产生不适感。

C 项正确，入耳式耳机的声音接触面积小，对耳蜗内部压强较大。长时间佩戴入耳式耳机，会导致耳痛、眩晕、耳鸣、外耳道皮肤过敏等情况的发生。

D 项正确，主动降噪耳机的降噪原理是通过降噪系统产生与外界噪音相等的反相声波，将噪音中和，从而实现降噪的效果。

本题为选非题，故正确答案为 A。

15、本题考查科技常识。

A 项正确，月亮自身不会发光，我们所看到的月光是太阳光接触到月亮表面发生反射，反射光线进入我们的眼睛，我们才能看到月亮。

B 项错误，烟是由燃烧而产生的、悬浮在大气中的微粒。由含碳物质燃烧产生的气体经冷凝或固态物质经升华等过程生成。（一说：烟指水雾，水雾是空气中的水蒸气遇冷液化形成的），而非水汽遇冷固化形成。

C 项正确，水的比热容大于空气和陆地，故其放热慢。夜晚时，最先水的温度要高于空气和陆地，而热传递时，热量会从高温物体传递给低温物体，因此水中的热量会传递给四周的土地和空气，从而导致了夜晚水变寒。

D 项正确，声音的传播需要介质，在不同介质中传播速度不同，一般是固体 > 液体 > 气体。隔江能听到歌声是因为声音通过空气传播至人耳。

本题为选非题，故正确答案为 B。

16、本题考查科技常识。

A 项错误，从地球表面发射航天器，飞出太阳系，到浩瀚的银河系中漫游所需要的最小发射速度，就叫做第三宇宙速度，按照力学理论可以计算出第三宇宙速度  $V_3 = 16.7$  公里/秒。而太阳表面的逃逸速度为 617.7 公里/秒，所以太阳表面的逃逸速度并不是第三宇宙速度。

B 项错误，太阳除了绕着银河系公转也围绕自己的轴心自转。银河系是由众多恒星构成的庞大天体系统，太阳系位于银河系中，太阳绕银河系中心公转。同时太阳和其它天体一样，也在围绕自己的轴心自西向东自转。

C 项错误，太阳的下一个演化阶段是成为红巨星。太阳是一颗恒星，根据推测太阳大约为 46 亿“岁”，目前太阳正处在主序星阶段。处于主星序阶段的恒星，核聚变主要在它的中心（核心）部分发生，辐射压与它自身收缩的引力相平衡，恒星内部氢的燃烧消耗极快，中心形成氦核并且不断增大。由于体积膨胀的程度超过发光能力的增加，因此表面的有效温度下降，使得恒星的色温倾向红色，因此称为红巨星。当星

体燃尽所有热量后，它会经历引力坍塌，其外层会在大爆炸中脱落，此时这颗星星才叫做超新星。

D项正确，日全食，就是在地球上某一位置的太阳光被月亮完全遮住的天文现象。日全食发生时，太阳被月球遮挡，看起来变成了黑色，周围可见闪亮的光冠，即日冕。日冕是太阳大气的最外层，平时被太阳的光芒掩盖而肉眼不可见。

故正确答案为D。

17、本题考查科技常识。

A项错误，除湿袋分为气体除湿袋、液体除湿袋和固体除湿袋。气体除湿袋主要是利用空气混合的原理，液体除湿袋是利用压力差进行除湿，而固体除湿袋的主要成分是氯化钙，利用表面多孔的氯化钙和空气中的水分子发生反应，从而达到吸水的目的。而氢氧化钙不会和水反应，不能进行除湿。

B项正确，老式黑白照相机是利用能感光的胶片曝光时记录感光强度来完成摄影的，而在室内拍摄或拍摄环境光照不足时，就需要闪光灯，老式照相机使用镁粉做为闪光灯，镁被点燃会剧烈发光，放出热量，产生烟雾，生成氧化镁，照相机正是利用镁燃烧发出的光完成曝光。

C项错误，酒精是一种良好的有机溶剂，长时间用含有聚乙烯材质的瓶子盛放酒精类饮品，会使饮品变质。

D项错误，加工松花蛋时，要将纯碱、石灰、盐、黄丹粉按一定比例混合，再加上泥和糠裹在鸭蛋外面。其中纯碱是碳酸钠而非碳酸氢钠。

故正确答案为B。

18、本题考查科技常识。

A项错误，由于引潮力的作用，使海水不断地涨潮、落潮。涨潮时，大量海水汹涌而来，具有很大的动能；同时，水位逐渐升高，动能转化为势能。落潮时，海水奔腾而归，水位陆续下降，势能又转化为动能。

B项正确，（海洋）渗透能是一种十分环保的绿色能源，它既不产生垃圾，也没有二氧化碳的排放，更不依赖天气的状况，可以说是取之不尽，用之不竭。

C项正确，风能是空气流动产生的动能，是太阳能的一种转化形式。由于太阳辐射造成地球表面各部分受热不均匀，引起大气层中压力分布不平衡，在水平气压梯度的作用下，空气沿水平方向运动形成风。所以，风的能量是由太阳辐射能转化来的。

D项正确，波浪的能量与波高的平方、波浪的运动周期以及迎波面的宽度成正比。

本题为选非题，故正确答案为A。

19、本题考查科技常识。

A项正确，T淋巴细胞是来源于骨髓的多能干细胞。成熟的T细胞经血流分布至外周免疫器官的胸腺依

赖区定居，并可经淋巴管、外周血和组织液等进行再循环，发挥细胞免疫及免疫调节等功能。

B项正确，叶肉细胞是位于上、下表皮之间，并且叶肉细胞内含有大量的叶绿体，是植物进行光合作用的主要部分。

C项错误，脂肪细胞在体内的主要生理功能是：以甘油三酯的形式存储在体内，并在机体需要时供给能量。红细胞可以运输氧气和二氧化碳。

D项正确，神经元细胞，是神经系统最基本的结构和功能单位，分为细胞体和突起两部分。细胞体具有联络和整合输入信息并传出信息的作用。突起有树突和轴突两种，树突的作用是接受其他神经元轴突传来的冲动并传给细胞体；轴突的作用是接受外来刺激，再由细胞体传出。

本题为选非题，故正确答案为C。

20、本题考查地理国情。

A项正确，海冰是我国北方冬季出现的海洋自然灾害，对航运、港口作业、海水养殖、海岛居民生活等均会造成不同程度影响。渤海有辽东湾、渤海湾和莱州湾三大海湾，一般来说，海冰最先在辽东湾湾底及两侧出现，再逐渐向渤海湾、莱州湾及渤海中心发展。其中辽东湾是中国近海中水温最低、冰情最重处，每年都有大量固定冰与浮冰出现。

B项正确，海啸主要是由于海底地震、火山爆发、海底滑坡等所产生的破坏性海浪过程。海啸按成因可分为三类：地震海啸、火山海啸和滑坡海啸。据监测，80%以上的海啸都是由地震引起的，由于火山喷发引起的海啸占到5%左右。全球的海啸发生区大致与地震带一致。

C项正确，赤潮是海洋中某些微小的细菌、浮游植物或原生动物在一定环境条件下爆发性增殖或聚集，而引起水体变色的一种有害生态异常现象。赤潮是一个历史沿用名，它并不一直都是红色，如绿藻赤潮是绿色的，硅藻赤潮一般为棕黄色。

D项错误，海雾是海洋上低层大气中的一种水汽凝结现象。海雾的生成过程和原因包括地形因素，如地形雾。地形雾可分为岛屿雾和岸滨雾，岛屿雾是空气爬越岛屿过程中冷却而成的雾；岸滨雾产生于海岸附近，夜间随陆风漂移蔓延于海上，白天借海风推动，可漂入海岸陆区。

本题为选非题，故正确答案为D。

21、根据文意可知，网络经济中，消费者权益受侵犯，而平台和电商不能遵循法纪、自我约束，那么问题的解决需要司法力量的介入和管理。A项“挺身而出”形容面对艰难或危险的事情，勇敢地站出来承担责任，符合文意，当选。

B项“杀一儆百”泛指惩处或批评一个人以警戒众人，文段没有体现“通过批评一人以警戒大家”之意，排除；C项“严惩不贷”指严厉惩处，决不宽恕，用法通常是“某事必须严惩不贷”或“对某事必须严惩不



贷”，文段未指明严惩不贷的对象，且用法错误，排除；D项“破釜沉舟”比喻下决心，不留退路，不顾一切干到底，前文未体现“司法力量之前已经介入了但没有效果，以至于需要破釜沉舟”之意，故应用于此处程度过重，排除。

故正确答案为A。

22、第一空，文段讲青少年普法需要创新，增强教育实效，一改往日传统、死板的方法，横线处应对应“启发式、互动式、探究式”的特点，或对应后文的“法治体验”，据此四项均符合文意，保留。

第二空，横线所在句与后文“涵养成法治精神”构成句式相近的同义并列，故横线处与“涵养”意思相近，表达“滋润、培养”相关的意思，体现青少年将学来的法律知识消化吸收成自己内在的法律意识。C项“内化”指将外来的观点经过内证实践，所领悟出的认知体系，符合文意，当选；A项“引申”指由本义推演、转变而成其他的意义、B项“融合”指几种不同的事物合成一体、D项“转换”指以某种情况替代原有情况，三项均未体现“将外部的吸收为自己的”之意，不符合文中“法律知识”和“法律意识”的关系，排除。

故正确答案为C。

23、第一空，“能力或性格有问题”通常是外界对一个人自身的负面评价。A项“指责”指责备、B项“嘲讽”意为嘲笑讽刺，用于此处均符合文意，保留；C项“归咎”指归罪，把过错推给别人，即自己之外的因素，与文意相悖，排除；D项“认定”指确定的认为，体现不出“负面评价”之意，感情色彩不明确，排除。

第二空，横线处表达心理治疗师对病人心理治疗的方法。A项“引导”指带领，启发诱导，用于此处可指心理师启发病人把导致挫折的原因归结于外部因素，符合文意，当选；B项“鼓励”意为激发、勉励、加油鼓劲，不能体现心理治疗师对病人的直接指导、治疗的作用，程度过轻，排除。

故正确答案为A。

24、第一空，搭配“空间”，且将“园林”比作“流动立体的山水画”，意在说明在相对固定的空间内，能够让天地“变幻”、让四季“更替”。故此处应体现园林空间固定不变之意，对应A项“有限”，指对范围、数量、时间有限制的。B项“局促”、C项“狭窄”强调空间狭小、狭窄，文段并非强调空间极小狭窄，且感情偏消极，不合文意，排除；D项“错落”意为交错地排列，不合文意且搭配不当，排除。

第二空，代入验证，“文人士大夫们‘大隐隐于市’”的“情致”，符合文意且搭配无误，当选。

故正确答案为A。

25、第一空，根据后文“郑国、晋国先后颁布成文法”“改革改良之风逐渐兴起”可知，各国的成文法是不统一的，各国都进行了改良，之前的制度有一些被优化掉了。C项“瓦解”比喻分裂、分离，符合文

意，当选。A项“消失”指完全没有了、B项“崩溃”指彻底破坏、完全垮台、D项“废除”意为取消、废止，三项用于此处均程度过重，文意为旧的制度被各国优化了，现在需要改掉旧的，使能适应客观情况，并非将所有的旧制度完全废除，排除。

第二空代入验证，横线处体现这些改革还不能与战国变法进行同维度的比较，C项“相提并论”指把不同的人或事物混在一起谈论或看待，符合文意，当选。

故正确答案为C。

26、第一空，根据前文“经济发展面临的国际环境和国内条件都在发生深刻而复杂的变化”可知，推进改革的过程中遇到困难和挑战是正常的、难免的。A项“理所当然”指按道理应该这样、B项“不可避免”指某事不能不发生、C项“毋庸置疑”指事实明显或理由充分，没有怀疑的余地，三项均符合文意，保留；D项“接二连三”指一个接着一个，接连不断，文段未体现困难和挑战是连续不断的，与文意不符，排除；

第二空，根据“又要增强忧患意识”“妥善应对经济领域可能出现的重大风险”可知，要在事情发生前，早做准备。B项“未雨绸缪”比喻事先做好准备工作，符合文意，当选；A项“见机行事”看具体情况灵活办事、C项“稳扎稳打”有把握、有步骤地工作，两项均无法体现“事前做好准备”之意，排除。

故正确答案为B。

27、第一空，用以形容“月黑风高无人见”的行为，即在天地昏黑的夜晚做错事便认为无人知晓，从而乱了心智。A项“威逼利诱”用软硬兼施的手段，企图使人屈服，与文意无关，排除；B项“自欺欺人”指既欺骗自己，也欺骗别人，符合文意，保留；C项“欲盖弥彰”指想掩盖坏事的真相，结果反而更明显地暴露出来，不合文意，文段仅强调做错事后自我欺骗，排除；D项“掩耳盗铃”本指偷铃铛怕别人听见而捂住自己的耳朵，比喻自己欺骗自己，明明掩盖不住的事情偏要想法子掩盖，符合文意，保留。

第二空，体现在“法不责众”的错误认识导致的结果，“法不责众”指某种行为即使应受到法律的惩罚，但很多人都那样干，也就不好惩罚了。B项“恣意妄为”，意思是随心所欲，胡作非为，符合文意，当选。D项“渐行渐远”是指由于人的性格、观念、背景、立场等的不同，以至于本来很要好的两个人，形同陌路，多用于形容两个人的关系，此处搭配不当，排除。

故正确答案为B。

28、第一空，根据横线前“但”可知，此处构成转折关系，所填词语应与前文“对明星、公众人物表情包的侵权认定存在较大难度”语义相反，体现不能随意创作和使用明星、公众人物表情包之意。B项“肆无忌惮”指非常放肆，一点没有顾忌，C项“随心所欲”指随着自己的意思，想要干什么就干什么，两项置于此处均符合文意，保留。A项“自以为是”指认为自己是正确的，D项“异想天开”指想法很不切实际，非常奇怪，两项均与文意无关，排除。

第二空，根据前文“随着互联网相关法律法规的进一步完善”可知，未来表情包的使用将会有法可依。C项“有章可循”指有章程或法律可以依据或遵守，符合文意，当选。B项“恰到好处”指恰好达到了最适当的地步，与文意不符，排除。

故正确答案为C。

29、第一、二空，根据“表达的是一种对主流的不满”可知，两空词语均应体现不满意、不愉快的含义，感情色彩偏消极。A项“漠视”指轻视，不重视，“卖弄”指炫耀、夸耀或骄傲地显示；B项“嘲讽”指嘲弄讥讽，“炫耀”指刻意向他人展现自己认可的事物，从而获得别人的赞美与羡慕，两项均符合文意，保留。C项“消解”指消释，消除，“强调”指突出某事，重视某事，两项均为中性词，与文段感情色彩不符，排除；D项“不屑”形容轻蔑、轻视，偏消极，但“凸显”指凸出显露，为中性词，第二空与文段感情色彩不符，排除。

第三空，搭配“身份认同”。“对身份认同的期待”与“对身份认同的渴求”均搭配得当。

最后，须从A、B项中对比择优，第一空，B项“嘲讽”，较A项“漠视”程度更重，更加能够体现青年人对于主流文化的不满，契合“恶搞文化”的语境，当选。

故正确答案为B。

30、第一空，根据后文“被生活表象掩盖”以及“要挖掘生活的真实”可知，空处所填词语应与“表象”意思相反，且与“真实”意思相近，“表象”指外在的，通过感知而形成的感性形象，D项“本质”指内在的，本身所固有的根本属性，二者意思相反，当选。A项“规律”指事物间的必然联系，B项“真理”指客观事物及其规律在人的头脑中的正确反映，C项“价值”多形容事物的用途或积极作用，均不能与“表象”构成反义，排除。

验证选项，第二空，电影创作者需要通过语言文字符号等呈现生活场景，搭配得当。第三空，“因此”表示因果关系，根据前文可知，电影既需要展现艺术，还需要展现生活现实，很难同时实现，“同构”指事物的构成和构成方式相同，符合文意，当选。

故正确答案为D。

31、文段开篇指出熟练运用一门外语与熟练掌握国际法律规则体系是涉外法治人才不可或缺的基本功，接着通过转折词“但”进行转折，强调只掌握这两门必修课远远不够，接着又通过“应”给出对策，指出高素质涉外法治人才国际化实务能力的培养应是跨学科人才培养的系统工程。结尾通过“需要”进一步指出法学院校应整合涉外法治人才能力培养的院系，与法律实务部门协力完成。故文段重点为解决问题的对策，即涉外法治人才培养应是一项跨学科人才培养的系统工程，并且要整合相关院系，与法律实务部门协同完成，对应D项，其中“顶层设计”指统揽全局，是对文段对策“整合”“协力”的同义替换。

- A 项，“不能仅靠法学院”表述不明确，文段已明确指出应该怎么做，排除；
- B 项，“应着重提升国际化实务能力”表述过于笼统、不明确，未点明具体怎么做，排除；
- C 项，“要把外语和国际法律列为专业必修课”是转折之前的内容，非文段重点，排除。
- 故正确答案为 D。

32、文段开篇将科学比作成种子，指出科学培养的重要性，接着指出当前普遍存在科学课专业老师较少的问题，即老师较少，无法覆盖全体学生。接下来文段通过并列的形式提出“让更多孩子的科学潜质得到释放”的对策，一方面需要补齐师资短板，提升科学教育的整体水平；另一方面需要利用网络课程开放科学教育内容；此外还要引导科普资源和服务向欠发达地区倾斜。故文段为“提出问题——解决问题”的行文脉络，重点在解决问题，强调采取多种措施推动我国科普教育的普及，对应 A 项。

- B 项，“提升科学教育师资水平”只能对应文段“一方面”之后的内容，表述片面，排除；
- C 项，“科学资源的分配”及“区域平衡”只能对应结尾“此外”之后的内容，表述片面，排除；
- D 项，“让孩子享受科学教育的乐趣”无中生有，偏离文段重点，排除。
- 故正确答案为 A。

33、文段首句引出《诗经》的话题，第二句介绍现今学者们借用《诗经》文本研究歌唱形态以及周代诗乐制度已取得不少成果，随后通过转折词“但是”指出今本《诗经》文本损失大量信息，尾句通过结论词“因此”总结前文，强调借助今本《诗经》探寻《诗经》歌唱诸问题有局限性，无法真实、全面还原真实面貌。故文段为“分总”结构，意在介绍通过今本《诗经》研究周代诗乐的局限性，对应 C 项。

- A、B 项，未包含文段主题词“今本《诗经》”，偏离文段核心话题，排除；
- D 项，“乐用信息非常有限”对应结论前内容，非重点，排除。

故正确答案为 C。

34、文段开篇指出随着吐鲁番文书等文献的陆续发现，曾经“不登大雅之堂”的民间文书进入研究者视野。接着指出民间文书的特点，强调它反映普通百姓的生活面貌。后文重点论述了民间文书是研究古代社会各阶层经济活动和精神生活的宝贵资料，是时代的印记，独特不可复制，具有学术、文化和文物价值。故文段属于分总结构，重点强调民间文书的研究意义和价值，对应 A 项。

- B 项，“还原普通百姓的生活面貌”对应民间文书的特点，文段重在强调其研究价值，偏离重点，排除；
- C 项，“摆脱了‘不登大雅之堂’的窘境”对应文段开篇背景引入的部分，偏离文段重点，排除；
- D 项，“古代历史研究的重要突破”无中生有，且表述不明确，排除。

故正确答案为 A。

35、本题为接语选择题，应重点关注尾句。文段开篇指出多普勒效应的定义及其在测速雷达和彩超方

面的应用，接着指出多普勒效应在宇宙学研究中也大放异彩。结尾通过转折词“但”指出，与多普勒效应极高的知名度相比，多普勒本人的经历却鲜为人知：全名被谬传，大半生都被拒绝，多普勒效应当天的会场也没什么观众。故文段接下来应继续围绕多普勒本人的经历进一步展开论述，对应C项。

A项，“宇宙大爆炸理论”与文段尾句核心话题不一致，排除；

B项，“多普勒效应”并非尾句核心话题，排除；

D项，“天文学家建立宇宙模型的基础”与多普勒本人经历无关，偏离文段尾句核心话题，排除。

故正确答案为C。

36、文段开篇指出温暖湿润的气候能够对农产品的丰足提供保证，从而确保国富民安，接着以初唐和盛唐时期为例，当时的气候确保黄河中下游地区水土肥沃，从而使得北方游牧民族的日子好过，也为盛唐提供了基础条件。接着通过转折词“然而”指出，到了8世纪，气候的变化使得农业减产，动摇了大唐帝国的根基，再加上安史之乱等事件影响，最终灭亡，之后指出宋朝和明朝也经历了类似的气候周期。结尾作者进行总结，指出古代农业帝国的宿命——成也气候，败也气候。故整个文段围绕“气候”对于古代农业帝国的重要性来论述，横线句中的“这”指代前文的核心话题，即根本原因为当时正处于温暖湿润的气候，对应B项。

A项，根据“农业减产动摇了国本”可知，唐王朝后期农业并不发达，选项表述有误，并非“这”所指代内容，排除；

C项，“黄河提供了良好的生产条件”虽位于“这”之前，但是“良好条件”是由“温暖湿润的气候”这一核心原因带来的，并非“这”所指代的内容，排除；

D项，“盛唐执行开放宽容的边疆政策”文段未提及，并非“这”所指代内容，排除。

故正确答案为B。

37、文段开篇指出科技深度介入竞技体育带来的好处，包括提升成绩、延长运动员的运动生命周期、提高竞赛精彩程度等，接着通过“当然”指出科技是一柄双刃剑，体育科技的运用可能会带来不公平的现象，包括有条件的国家和运动员可以使用更先进的设备、更科学的训练方法，将经济领域的不平等延伸到体育领域，同时加剧运动员的科技异化程度。故文段为并列文段，重点强调科技深度介入体育竞技这一现象，是一柄双刃剑，既有利也有弊，对应D项。

A项，文段只是客观论述科技深度介入竞技体育带来的利弊，至于要不要严防科技带来的不公，并无明确论述，且选项对策片面，文段除了提出“不公平”问题之外，还论述了“加剧竞技运动员的科技异化程度”的问题，选项对策不能解决文段问题，排除；

B项，“科技深度介入竞技体育，早已是当今体坛的趋势”无中生有且偏离文段重点，排除；



C项，“竞技体育运动员的成绩要靠汗水浇灌”文段未提及，无中生有，且“要靠科技护航”偏离文段重点，排除。

故正确答案为D。

38、A项，“研发情况”文段未提及，无中生有，当选；

B项，根据“矿区采矿道路条件较差，无固定清晰路标”可知，文段提及了工作环境，排除；

C项，根据“路面循迹避障的算法设计是无人矿车驾驶系统的难点之一”以及“协调工作设计也是重难点”可知，文段提及了技术难点，排除；

D项，根据“有利于调度中心更加准确掌握车辆状态·····具有广阔的市场前景”可知，文段提及了应用前景，排除。

本题为选非题，故正确答案为A。

39、A项，根据文段“句芒，是我国古代民间神话中的木神、春神、东方之神，主管树木的发芽生长，象征对自然环境的敬畏与责任”可知，“名字的由来”文段已论述，排除；

B项，根据文段“‘句芒号’是世界首颗森林碳汇主被动联合观测的遥感卫星，能够实现·····进而计算·····”可知，“卫星的功能”文段已论述，排除；

C项，根据文段“进而计算出森林碳汇，即‘森林植被吸收并存储的二氧化碳量’”可知，该项文段已论述，排除；

D项，“国外碳汇观测卫星的情况”文段未涉及，无中生有，当选。

本题为选非题，故正确答案为D。

40、文段开篇论述神话传说的重要性，接着指出华夏文明有许多关于音乐的传说。随后讲述昆仑音乐这一具体的传说，并强调昆仑音乐的意义，即奠定了中华民族音乐多元一体格局，展现了各民族音乐艺术的辉煌开端。因此，文段的主题为“音乐”，重在说明昆仑音律对中华音乐文化的重要意义，对应C项。

A项，“中国神话谱系与中华文化认同”偏离文段重点，文段重在介绍昆仑音律对中华音乐文化的意义，排除；

B项“中华文化符号”、D项“昆仑文化”均表述不明确，未提及主题词“音乐”，排除。

故正确答案为C。

41、横线在开头，冒号表解释说明，应概括后文内容。文段开篇提出大多数人认为亲密关系涉及经济往来会招致非议。冒号后提出“分隔领域”学说和“敌对世界”模型两种不同观点，接着通过“亲密关系不应沾染金钱和经济”论证“理性和情感分属两个领域”的“分隔领域”学说，并借由泽利泽的例子佐证理性和感情会相互干扰的“敌对世界”模型。故文段为总分结构，横线处所填句子应对两种观点作全面概

括，对应 A 项。

B 项，“道德和社会意义”，文段未提及，无中生有，排除；

C 项，“本质上是一种经济关系”对应解释说明的内容，非重点，且更倾向于社会学家泽利泽的观点，片面，排除；

D 项，“价值观上的分歧”，文段未提及，无中生有，排除。

故正确答案为 A。

42、横线出现在开头，是对全文的总结概括。横线后指出当前经济全球化受到挫折、发展不确定因素增多及现有国际秩序和贸易体系受到挑战的问题，接着指出产业数字化是解决上述问题的重要破局手段，受到各国的高度关注。接下来分别介绍了发达国家巩固数字经济领域的主导地位，以及发展中国家抢抓国际产业转移和再分工的机遇。故文段重点强调不论是发达国家还是发展中国家，产业数字化都是重要的破局手段，即对世界各国来说，产业数字化是抢占国际竞争新优势的必要选择，对应 D 项。

A 项，“数字经济增长的核心引擎”无中生有，且缺少核心词“世界各国”，排除；

B 项，“经济转型升级”无中生有，且缺少核心词“世界各国”，排除；

C 项，“数字经济融合创新”无中生有，且缺少核心词“世界各国”，排除。

故正确答案为 D。

43、横线出现在文段结尾，应总结前文。文段开篇提出过去的犯罪真相难以查明，需要对案情重构，并指出这一过程类似考古，均需要还原历史场景。接着通过转折词“不过”强调刑事诉讼与考古不同，最后通过“必须”提出对策，即刑事诉讼程序应遵守法定期限，对疑难案件必须有处置规则。故文段重点强调“规则”在刑事诉讼案件中的重要性，对应 B 项。

A 项，“以事实为依据”与前文核心话题“规则”无关，排除；

C 项，“如何理解法条文义”无中生有，排除；

D 项，“还原真相的过程”对应转折前，非重点，且文段并未强调结果会出错，而是侧重强调对期限之外悬而不决案件的处置规则，排除。

故正确答案为 B。

44、对比选项，确定首句。①句指出气候学家担心永久冻土会消失，④句论述当前预测永久冻土在本世纪末会消失三分之一左右，⑤句和⑥句均介绍了永久冻土融化的影响，按照逻辑顺序，应先说冻土消失再论述其消失后的影响，故①、④句应在⑤、⑥句前，对应 A 项，排除 B、C、D 项。

故正确答案为 A。

45、对比选项，确定首句，①句介绍敦煌研究涉及的学科较多，④句总结说明各类人文学科可在敦煌



会聚起来，根据逻辑顺序，应先列举敦煌研究涉及的学科很多，再进行总结，故④句应在①句之后，排除 B、D 项。

寻找线索，确定捆绑。⑤句出现了指代词“这些宝物”，对比 A、C 项，⑤句前分别为④句和③句，④句论述人文学科，不能与⑤句构成指代关系，排除 A 项。③句提到在敦煌找到大量不同语言、不同文化、不同信仰交流的证据，可与“这些宝物”构成指代关系，故应③⑤捆绑，C 项当选。

故正确答案为 C。

46、方法一：设原来有  $x$  人，根据租赁费用总额不变，可得： $280x = (x + 4) \times 240$ ，解得  $x = 24$  人。则该团队租赁公寓每月花费  $24 \times 280 = 6720$  元。

方法二：根据租赁总费用 = 平均每人的租赁费  $\times$  人数，在租赁费用总额不变的情况下，平均每人的租赁费与人数成反比，则  $\frac{\text{招聘后的人数}}{\text{招聘前的人数}} = \frac{280}{240} = \frac{7}{6}$ ，新招聘员工 4 人，则招聘前的人数为 24 人，总费用 =  $280 \times 24 = 6720$  元。

故正确答案为 C。

47、设该单位原来一共有  $x$  名工人。根据题意，可得： $\frac{32\%x - 24}{x - 40} = 25\%$ ，解得  $x = 200$ ，则该单位原有高级技工： $200 \times 32\% = 64$  名。

故正确答案为 B。

48、由题意可知，11 人随机挑选 3 人，总情况数为  $C_{11}^3 = 165$  种。

方法一：甲、乙二人中至多有一人被抽查，分为两种情况：

①甲、乙二人只有一人被抽查，有  $C_2^1 \times C_9^2 = 72$  种情况；

②甲、乙二人都没有被抽查，有  $C_9^3 = 84$  种情况。

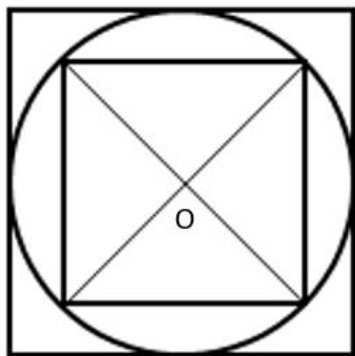
根据概率 =  $\frac{\text{满足条件的情况数}}{\text{总的情况数}}$ ，则所求概率 =  $\frac{72 + 84}{165} = \frac{52}{55}$ 。

方法二：正难则反。“甲乙二人中至多有一人被抽查”的反面为甲乙两人都被抽查到，情况数为： $C_9^1 = 9$  种，则所求概率为： $1 - \text{反面概率} = 1 - \frac{9}{165} = 1 - \frac{3}{55} = \frac{52}{55}$ 。

故正确答案为 D。

49、根据题意可知，原正方体的边长为 1。要使切割出的圆柱尽可能大，则圆柱体零件 A 的底面直径应为原正方体的边长为 1，且高为 1。再用 A 切割出的尽可能大的正方体零件 B 的截面如图所示，则正方体零

件 B 对角线的长度为 1, 根据等腰直角三角形三边比例关系  $1: 1: \sqrt{2}$ , 即正方体零件 B 的边长为  $\frac{1}{\sqrt{2}} = \frac{\sqrt{2}}{2}$ 。  
 故正方体零件 B 的体积  $= \frac{\sqrt{2}}{2} \times \frac{\sqrt{2}}{2} \times \frac{\sqrt{2}}{2} = \frac{\sqrt{2}}{4} \approx 0.35$ 。



故正确答案为 B。

50、设四个部门分得的计算机数量由大到小依次为  $a > b > c > d$ 。为满足题干分配要求, 其中数量最

少的需满足  $\begin{cases} d \geq \frac{a}{2} \\ d \geq \frac{b}{2} \\ d \geq \frac{c}{2} \end{cases}$ , 即  $\begin{cases} a \leq 2d \\ b \leq 2d \\ c \leq 2d \end{cases}$ , 则有  $a + b + c + d = 25 \leq 7d$ , 解得  $d \geq 3.57$ 。

分情况讨论:

①当  $d=4$  时,  $a \leq 8$ ;

若  $a=8$ , 则  $b + c = 25 - 12 = 13$ , 可知  $b=7, c=6$ ;

若  $a=7$ , 则  $b + c = 25 - 11 = 14$ , 无法找到满足题目要求的取值;

②当  $d=5$  时,  $a、b、c$ 、最少分别为 8、7、6, 加和大于 25, 不满足题意。

因此四个部门满足题意的数量分配仅有 4、6、7、8 一种情况。因四个部门不同, 则计算机分配方式共

有:  $1 \times A_4^4 = 1 \times 4 \times 3 \times 2 \times 1 = 24$  种。

故正确答案为 A。

51、根据题干“2016~2020 年...为...倍”, 可判定本题为现期倍数问题。定位统计表可知 2016~2020 年各年农业生产用水量及工业生产用水量相关数据, 则题干所求倍数为  $\frac{3768 + 3766 + 3693 + 3682 + 3613}{1308 + 1277 + 1262 + 1217 + 1030} \approx \frac{3800 + 3800 + 3700 + 3700 + 3600}{1300 + 1300 + 1300 + 1200 + 1000} = \frac{18600}{6100} \approx 3$  倍。

故正确答案为 B。

52、根据题干“···同比增速最快···”，可判定本题为一般增长率的比较问题。定位统计表可知 2014~2018 年全国生态用水量相关数据。根据公式：
$$\text{增长率} = \frac{\text{现期量} - \text{基期量}}{\text{基期量}}$$
，可得 2015~2018 年全国生态用水量同比增速分别为：

$$r_{2015} = \frac{123 - 103}{103} = \frac{20}{103} \approx 19\% ;$$

$$r_{2016} = \frac{143 - 123}{123} = \frac{20}{123} \approx \frac{1}{6} < 20\% ;$$

$$r_{2017} = \frac{162 - 143}{143} = \frac{19}{143} \approx \frac{1}{7} < 20\% ;$$

$$r_{2018} = \frac{201 - 162}{162} = \frac{39}{162} \approx 24\% .$$

比较可知，2018 年全国生态用水量同比增速最大。

故正确答案为 D。

53、定位统计表可知 2011~2017 年全国农业生产、工业生产、生活和生态四类用水量相关数据。2012 年用水量同比下降的有工业生产、生活和生态用水，共 3 类；2013 年用水量同比下降的有生态用水，共 1 类；2014 年用水量同比下降的有农业生产、工业生产、生态用水，共 3 类；2015 年、2016 年和 2017 年用水量同比下降的有农业生产、工业生产用水，共 2 类。综上，至少有三类用水量同比下降的年份为 2012 年和 2014 年。

故正确答案为 B。

54、根据题干“2021 年···占···比重···相较 2010 年”，结合选项为高/低+百分点，可判定本题为两期比重计算问题。定位统计表可知，2010 年全国生态用水量为 120 亿立方米，全国用水总量为 6022 亿立方米；2021 年全国生态用水量为 317 亿立方米，全国用水总量为 5920 亿立方米。根据公式：

$$\text{比重} = \frac{\text{部分}}{\text{总体}}, \text{则题干所求为 } \frac{317}{5920} - \frac{120}{6022} \approx \frac{317}{5900} - \frac{120}{6000} \approx 5.37\% - 2\% = 3.37\%$$
，即高不到 5 个百分点。

故正确答案为 A。

55、根据题干“以下折线图反映的是···同比增量的变化趋势”，可判定本题增长量的比较问题。定位统计表可知，2017~2021 年四类用水量相关数据。依次求出 2017~2021 年四类用水量的同比增量：农业生产：

$$2018 \text{ 年增长量} = 3693 - 3766 = -73 \text{ 亿立方米};$$

$$2019 \text{ 年增长量} = 3682 - 3693 = -11 \text{ 亿立方米};$$

$$2020 \text{ 年增长量} = 3613 - 3682 = -69 \text{ 亿立方米};$$

$$2021 \text{ 年增长量} = 3644 - 3613 = 31 \text{ 亿立方米}.$$

农业生产用水量同比增长量符合折线图变化趋势，无需验证其他三类。

故正确答案为 C。

56、根据题干“2020 年末，……较 2018 年末”，结合选项为增长/减少+百分数，结合材料重给出 2020 年数值，以及 2019 年数值及其增长量，可判定本题为一般增长率计算问题。定位材料第一段可知：2019 年末，全国共有文化市场经营单位 22.02 万家，较上年末减少 1.91 万家；定位材料第二段可知：2020 年末，全国共有文化市场经营单位 20.89 万家。则 2018 年全国文化市场经营单位共有

$22.02 + 1.91 = 23.93$  万家。根据公式：
$$\text{增长率} = \frac{\text{现期量} - \text{基期量}}{\text{基期量}}$$
，则所求  

$$= \frac{20.89 - 23.93}{23.93} \approx -\frac{3}{24} = -12.5\%$$
，即减少了 5% 以上。

故正确答案为 D。

57、根据题干“2020 年……平均每名……创造的营业收入……”，结合材料时间为 2020 年，可判定本题为现期平均数问题。定位材料第一段可知：2019 年末，全国文化市场经营单位从业人员 164.59 万人；定位材料第二段可知：2020 年末，全国文化市场经营从业人员 160.91 万人，全年营业收入 9967.49

亿元。则 2020 年平均从业人数为  $\frac{160.91 + 164.59}{2} \approx \frac{161 + 165}{2} = 163$  万人，因此题干所求  

$$\frac{\text{营业收入}}{\text{从业人员数量}} = \frac{9967.49}{163} \approx \frac{9967.49}{160} \approx 62 \text{ 万元/人}$$
，与 A 项最接近。

故正确答案为 A。

58、根据题干“2020 年末，……是……的多少倍”，结合材料时间为 2020 年末，可判定本题为现期倍数问题。定位材料第二段可知：2020 年末，演出市场单位 2.23 万个，从业人员 49.52 万人；经营性互联网文化单位 0.97 万家，从业人员 31.49 万人。则平均每个演出市场单位的从业人员数为

$\frac{49.52}{2.23} \approx 22$  人，平均每个经营性互联网文化单位的从业人员数为  $\frac{31.49}{0.97} \approx 32$  人。则题干所求倍数为  
 $\frac{22}{32} \approx 0.69$  倍，与 B 项最接近。

故正确答案为 B。

59、根据题干“……2020 年利润率从高到低排列”，可判定本题为比值比较。定位材料第二段可知，四类文化经营单位 2020 年的营业利润和营业收入。根据

$$\text{利润率} = \frac{\text{营业利润}}{\text{营业收入}}$$
，则利润率分别为：  
 ①娱乐场所： $\frac{5.33}{419.25} \approx 1\%$ ；  
 ②演出市场： $\frac{351.15}{2157.50} \approx 16.7\%$ ；

③艺术品经营机构： $\frac{9.29}{71.99} \approx 12.5\%$ ；

④经营性互联网文化单位： $\frac{1331.13}{7137.22} \approx 18.6\%$ 。

因此，利润率从高到低排序为④②③①。

故正确答案为 C。

60、根据题干“2019年……占……的比重”，结合材料给出2019年数据，可判定本题为现期比重问题。定位材料第一段可知2019年相关数据。根据饼形图主体分布规则，以12点指针位置为起点，各主体顺时针依次分布，代入选项进行验证。若表示营业收入，则娱乐场所占比为 $\frac{535.5}{8467.9} < 10\%$ ，空白部分不符，排除；若表示营业利润，则娱乐场所占比为 $\frac{71.55}{1046.58} < 10\%$ ，空白部分不符，排除；若表示年末单位数，则互联网上网服务营业场所占比为 $\frac{11.6809万}{22.02万} > 50\%$ ，第二个主体部分不符，排除。

故正确答案为 D。

61、元素组成不同，且无明显属性规律，优先考虑数量规律。观察发现，题干图形均出现明显空白封闭区域，考虑数面数量。图①②⑤均有5个面，图③④⑥均有4个面。即①②⑤一组，③④⑥一组。

故正确答案为 B。

62、元素组成相同，优先考虑位置规律。观察发现，图①②⑤均可由同一图形（图①）旋转得到，图③④⑥均可由另一个图形（图③）旋转得到。即①②⑤一组，③④⑥一组。

故正确答案为 A。

63、元素组成不同，优先考虑属性规律。观察发现，每幅图均可看做由三个小图形拼合而成，考虑分开看。第一组图形中，每幅图均只有1个轴对称小图形，并且对称轴依次旋转 $90^\circ$ ，第二组前两幅图中，每幅图均只有1个轴对称小图形，并且对称轴依次旋转 $90^\circ$ ，故？处应选择由三个小图形拼合而成，且其中只有1个包含右斜方向对称轴的小图形，只有 B 项符合。

故正确答案为 B。

64、元素组成不同，且无属性规律，考虑数量规律。观察发现，题干中出现“圆”相切、“圆”相交及其变形图，优先考虑笔画数。第一组所有图形均为一笔画图形，第二组前两幅图均为一笔画图形，故？处应选择一笔画图形，只有 C 项符合。

故正确答案为 C。

65、元素组成不同，且无明显属性规律和数量规律，考虑特殊规律。观察发现，图形①③⑤三个封闭面均独立存在，图形②④⑥中有两个面是包含关系，即图①③⑤为一组，图②④⑥为一组。

故正确答案为 C。

66、第一步：找出定义关键词。

“发现自己没有任何事务安排和计划，一片‘空白’”、“感到不安、恐慌，硬要找点事情做或虚假做事”、“对于别人在社交平台上所展示的‘充实’状态感到不安”。

第二步：逐一分析选项。

A 项：小林觉得回去也不能立刻休息，于是也和同学去了图书馆，不是发生在社交平台上，且在此过程中小林并未感到不安和恐慌，不符合“感到不安、恐慌，硬要找点事情做或虚假做事”、“别人在社交平台上所展示的‘充实’状态感到不安”，不符合定义，排除；

B 项：小丽看到朋友发的带娃出游的照片，想到自己很少有时间能够带孩子出游，觉得很抱歉，不符合“硬要找点事情做或虚假做事”，不符合定义，排除；

C 项：小明跟朋友在一起无所事事闲逛了一天，感觉很焦虑，不是发生在社交平台上，不符合“别人在社交平台上所展示的‘充实’状态感到不安”，且未体现硬要找点事情做或虚假做事，不符合“硬要找点事情做或虚假做事”，不符合定义，排除；

D 项：小方看到同事在朋友圈分享了每周计划，而自己却没什么安排，担心被落下，符合“发现自己没有任何事务安排和计划，一片‘空白’”、“对于别人在社交平台上所展示的‘充实’状态感到不安”，报了并不需要的培训班，符合“硬要找点事情做或虚假做事”，符合定义，当选。

故正确答案为 D。

67、第一步：找出定义关键词。

“追求速成、通俗、短期流行”、“不注重深厚积累和内在价值的文化思潮和文化现象”。

第二步：逐一分析选项。

A 项：方便面是能快速让顾客食用的食品，不是文化现象，不符合“不注重深厚积累和内在价值的文化思潮和文化现象”，不符合定义，排除；

B 项：家长为了自己的孩子能够赢在起跑线上，抢报各种兴趣培训班，是家长对于孩子的教育焦虑，不符合“不注重深厚积累和内在价值的文化思潮和文化现象”，不符合定义，排除；

C 项：“五分钟看大片”通过在短时间内让受众了解影视剧情而深受年轻人的欢迎，但是也简化了完整电影所能传递出的细节，以及价值内核，符合“追求速成、通俗、短期流行”、“不注重深厚积累和内在价值的文化思潮和文化现象”，符合定义，当选；

D 项：学生利用思维导图的方式，快速掌握学科知识，提高学习的效率和效果，是一种学习方式，不符合“追求速成、通俗、短期流行”、“不注重深厚积累和内在价值的文化思潮和文化现象”，不符合定义，

排除。

故正确答案为 C。

68、第一步：找出定义关键词。

主谓式：例如“地震”“日食”；

动宾式：例如“下岗”“督学”；

并列式：例如“师生”“褒贬”；

偏正式：例如“飞快”“绿叶”；

补充式：例如“提高”“照亮”。

第二步：逐一分析选项。

A 项：“文具”是指笔、墨、纸、砚等用具，并非是按照造句的规则来创造的新词，未运用上述形式，“文具店”运用了偏正式，所以“文具店”仅运用了一种形式，当选；

B 项：“脱粒”运用了动宾式，“脱粒机”运用了偏正式，所以“脱粒机”综合运用了上述两种形式，排除；

C 项：“辅导”指辅助和指导，运用了并列式，“辅导班”运用了偏正式，所以“辅导班”综合运用了上述两种形式，排除；

D 项：“国营”指国家经营的，运用了主谓式，“国营厂”运用了偏正式，所以“国营厂”综合运用了上述两种形式，排除。

本题为选非题，故正确答案为 A。

69、第一步：找出定义关键词。

“事件 A 只是引发情绪和行为的后果 C 的间接原因”“引起 C 的直接原因则是个体对事件 A 的认知和评价而产生的信念 B”。

第二步：逐一分析选项。

A 项：甲、乙两人同时被丙所骗，而对被骗这件事的态度不同，态度不同的原因是两人心态乐观与否，而不是对于被骗这件事本身的评价，不符合“引起 C 的直接原因则是个体对事件 A 的认知和评价而产生的信念 B”，不符合定义，排除；

B 项：甲玩游戏到深夜，第二天起来迟了，于是打车去上班，结果迟到，甲将迟到这一结果归咎于司机技术不熟练，但根本原因是自己玩游戏到深夜导致起床迟，不符合“事件 A 只是引发情绪和行为的后果 C 的间接原因”“引起 C 的直接原因则是个体对事件 A 的认知和评价而产生的信念 B”，不符合定义，排除；

C 项：甲、乙两人去看国际画展，对于画作的评价不同，评价不同的原因在于个人的喜好不同，不符合



“事件 A 只是引发情绪和行为的后果 C 的间接原因” “引起 C 的直接原因则是个体对事件 A 的认知和评价而产生的信念 B”，不符合定义，排除；

D 项：甲、乙两人应聘后均未被录用，甲无所谓，而乙伤心欲绝，因为甲认为，这次应聘只是试一试，增加临场经验；而乙则是多日准备，志在必得。甲乙心情不同的原因正是在于两人对未被录用这件事的认知和评价不同，符合“事件 A 只是引发情绪和行为的后果 C 的间接原因” “引起 C 的直接原因则是个体对事件 A 的认知和评价而产生的信念 B”，当选。

故正确答案为 D。

70、第一步：找出定义关键词。

“从个体的遗传、环境、心理、生活方式和生理的联动关系入手”、“通过研究个体由生理功能下降到病理改变的发病过程”、“判断功能变化程度、疾病的发展进程”、“找出功能下降及疾病产生的原因”、“做到早期发现疾病及预防未来疾病的发生”。

第二步：逐一分析选项。

A 项：个性化治疗干预即针对不同个体给予不同的治疗和干预方案，符合“通过研究个体由生理功能下降到病理改变的发病过程”、“找出功能下降及疾病产生的原因”、“做到早期发现疾病及预防未来疾病的发生”，符合定义，排除；

B 项：病理诊断即通过医学手段进行的病理标本检查，不符合“从个体的遗传、环境、心理、生活方式和生理的联动关系入手”，病理诊断与药物都是在疾病发生之后所采取的医学行为，不符合“做到早期发现疾病及预防未来疾病的发生”，不符合定义，当选；

C 项：没有临床疾病不等于健康，说明要在病症显现之前就对生理功能进行判断和评估，符合“通过研究个体由生理功能下降到病理改变的发病过程”、“判断功能变化程度、疾病的发展进程”、“做到早期发现疾病及预防未来疾病的发生”，符合定义，排除；

D 项：关注整体功能变化，即对个体的生理功能进行整体性的综合评估与研究，符合“从个体的遗传、环境、心理、生活方式和生理的联动关系入手”、“通过研究个体由生理功能下降到病理改变的发病过程”、“判断功能变化程度、疾病的发展进程”，符合定义，排除。

本题为选非题，故正确答案为 B。

71、第一步：找出定义关键词。

“由生态系统自然生产或人类社会劳动生产，或由两种生产共同作用提供的”、“能维系生态安全、保障生态调节功能、提供良好人居环境的，满足人民日益增长的美好生活需要的产品或服务”。

第二步：逐一分析选项。

A项：对生活污水和工业废水再生利用的再生水是由人类社会劳动生产的，且人工湿地具有生态调节功能，符合“由生态系统自然生产或人类社会劳动生产，或由两种生产共同作用提供的”、“能维系生态安全、保障生态调节功能、提供良好人居环境的，满足人民日益增长的美好生活需要的产品或服务”，符合定义，排除；

B项：可鲁克湖是由生态系统自然生产的，该湖水草繁盛候鸟成群，说明能保障生态调节功能、提供良好人居环境，符合“由生态系统自然生产或人类社会劳动生产，或由两种生产共同作用提供的”、“能维系生态安全、保障生态调节功能、提供良好人居环境的，满足人民日益增长的美好生活需要的产品或服务”，符合定义，排除；

C项：国家森林公园集自然景观和民族风情于一体，是生态系统和人类生产共同提供的，且具有生态调节功能，符合“由生态系统自然生产或人类社会劳动生产，或由两种生产共同作用提供的”、“能维系生态安全、保障生态调节功能、提供良好人居环境的，满足人民日益增长的美好生活需要的产品或服务”，符合定义，排除；

D项：采集橡胶制成的汽车轮胎是由人类社会劳动生产的，但轮胎不具有维系生态安全、保障生态调节的功能，不符合“由生态系统自然生产或人类社会劳动生产，或由两种生产共同作用提供的”、“能维系生态安全、保障生态调节功能、提供良好人居环境的，满足人民日益增长的美好生活需要的产品或服务”，不符合定义，当选。

本题为选非题，故正确答案为D。

72、第一步：找出定义关键词。

火性思维：“首先根据一些规范或者要求来对其进行评价，并据此采取相关匡正行为”；

水性思维：“首先对其进行理解，并据此采取顺势而为的行为”。

第二步：逐一分析选项。

①小陈看到家长纵容孩子践踏草坪就对家长进行提醒，不能随意践踏草坪属于社会规范，小陈遇到事情根据社会规范采取行为，符合“首先根据一些规范或者要求来对其进行评价，并据此采取相关匡正行为”，符合火性思维；

②小赵根据领导的要求让到固定摊位售卖，属于根据规范或要求采取行为，符合“先根据一些规范或者要求来对其进行评价，并据此采取相关匡正行为”，符合火性思维；

③小陆的爸爸看到有车突然停在正常行走的小陆面前，觉得对方可能有急事，应该理解，符合“首先对其进行理解，并据此采取顺势而为的行为”，符合水性思维。

故正确答案为D。

73、第一步：找出定义关键词。

电子对抗：“敌对双方为削弱、破坏对方电子设备的使用效能，保障己方电子设备发挥效能而采取的各种电子措施和行动”；

电子对抗侦察：“搜集敌方电子设备信息的侦察”；

电子防御：“在敌方实施电子对抗的情况下”、“为保障己方电子设备和电子系统发挥效能而采取的措施和行动”。

第二步：逐一分析选项。

A项：侦听敌方雷达，识别其所在位置，获取参数符合“搜集敌方电子设备信息的侦察”，符合“电子对抗侦察”定义，排除；

B项：为己方战机涂抹材料，使敌方雷达无法探测到，是为了避免被敌方电子设备侦察，不符合“搜集敌方电子设备信息的侦察”、“在敌方实施电子对抗的情况下”、“为保障己方电子设备和电子系统发挥效能而采取的措施和行动”，不符合任何定义，当选；

C项：受到反雷达导弹攻击，符合“在敌方实施电子对抗的情况下”，为保障己方设备，利用发射信号使导弹无法定位偏离方向，符合“为保障己方电子设备和电子系统发挥效能而采取的措施和行动”，符合“电子防御”定义，排除；

D项：通过设备收集敌方设备信息，符合“搜集敌方电子设备信息的侦察”，符合“电子对抗侦察”定义，排除。

本题为选非题，故正确答案为B。

74、第一步：找出定义关键词。

命令性规范：“规定人们的积极义务”、“人们必须或应当作出某种行为的规范”。

禁止性规范：“规定人们的消极义务（不作为义务）”、“禁止人们作出一定行为的规范”。

第二步：逐一分析选项。

①禁止用任何方法对公民进行侮辱、诽谤和诬告陷害，是对人们不能做出某种行为的规范，符合“规定人们的消极义务（不作为义务）”、“禁止人们作出一定行为的规范”，符合禁止性规范；

②行为人与相对人恶意串通，损害他人合法权益的民事行为无效，是对人们行为有效性的判定，而不是对人们是否应当做出某种行为的规范，不符合“规定人们的积极义务”、“人们必须或应当作出某种行为的规范”、“规定人们的消极义务（不作为义务）”、“禁止人们作出一定行为的规范”，不符合命令性规范和禁止性规范；

③公安机关拘留人的时候，必须出示拘留证，是对人们必须做出某种行为的规范，符合“规定人们的

积极义务”、“人们必须或应当作出某种行为的规范”，符合命令性规范；

④对当事人的同一个违法行为，不得给予两次以上罚款的行政处罚，是对人们不能做出某种行为的规范，符合“规定人们的消极义务（不作为义务）”、“禁止人们作出一定行为的规范”，符合禁止性规范。

故正确答案为 D。

75、第一步：找出定义关键词。

“有关演员或摄影机活动位置的调度”、“起到刻画人物性格、表现人物关系、渲染场面气氛、交代时空间隔等作用”。

第二步：逐一分析选项。

A 项：采用特殊剪辑手法，让处于不同时空的人物同时呈现在同一个画面上，是通过剪辑来实现画面的呈现，不符合“有关演员或摄影机活动位置的调度”，不符合定义，排除；

B 项：跟拍某演员从进门一直走到房子深处的角落，其中涉及到演员位置及摄像机位置的变化，符合“有关演员或摄影机活动位置的调度”。用透视关系表现空间感，符合“起到刻画人物性格、表现人物关系、渲染场面气氛、交代时空间隔等作用”，符合定义，当选；

C 项：设置充满阳光的布景，播放欢快的音乐，属于对拍摄场景和背景音乐的设计，不符合“有关演员或摄影机活动位置的调度”，不符合定义，排除；

D 项：拍摄演员两次见到某人的表情变化，是在拍摄过程中对于演员表情的捕捉，不符合“有关演员或摄影机活动位置的调度”，不符合定义，排除。

故正确答案为 B。

76、第一步：判断题干词语间逻辑关系。

闭门造车意为关起门来造车，闭门是为了造车，二者为方式目的对应关系。

第二步：判断选项词语间逻辑关系。

A 项：抛砖引玉意为抛出砖去，引回玉来，抛转是为了引玉，二者为方式目的对应关系，与题干逻辑关系一致，当选；

B 项：震耳欲聋意为耳朵都快震聋了，形容声音很大，震耳不是欲聋的方式，与题干逻辑关系不一致，排除；

C 项：冷言和冷语都是指带讥讽意味的冷冰冰的话，二者为近义关系，与题干逻辑关系不一致，排除；

D 项：曲高和寡意为曲调高深，能跟着唱的人就少，因为曲高，所以和寡，二者为因果对应关系，与题干逻辑关系不一致，排除。

故正确答案为 A。

77、第一步：判断题干词语间逻辑关系。

汽锅鸡和竹筒饭都是食物，二者为并列关系。汽锅鸡制作时需要用到汽锅，竹筒饭制作时需要用到竹筒，二者都是根据制作工具进行命名。

第二步：判断选项词语间逻辑关系。

A项：螺蛳粉和东坡肉都是食物，二者为并列关系。螺蛳粉是根据原材料进行命名，东坡肉是根据创制人进行命名，与题干逻辑关系不一致，排除；

B项：瓦罐鱼和小笼包都是食物，二者为并列关系。瓦罐鱼制作时需要用到瓦罐，小笼包制作时需要用到小笼，二者都是根据制作工具进行命名，与题干逻辑关系一致，当选；

C项：铁板烧和三杯鸡都是食物，二者为并列关系。铁板烧制作时需要用到铁板，是根据制作工具进行命名，三杯鸡因烹饪时使用一杯酒、一杯酱油和一杯食用油而得名，是根据原材料进行命名，与题干逻辑关系不一致，排除；

D项：盐水鸭和担担面都是食物，二者为并列关系。盐水鸭是根据原材料进行命名，担担面因最初挑着担子沿街叫卖得名，是根据售卖方式进行命名，与题干逻辑关系不一致，排除。

故正确答案为B。

78、第一步：判断题干词语间逻辑关系。

“泰山北斗”比喻道德高、名望重或有卓越成就为众人所敬仰的人，德高望重是泰山北斗所具备的特点，二者为属性对应关系。

第二步：判断选项词语间逻辑关系。

A项：“天罗地网”比喻防范布置得极为严密而无法逃脱，防范严密是天罗地网所具备的特点，二者为属性对应关系，与题干逻辑关系一致，当选；

B项：“钟鸣鼎食”形容富贵豪华，“金玉满堂”形容财富极多，也形容学识丰富，二者为近义关系，与题干逻辑关系不一致，排除；

C项：“人才辈出”形容有才能的人不断地大量涌现，“卧虎藏龙”是指隐藏着未被发现的人才，也指隐藏不露的人才，二者无明显逻辑关系，与题干逻辑关系不一致，排除；

D项：“珠联璧合”比喻杰出的人才或美好的事物结合在一起；“关系亲密”指亲近密切，二者无明显逻辑关系，与题干逻辑关系不一致，排除。

故正确答案为A。

79、第一步：判断题干词语间逻辑关系。

口若悬河形容能说善辩，话语不断；喋喋不休指说话唠唠叨叨，没完没了，二者为近义关系。且口若

悬河是中性词，喋喋不休是贬义词。

第二步：判断选项词语间逻辑关系。

A项：好高骛远指不切实际地追求过高过远的目标；高瞻远瞩意思是站得高，看得远，比喻眼光远大。

二者无明显逻辑关系，排除；

B项：能言善辩形容能说会道、有辩才；巧舌如簧形容能说会道，善于狡辩。二者为近义关系，且能言善辩为中性词，巧舌如簧为贬义词，与题干逻辑关系一致，当选；

C项：独占鳌头指在竞争中夺得首位；鹤立鸡群比喻一个人的仪表或才能在周围一群人里显得很突出。

二者为近义关系，但两词均是褒义词，与题干逻辑关系不一致，排除；

D项：百无聊赖形容人思想感情无所寄托，非常无聊；兴趣索然意思是一点儿兴趣都没有。二者为近义关系，但百无聊赖是贬义词，兴趣索然是贬义词，与题干逻辑关系不一致，排除。

故正确答案为B。

80、第一步：判断题干词语间逻辑关系。

“近乡情更怯，不敢问来人”意思是越走近故乡心中越是胆怯，不敢向故乡来的人打听，因为“近乡情更怯”，所以“不敢问来人”，二者为因果对应关系。

第二步：判断选项词语间逻辑关系。

A项：“空山不见人，但闻人语响”意思是幽静的山谷里看不见人，只能听到那说话的声音，二者不是因果关系，与题干逻辑关系不一致，排除；

B项：“松下问童子，言师采药去”意思是在松树下向隐者的徒弟打听隐者，他回答说师傅采药去了，二者不是因果关系，与题干逻辑关系不一致，排除；

C项：“君自故乡来，应知故乡事”意思是您是刚从我们家乡来的，一定了解家乡的人情世态。因为“君自故乡来”，所以“应知故乡事”，二者为因果对应关系，与题干逻辑关系一致，当选；

D项：“至今思项羽，不肯过江东”意思是人们到现在还思念项羽，只因他不肯偷生回江东。因为“不肯过江东”，所以“至今思项羽”，二者为因果对应关系，但词语顺序与题干相反，与题干逻辑关系不一致，排除。

故正确答案为C。

81、第一步：判断题干词语间逻辑关系。

大脑经过思考产生思想，三者间为产出物的对应关系。

第二步：判断选项词语间逻辑关系。

A项：心脏经过跳动为血液提供动力，血液并非心脏的产出物，与题干逻辑关系不一致，排除；



B项：肺脏经过呼吸获得空气，空气并非肺脏的产出物，与题干逻辑关系不一致，排除；

C项：编程可以产生软件，但软件的编程过程不需要芯片，与题干逻辑关系不一致，排除；

D项：车床经过切割产生产品，三者间为产出物的对应关系，与题干逻辑关系一致，当选。

故正确答案为D。

82、第一步：判断题干词语间逻辑关系。

信用卡和借记卡都是银行卡，信用卡和借记卡间为并列关系，二者与银行卡均为种属关系。

第二步：判断选项词语间逻辑关系。

A项：针织物和机织物都是纺织物，针织物和机织物间为并列关系，二者与纺织物均为种属关系，与题干逻辑关系一致，当选；

B项：保守派和激进派是两种不同的学派，二者为并列关系，但两面派是指表里不一的人，与前两词构成交叉关系，与题干逻辑关系不一致，排除；

C项：丁字路和十字路都是交叉路，丁字路和十字路间为并列关系，二者与交叉路均为种属关系，但词语顺序与题干不一致，排除；

D项：轩辕台和越王台属于两处名胜古迹，二者为并列关系，而主席台是指演说者或会议主持人就座的加高的台子，与前两词无明显逻辑关系，与题干逻辑关系不一致，排除。

故正确答案为A。

83、第一步：判断题干词语间逻辑关系。

走势图是把股票市场或期货市场等交易信息用曲线或K线在坐标图上加以显示的技术图形。股票与走势图为对应关系，交易信息是走势图所显示的对象，二者为对应关系。

第二步：判断选项词语间逻辑关系。

A项：心电图是利用心电图机从体表记录心脏每一心动周期所产生的电活动变化图形的技术。心脏与心电图为对应关系，但心脏结构不是心电图所显示的对象，与题干逻辑关系不一致，排除；

B项：计价器可以计算并显示乘坐出租车应付的费用，的士与计价器为对应关系，但运营范围不是计价器所显示的对象，与题干逻辑关系不一致，排除；

C项：海拔是指超出海平面的高度，地平线是指地面与天空的分隔线，二者间无明显逻辑关系，且判定地面起伏的依据一般为等高线，与题干逻辑关系不一致，排除；

D项：利润表是反映企业在一定会计期间的经营成果的财务报表，能够体现企业的经营情况，企业与利润表为对应关系，经营情况是利润表所显示的对象，二者为对应关系。与题干逻辑关系一致，当选。

故正确答案为D。



84、逐一代入选项。

A 项：铅笔和蜡笔均是文具，二者为并列关系；照片指用照相机拍得的画面、影像、肖像。亦称“相片”，二者为全同关系，前后逻辑关系不一致，排除；

B 项：蜡笔是画图画的工具，二者为工具的对应关系；相机可以用来拍照片，二者为工具的对应关系，前后逻辑关系一致，当选；

C 项：蜡笔是文具，二者为种属关系；相册可以用来装放照片，二者为功能对应关系，前后逻辑关系不一致，排除；

D 项：毛笔和蜡笔均是文具，二者为并列关系；照片是图像，二者为种属关系，前后逻辑关系不一致，排除。

故正确答案为 B。

85、逐一代入选项。

A 项：沟沟坎坎比喻做事时所遇到的困难与障碍，二者为比喻象征关系，风风光光原指像风一样跑得快、远，像光一样明亮、耀眼，现指有讲排场、摆阔气，二者为比喻象征关系，前后逻辑关系一致，当选；

B 项：沟沟坎坎与河流无明显逻辑关系，红红火火形容旺盛或经济优裕的生活，与排场无明显逻辑关系，前后逻辑关系不一致，排除；

C 项：山山水水泛指广袤辽阔的大地，与沟沟坎坎无明显逻辑关系，阔气与排场均可指场面豪华、奢侈、铺张，二者为近义关系，前后逻辑关系不一致，排除；

D 项：磕磕绊绊指因道路不平坦或腿脚有毛病而行走不方便，也指不太顺利，与沟沟坎坎为近义关系，奢华可以用来修饰排场，二者为偏正关系，前后逻辑关系不一致，排除。

故正确答案为 A。

86、第一步：找出论点和论据。

论点：不仅商王陵园存在明确规划，陵园外围也有较大段范围被划入缓冲区，禁止一般人占用。

论据：考古人员在河南安阳洹河北岸的殷墟商王陵及周边区域新勘探发现东西两个围沟及 400 余座祭祀坑。这两个围沟均围绕在殷商大墓外围，相距 40 米，在东围沟东段以东、南段以南，存在大范围空白区域，极少发现商代晚期遗存。

论据讨论的是在陵园外围极少发现商代晚期遗存，论点讨论的是陵园外围有较大段范围被划入缓冲区，禁止一般人占用，论点论据话题不一致，加强优先考虑搭桥。

第二步：逐一分析选项。

A 项：该项讨论在商王陵大墓内的情况，题干讨论的是陵园外围的情况，为无关项，无法加强，排除；

B项：该项指出在商王陵园外围区域，基本不会发现商代晚期遗存，重复论据，无法加强，排除；

C项：该项说明发现了商代晚期遗存的区域是被一般人占用的，也就意味着如果极少发现商代晚期遗存说明未被一般人占用，建立了论点与论据的关系，为搭桥项，可以加强，当选；

D项：该项讨论的是发现商代晚期遗存的区域位置，论点讨论的是陵园外围是否有较大段范围被划入缓冲区，禁止一般人占用，话题不一致，无法加强，排除。

故正确答案为C。

87、第一步：找出论点与论据。

论点：自己体温始终低于正常标准，这意味着自己的免疫力也低于常人。

论据：人类正常体温 $37^{\circ}\text{C}$ 已成历史，自19世纪以来，人类体温下降了 $0.4^{\circ}\text{C}$ ，而体温每下降 $1^{\circ}\text{C}$ ，免疫力就会下降30%；而体温每上升 $1^{\circ}\text{C}$ ，免疫力就会提高5~6倍。

论点论据话题一致，优先考虑否论点。

第二步：逐一分析选项。

A项：该项说明论据中的数据并无权威统计数据支持，但是无法证明“人类体温是否自19世纪以来下降了 $0.4^{\circ}\text{C}$ ”一定错误，属于不明确选项，无法削弱，排除；

B项：该项解释说明体温高可以提高免疫力的原因，是对论据的补充说明，可以加强，无法削弱，排除；

C项：该项说明因个人体质不同体温有差异是正常现象，并不会影响身体免疫力的健康，否定了体温始终低于正常标准，免疫力也低于常人，否定了论点，当选；

D项：该项说明身体各个部位的体温，论点讨论的是体温低于正常标准是否意味着免疫力也低于常人，话题不一致，无法削弱，排除。

故正确答案为C。

88、第一步：找出论点和论据。

论点：咖啡果肉有助于热带雨林的生态恢复。

论据：研究人员将其中一块地均匀覆盖上近半米的咖啡果肉，另一块土地则什么也不做，任其自然。两年之后，两块地发生了迥然不同的剧变：被咖啡果肉覆盖的那块，“栅栏草”已经完全消失，取而代之的是本应属于这里的热带树种的年轻树冠；而另一块地则依然被“栅栏草”霸占着。

第二步：逐一分析选项。

A项：该项说明覆盖咖啡果肉能够使土地更有韧性，生产恢复能力更佳，解释了咖啡果肉有助于热带雨林的生态恢复的原因，补充论据，可以加强，排除；

B项：该项说明咖啡果的味道会吸引食草型动物前来觅食，改变周边的环境，与论点说的咖啡果肉有助

于热带雨林的生态恢复无关，属于无关项，无法加强，当选；

C项：该项说明咖啡果肉中富含植物生长所需要的营养成分，能够为雨林修复按下“加速键”，解释了咖啡果肉有助于热带雨林的生态恢复的原因，补充论据，可以加强，排除；

D项：该项说明咖啡果肉能够抑制“栅栏草”的生长，补充论据，可以加强，排除。

本题为选非题，故正确答案为B。

89、第一步：翻译题干。

①研发部员工→吃苦耐劳 且 博士

②有的研发部员工→发明专利

③有的研发部员工→国家科技发明大奖

④研发部→集团发展的核心力量

注：本题中第一句话集团研发部的40人给了限定的讨论范围，后面所有的员工均指集团研发部的40人。

第二步：逐一分析选项。

A项：翻译为：获得国家科技发明大奖的员工→吃苦耐劳；根据③有的研发部员工→国家科技发明大奖，可得有的研发部员工获得国家科技发明大奖，根据①可知研发部员工都吃苦耐劳，二者结合可知获得国家科技发明大奖的研发部员工均吃苦耐劳，可以推出，当选；

B项：翻译为：获得多项发明专利的员工→获得国家科技发明大奖，题干中二者并无推出关系，无法推出，排除；

C项：翻译为：获得国家科技发明大奖的员工→集团发展的核心力量，根据“有的A是B”可换位为“有的B是A”，将条件③换位：有的获得国家科技发明大奖→研发部员工，研发部员工与研发部门二者概念不同，无法推出是否为集团发展的核心力量，排除；

D项：题干中指出有些员工获得多项发明专利，还有些员工甚至获得了国家科技发明大奖，其中可能存在既获得多项发明专利又获得了国家科技发明大奖的员工，并非要么……要么……的关系，无法推出，排除。

故正确答案为A。

90、第一步：翻译题干。

①数据财产→经济要素

②建立和完善数据要素→明确数据财产的权属

③调动数据处理者在数据开发利用和流通中的积极性→建立数据财产制度

④静态的数据资源在动态流转中跃变为具有经济价值的资产→建立数据财产制度

⑤推动数据产业的发展→数据资源成为具有经济价值的资产

⑥实现经济的数字化转型→数据资源真正成为具有经济价值的资产

第二步：逐一分析选项。

A项：翻译为：明确数据财产的权属→建立和完善数据要素，是对条件②的肯后，肯后无必然性结论，无法推出，排除；

B项：翻译为：跃变为具有经济价值的资产→静态的数据资源在动态流转中，二者在题干中无推出关系，无法推出，排除；

C项：翻译为：¬数据资源真正成为具有经济价值的资产→¬实现经济的数字化转型，是对条件⑥的否后，否后必否前，可以推出，当选；

D项：翻译为：建立数据财产制度→调动数据处理者在数据开发利用和流通中的积极性，是对条件③的肯后，肯后无必然性结论，无法推出，排除。

故正确答案为C。

91、第一步：分析题干论证形式。

题干由生吃龙虾导致细菌感染这一现象，得到启示生吃龙虾要慎重谨防细菌感染。

第二步：分析选项推理形式。

A项：该句意为：之所以辨不清庐山真正的面目，是因为我身处在庐山之中。该项是分析辨不清庐山真面目的原因，没有根据这一现象得到启示，与题干论证形式不一致，排除；

B项：该项由接近坏人可以使人变坏，接近好人可以使人变好这一现象，得到启示年轻人交友要慎重，与题干推理形式一致，当选；

C项：该项由春天种下一颗种子，秋天就可以收获一万颗粮食，得到生命都是循环往复的，是由一颗种子拓展到所有生命，不是由现象本身得到结论，与题干论证形式不一致，排除；

D项：该句意为：凭着天下人都归顺他的条件，去攻打那连亲属都反对背叛的君王。所以，能行仁政的君主不战则已，战就一定能胜利。该项是分析施行仁政的君主能够战无不胜的原因，没有根据这一现象得到启示，与题干论证形式不一致，排除。

故正确答案为B。

92、第一步：找出论点和论据。

论点：遵循“省钱而不降品味，省钱而不失时尚，省钱而不减体面”原则的“新节俭主义”开始被越来越多年轻人所推崇和青睐。

论据：无。

只有论点没有论据，加强优先考虑补充论据。

第二步：逐一分析选项。

网友 1：说明“新节俭主义”并不是件容易的事情，所以推崇不代表践行，体现了“新节俭主义”的劣势，说明不支持“新节俭主义”；

网友 2：说明无论传统节俭还是“新节俭主义”，都是勤劳节俭美德的体现，体现了“新节俭主义”的优势，说明支持“新节俭主义”；

网友 3：说明“新节俭主义”强调量入为出、“把钱用在刀刃上”，是一种新的节俭，体现了“新节俭主义”的优势，说明支持“新节俭主义”；

网友 4：说明节俭的优势，但是没有讨论“新节俭主义”，话题不一致，无法支持；

网友 5：说明产生“新节俭主义”的原因，但是没有讨论是否支持“新节俭主义”，话题不一致，无法支持；

网友 6：说明“新节俭主义”实际上是一种浪费，说明不支持“新节俭主义”。

故正确答案为 B。

93、第一步：找出论点和论据。

论点：大多数年轻人是推崇“新节俭主义”的。

论据：调查显示，43.55%的受访者曾在互联网平台上寻找各种省钱方式，35.18%的受访者尚未尝试在互联网平台上寻找省钱方式，其余受访者觉得没必要尝试。

第二步：逐一分析选项。

A 项：如果受访者都是年轻人，说明大多数年轻人是推崇“新节俭主义”的，可以加强网友 7 的论证；如果受访者不都是年轻人，说明也有其他年龄段的人，则可以削弱网友 7 的论证，故该问题的回答对网友 7 的论证是重要的，排除；

B 项：如果回答“尚未尝试”的受访者尝试过其他节省的方式，说明整体推崇“新节俭主义”的人比例更多，可以加强网友 7 的论证；如果回答“尚未尝试”的受访者没有尝试过其他节省的方式，则说明只有少数人尝试寻找省钱方式，可以削弱网友 7 的论证，故该问题的回答对网友 7 的论证是重要的，排除；

C 项：如果“觉得没有必要尝试”的受访者尝试过其他节省的方式，说明整体推崇“新节俭主义”的人比例更多，可以加强网友 7 的论证；如果“觉得没有必要尝试”的受访者没有尝试过其他节省的方式，则说明只有少数人尝试寻找省钱方式，可以削弱网友 7 的论证，故该问题的回答对网友 7 的论证是重要的，排除；

D项：无论受访者“曾在互联网平台上寻找各种省钱方式”的原因是什么，都与论点大多数年轻人是推崇“新节俭主义”的无关，所以该问题的回答对网友7的论证不重要，当选。

本题为选非题，故正确答案为D。

94、分析题干论证，甲认为个人所得税的起征点应该考虑到各地区收入水平的差距，因此起征点不应该是全国统一的。乙认为个人所得税的起征点按照行政区划区别对待会产生新的问题，比如会影响劳动力要素流动的市场调节机制，因此起征点应该全国统一。

两个人是围绕着个人所得税的起征点是否应该按照行政区划区别对待这一话题开展争论的，所以两个人争论的焦点是个人所得税起征点是否应该按照行政区划区别对待。

故正确答案为D。

95、第一步：找出论点和论据。

论据①：一个人去不去东部地区发展，肯定不光考虑个人所得税的起征点，还有其他一些条件。

论点①：个人所得税起征点各地不同不会是人才流动的壁垒。

论据②：征收个人所得税的一个非常重要的目的，就是调节收入分配。如果高收入地区高起征点，低收入地区低起征点，那么，调节分配的功能就会失效，甚至产生逆向调节的效果。

论点②：个人所得税起征点应该全国统一。

备注：对于论点②的内容，是根据论据②的表达倾向及含义得到的。

第二步：分析选项。

甲的论据为“对于东部和西部地区，收入水平不完全相同”，丙的论证中没有指出东部和西部收入水平是否不完全相同，与甲的论据二者话题不一致，无法肯定甲的论据，所以排除A项和B项；

乙的论据为“个人所得税的起征点按照行政区划区别对待会产生新的问题，比如影响劳动力要素流动的市场调节机制”，而丙在论点①中认为“个人所得税起征点各地不同不会是人才流动的壁垒”，故丙直接反驳乙的论据，排除C项；

丙通过论据②表达出了个税起征点的区别对待会产生另一个问题，即逆向调节收入分配的效果，从而体现了丙的观点为：个人所得税起征点应该统一，故丙的论证是以新的理由支持了乙的结论。

故正确答案为D。

96、A项，根据第②段“宋朝政府曾有以‘七十上陌’统一‘短陌’的计划，但未能实现”可知，现实中，宋朝未能以“七十七陌”统一“短陌”，时态表述错误，排除；

B项，根据第⑩段“唐代政府曾经将不足数的‘短陌’钱定为非法，予以打击”可知，选项表述正确，当选；



C项，根据第①段“早在南朝梁武帝时期，就曾以八十、七十甚至三十为陌，至唐、五代时期，这种现象也不同程度地存在”可知，是南朝梁武帝时期最早“以八十、七十甚至三十为陌”，而非五代时期，时态表述错误，排除；

D项，文中第⑩段提到了“取人长钱，还人短陌”，但未提及南朝官府用此来增加财政收入，无中生有，排除。

故正确答案为B。

97、定位原文，横线出现在首句，且前后有其他分句，故需结合全文，把握其与上下文的联系。横线前介绍宋代的钱币陌数混乱，钱数计算很麻烦，横线后通过程度词“特别是”强调人们需要掌握“足陌”与“短陌”间的换算方法。后以转折词“不过”指出这种换算较难，并非人人都能掌握。故横线处应围绕“陌制间的换算”这一话题展开，介绍人们用钱时，会遇到不同陌制间换算钱数的情况。对应A项。

B项，“随行就市确定钱币的实际数目”中“随行就市”指商品根据市面行情自由上市供应，属无中生有，且无法衔接后文重点“换算钱数”，排除；

C项，“事先了解钱币数量的计算方法”无法衔接后文，“不同陌制间的换算”，排除；

D项，“不清楚行业所依循陌制的标准”与后文“几乎成为必备能力”语义矛盾，衔接不当，排除。

故正确答案为A。

98、A项，根据“经过晚唐五代，‘短陌’成为官方承认的常态形式，并为宋代政府所继承”可知，“短陌”的合法化并非发生在北宋中晚期，选项表述错误，排除；

B项，根据“关于‘短陌’现象出现原因，学界认识不一。其最初原因与采用铜币形式但是铸币权不统一有关”可知，“短陌”现象，还与铸币权不统一等有关，选项表述绝对，排除；

C项，根据“从货币发展角度来看，‘短陌’的实行，……这成了纸币这一货币符号在经济生活中出现的基础”可知，文章论述的是“短陌”现象为纸币在经济生活中的出现奠定了基础，而非纸币在宋代成为“短陌”现象的推手，选项逻辑错误，排除；

D项，根据“宋代实行铜本位制，以铜钱为主要货币。随着商品经济迅猛发展，钱币的铸造量无法满足经济活动的需求……因而普遍采用‘以不足一百文的钱当作一百来计算和使用’的办法，称为‘短陌’”可知，铜钱这种货币的短缺导致宋代的“钱荒”，因而出现“短陌”现象，货币短缺确实是宋代“短陌”现象产生的根本原因，选项表述正确，当选。

故正确答案为D。

99、根据“因此‘陌’就成为计算钱数的单位，指一百文钱”“‘鱼、肉、菜七十二陌’，这一标准的使用范围相当于菜市场，属于‘行陌’之一”可知，鱼市售卖的鱼每斤不上一百文，即不超过一百文，



那么买一斤鱼最多实际付七十二文，对应 A 项。

B 项“七十四文”对应“金银七十四”，C 项“七十五文”对应“街市通用七十五”，D 项“七十七文”对应“官用七十七”，均不符合鱼市、菜市场的价格，表述错误，均排除。

故正确答案为 A。

100、文章首先介绍了“钱陌”是什么，接下来阐述宋代出现了“短陌”，随后具体列举“官陌”“市陌”“行陌”等几种“钱陌”的形式，然后具体介绍“短陌”的现象，文章最后阐明虽然宋代钱币陌数混乱，但是“短陌”的实行有一定意义。因此文章重点论述了宋代的“钱陌”，对应 C 项。

A 项，“古代的货币制度”扩大概念，排除；

B 项，“钱荒”偏离文段重点，文段主要围绕宋代钱币特点展开讨论，排除；

D 项，未提及主题词“钱陌”，且未提及“宋朝”，排除。

故正确答案为 C。