


# 2022年军队文职考试公共科目试 题（网友回忆版）



扫码下载公考通app  
发现更多申论历年真题



最新版公考通app->我的  
扫码工具扫描录入答案查看解析

## 公共科目

1. 近代中国社会面临的主要矛盾是：
  - A. 帝国主义与中华民族的矛盾、封建主义和人民大众的矛盾
  - B. 帝国主义与中华民族的矛盾、工人阶级和资产阶级的矛盾
  - C. 帝国主义与中华民族的矛盾、腐败王朝和人民大众的矛盾
  - D. 帝国主义与中华民族的矛盾、官僚买办和人民大众的矛盾
2. 西藏自治区约占中国陆地总面积的（ ），相当于英国、法国、德国、荷兰、卢森堡五国面积的总和。
  - A. 八分之一
  - B. 十分之一
  - C. 五分之一
  - D. 六分之一
3. 在社会主义社会中，实行按劳分配制度是由（ ）决定的。
  - A. 等价交换原则
  - B. 社会化分工明确
  - C. 生产资料公有制
  - D. 社会生产力发展
4. 习近平在庆祝中国共产党成立100周年大会上指出，我们实现了人民生活从温饱不足到（ ）、奔向全面小康的历史性跨越，为实现中华民族伟大复兴提供了充满新的活力的体制保证和快速发展的物质条件。
  - A. 温饱有余
  - B. 总体富裕
  - C. 基本实现小康
  - D. 总体小康
5. 推动社会经济发展并决定社会经济制度变革的经济规律是：
  - A. 生产关系一定要适应生产力的规律
  - B. 价值规律
  - C. 剩余价值规律
  - D. 资本积累规律
6. 中华医学博大精深，源远流长。据记载，我国早在（ ）就发明和使用了麻醉剂——麻沸散。
  - A. 春秋战国时期
  - B. 秦朝
  - C. 唐朝
  - D. 汉朝
7. 政府对部分食品实施最高限价政策时，最可能导致的情况是：
  - A. 出现市场短缺
  - B. 刺激生产增加
  - C. 引起产品供应过剩

- D. 提高农业生产者收入
8. 根据《中华人民共和国劳动法》的规定，劳动合同的无效，由（ ）确认。
- A. 劳动争议仲裁委员会  
B. 劳动争议调解委员会  
C. 人民法院  
D. 劳动争议仲裁委员会或者人民法院
9. 中国共产党的精神谱系为实现中华民族伟大复兴提供强大精神力量。这说明：
- A. 精神价值相比物质价值更为重要  
B. 主体需要是价值评价的唯一标准  
C. 价值观对人的行为起到导向作用  
D. 价值评价的根本标准依然是实践
10. 划分唯物主义和唯心主义的唯一标准是：
- A. 对思维和存在何者为第一性的不同回答  
B. 是否承认世界是运动和发展的  
C. 是否承认世界是统一的  
D. 世界是否是可知的
11. 战略物质储备应当规模适度、储存安全、调用方便、（ ），保障战时的需要。
- A. 长期保存  
B. 不定期更换  
C. 定期更换  
D. 快速更换
12. 按交易方式的不同，外汇市场可以分为：
- A. 国内外汇市场和国际外汇市场  
B. 规范的市场和自发的市场  
C. 有形市场和无形市场  
D. 一般的有形市场和特殊的有形市场
13. 电视剧《觉醒年代》中，陈独秀身陷囹圄，倚墙慨然长吟（ ）：“莫听穿林打叶声，何妨吟啸且徐行”，表现出身处逆境屡遭挫折而不畏惧不颓丧的倔强精神与旷达胸襟。
- A. 苏轼的《定风波》  
B. 陆游的《诉衷情》  
C. 辛弃疾的《破阵子》  
D. 文天祥的《过零丁洋》
14. 中国人民解放军由现役部队和预备役部队组成，在新时代的使命任务是为巩固中国共产党领导和社会主义制度，为捍卫（ ），为维护国家海外利益，为促进（ ），提供战略支撑。
- A. 国家主权、安全、发展利益 世界和平与发展  
B. 国家主权、统一、领土完整 世界和平与地区安全

- C . 国家主权、安全、发展利益 世界和平与地区安全  
 D . 国家主权、统一、领土完整 世界和平与发展
15. 《孙子兵法》成书于春秋末期。其作者是：
- A . 孙臆  
 B . 孙策  
 C . 孙权  
 D . 孙武
16. 新民主主义革命的主要内容是：
- A . 没收封建地主阶级的土地归农民所有  
 B . 没收封建地主阶级的土地归苏维埃政权所有  
 C . 没收官僚资产阶级的垄断资本归新民主主义国家所有  
 D . 无产阶级取得领导地位
17. 在社会保障体系中，属于初级形式的社会保险要素的是：
- A . 社会福利  
 B . 社会保险  
 C . 优抚安置  
 D . 社会救济
18. 纸币的发行量取决于：
- A . 市场购买力  
 B . 流通中所需要的金属货币量  
 C . 商品的供求关系  
 D . 商品价格总额
19. 社会主义道德建设要以为人民服务为核心，以（ ）为原则。
- A . 公平正义  
 B . 集体主义  
 C . 和谐共处  
 D . 和睦友爱
20. “须知政权是由枪杆子中取得的”是（ ）在党的八七会议上提出的。
- A . 陈独秀  
 B . 毛泽东  
 C . 周恩来  
 D . 朱德
21. 根据《中华人民共和国民法典》的规定，无线电频谱资源属于（ ）所有。
- A . 集体  
 B . 企业  
 C . 国家

- D. 个人
22. ( )年1月1日起,《中华人民共和国农业税条例》被废止,标志着延续了2600多年的“皇粮国税”退出历史舞台。
- A. 2002  
B. 2005  
C. 2006  
D. 2012
23. 十八大后,党中央和中央军委在古田召开全军政治工作会议,对新时代政治建军作出部署,恢复和发扬我党我军光荣传统和优良作风,推动人民军队( )根本好转。
- A. 纪律规矩  
B. 政治生态  
C. 作风面貌  
D. 廉政建设
24. 进口配额制在国际贸易政策中属于:
- A. 关税壁垒措施  
B. 自由贸易措施  
C. 与贸易无关的措施  
D. 非关税壁垒措施
25. 写下“清澈的爱,只为中国”的戍边英雄是:
- A. 肖思远  
B. 祁发宝  
C. 陈祥榕  
D. 陈红军
26. 关于侵权责任,下列选项错误的是:
- A. 因产品存在缺陷造成他人损害的,被侵权人可以向产品的生产者或销售者请求赔偿  
B. 限制民事行为能力人在学校学习、生活期间受到人身损害的,学校应当承担侵权责任  
C. 二人以上共同实施侵权行为,造成他人损害的,应当承担连带责任  
D. 民用航空器造成他人损害,民用航空器的经营者能够证明损害是因受害人故意造成的,不承担责任
27. 资本主义经济危机周期性发生的物质基础是:
- A. 固定资本的更新  
B. 流动资本的更新  
C. 不变资本的更新  
D. 可变资本的更新
28. 军队政治工作必须坚持的思想路线和根本作风是:
- A. 解放思想和与时俱进  
B. 批评与自我批评  
C. 实事求是和群众路线

- D. 解放思想和实事求是
29. 构建新发展格局的关键在于经济循环的畅通无阻，必须坚持深化（ ）这条主线，继续完成“三去一降一补”的重要任务，实现经济在高水平上的动态平衡。
- A. 需求侧结构性改革  
B. 供给侧结构性改革  
C. 改革开放  
D. 经济体制改革
30. 根据2021年10月1日起施行的《中华人民共和国兵役法》的规定，在征集期间，应征公民被征集服现役，同时被机关、团体、企业事业组织招录或者聘用的，（ ）履行服兵役义务。
- A. 可以暂缓  
B. 可以由公民选择是否  
C. 由招录或者聘用的机关、团体、企业事业组织决定是否允许公民  
D. 应当优先
31. 军委主席负责制最早写入我国宪法是在（ ）年。
- A. 1978  
B. 1982  
C. 1992  
D. 1998
32. 关于资本积聚的描述，正确的是：
- A. 由众多中小资本合并实现  
B. 由资本家通过勤俭节约实现  
C. 依靠剩余价值的资本化实现  
D. 通过竞争和信用方式实现
33. 按照规则的内容规定不同，法律规则可以分为：
- A. 授权性规则和义务性规则  
B. 确定性规则、委任性规则和准用性规则  
C. 规范性规则 and 标准性规则  
D. 强行性规则和任意性规则
34. 党的十九届六中全会通过的《中共中央关于党的百年奋斗重大成就和历史经验的决议》，用（ ）进一步对习近平新时代中国特色社会主义思想的核心内容作了系统概括。
- A. “四个自信”  
B. “五位一体”  
C. “十个明确”  
D. “十四个坚持”
35. 价格是商品价值的（ ）表现。
- A. 劳动

- B . 交换
  - C . 货币
  - D . 支付
36. 近代中国反侵略战争屡遭失败的根本原因是：
- A . 清廷消极备战、积极求和
  - B . 文官贪财、武将惜命
  - C . 社会制度腐败、经济技术落后
  - D . 军队素质差、军事装备落后
37. 马克思主义产生的阶级基础和实践基础是：
- A . 无产阶级作为独立的政治力量登上了历史舞台
  - B . 资本主义的剥削和压迫
  - C . 工人为了改善自身经济状况进行的各种罢工活动
  - D . 工人运动得到了“农民的合唱”
38. 新民主主义革命区别旧民主主义革命的主要标志是：
- A . 主要依靠广大工农群众
  - B . 无产阶级的领导权
  - C . 实现国共合作
  - D . 走的是农村包围城市的道路
39. 根据《中华人民共和国劳动争议调解仲裁法》的规定，解决劳动争议，应当根据事实，遵循合法、公正、及时、（ ）的原则，依法保护当事人的合法权益。
- A . 协商
  - B . 着重调解
  - C . 平等
  - D . 善意
40. 资本的循环时间是：
- A . 劳动时间和流通时间之和
  - B . 运输时间和购置时间之和
  - C . 生产时间和流通时间之和
  - D . 存储时间和销售时间之和
41. 任何公民，非（ ），不受逮捕。
- A . 由人民检察院决定并执行
  - B . 由人民法院决定并执行
  - C . 由公安机关决定并执行
  - D . 经人民检察院批准或者决定或者人民法院决定，并由公安机关执行
42. 《诗经》中区分风、雅、颂的标准是：
- A . 国别

- B. 时代
  - C. 作者
  - D. 音乐
43. “断肠明志”的红军将领是：
- A. 王尔琢
  - B. 邓萍
  - C. 陈树湘
  - D. 吴焕先
44. 市场经济是一种：
- A. 经济运行方式
  - B. 基本经济制度
  - C. 社会组织形式
  - D. 生产经营方式
45. 国产影片《长津湖》取材于抗美援朝战争时期的：
- A. 第一次战役
  - B. 第二次战役
  - C. 第三次战役
  - D. 第五次战役
46. 探月工程“绕、路、回”三步走规划圆满收官的标志是（ ）任务的完成。
- A. 天宫二号
  - B. 神舟十一号
  - C. 空间实验室飞行
  - D. 嫦娥五号
47. 要在党和国家人才工作大盘子中谋划推进我军人才工作，坚持（ ）需求导向，搞好规划对接、政策对接、工作对接，形成我军人才工作高效推进的良好局面。
- A. 军事
  - B. 科技
  - C. 岗位
  - D. 能力
48. 以优秀文学作品陶冶道德情操，就要坚持把（ ）放在首位，倡导讲品味、讲格调、讲责任，抵制低俗、庸俗、媚俗，用健康向上的文艺作品温润心灵、启迪心智、引领风尚。
- A. 经济效益
  - B. 社会效益
  - C. 宣传效益
  - D. 个人利益
49. 文职人员在军队和社会生活中，依法享有（ ）相应的权利，履行相应的义务。



- A . 军队基层人员
  - B . 国家企业职工
  - C . 现役军人
  - D . 国家工作人员
50. ( ) 的著作权保护办法由国务院另行规定。
- A . 杂技作品
  - B . 口述作品
  - C . 民间文学艺术作品
  - D . 地图
51. 当事人在订立合同过程中 ( ) , 造成对方损失的, 应当承担赔偿责任。
- A . 假借订立合同, 恶意进行磋商
  - B . 故意隐瞒与订立合同有关的重要事实
  - C . 提供虚假情况
  - D . 有其他违背诚信原则的行为
  - E . 有其他违背等价交换原则的行为
52. 国家通过开展国防教育, 使全体公民:
- A . 增强国防观念
  - B . 强化忧患意识
  - C . 掌握国防知识
  - D . 提高国防技能
  - E . 发扬爱国主义精神
53. 运用货币政策调控经济的手段有:
- A . 法定准备金率
  - B . 公开市场业务
  - C . 税收政策
  - D . 控制财政支出
  - E . 再贴现政策
54. 习近平同志对关系新时代党和国家事业发展的一系列重大理论和实践问题进行了深邃思考和科学判断, 就新时代 ( ) 等重大时代课题, 提出一系列原创性的治国理政新理念新思想新战略。
- A . 坚持和发展什么样的中国特色社会主义、怎样坚持和发展中国特色社会主义
  - B . 什么是社会主义、怎样建设社会主义
  - C . 建设什么样的社会主义强国、怎样建设社会主义强国
  - D . 建设什么样的长期执政的马克思主义政党、怎样建设长期执政的马克思主义政党
  - E . 实现什么样的发展、怎样发展
55. 关于价值、使用价值和交换价值的论述, 正确的有:
- A . 无使用价值就不可能有价值

- B. 有使用价值就一定有价值
- C. 价值是交换价值的基础
- D. 无论交换价值还是价值，都是商品的本质属性
- E. 无论交换价值还是价值，都是商品的社会属性

56. 中国传统文化中的“因材施教”“对症下药”“因地制宜”等蕴含的哲理是：

- A. 处理矛盾切忌“一刀切”
- B. 不同的矛盾需要用不同方法去解决
- C. 任何事物都存在矛盾
- D. 矛盾无处不在，无时不有
- E. 具体问题具体分析

党的十八大以来，我们党提出新时代的强军目标，确立新时代军事战略方针，制定国防和军队现代化新“三步走”战略，推进政治建军、改革强军、科技强军、人才强军、依法治军，努力建设与我国国际地位相称，同国家安全和利益相适应的巩固国防和强大人民军队。

57. 在国防和军队现代化新“三步走”战略中，到二〇三五年的奋斗目标是：

- A. 实现军事理论现代化、军队形态现代化、军事人员现代化、武器装备现代化
- B. 实现建军一百年奋斗目标
- C. 基本实现国防和军队现代化
- D. 全面实现国防和军队现代化

58. 实现党在新时代的强军目标，必须走中国特色强军之路，到（ ）把人民军队全面建成世界一流军队。

- A. 二〇二一年
- B. 二〇二七年
- C. 本世纪中叶
- D. 二〇三五年

古希腊文明向来被视为西方文明的源头之一，对后世产生了广泛而深远的影响。它代表了辉煌灿烂的文化，当今世界的许多学科都可以追溯到古希腊。

59. 相传古希腊盲诗人荷马创作了著名的史诗《伊利亚特》。其主题是：

- A. 奥德修斯的返乡之旅
- B. 希腊英雄的冒险故事
- C. 特洛伊战争
- D. 奥林匹斯众神的故事

60. 古希腊形成了城邦制度，其最具代表性的城邦是雅典与：

- A. 叙拉古
- B. 斯巴达
- C. 迈锡尼
- D. 底比斯

**岗位能力**

61. 下列语句中，“何”作为代词使用的一组句子是（ ）。

- ①何以战？（《曹刿论战》）
- ②大王来何操？（《鸿门宴》）
- ③徐公何能及君也？（《邹忌讽齐王纳谏》）
- ④又何间焉。（《曹刿论战》）

- A . ②④
- B . ②③
- C . ①②
- D . ①④

62. 下面短文最恰当的标题是（ ）。

在微生物真正造成危害前，人体的免疫系统就必须提前识别出这些具有潜在威胁的对象。在这个过程中，细胞会根据一些常见的分子结构，找出具有特殊识别功能的受体，以此大范围地识别不同微生物的种类。

其中一个标志性结构是脂多糖，它是众多类型细菌的细胞壁都具有的一种长链糖。许多研究人员认为，除了那些极少数专门演化出规避免疫检测的病原体外，人体可以识别出任何一种微生物产生的脂多糖。但一项新的研究表明，一些深海细菌细胞壁上的脂多糖非常特殊，基本上是“透明的”，无法被人体细胞的功能识别受体识别。

- A . 微生物的危害
- B . 绕过人体免疫的深海细菌
- C . 微生物的脂多糖
- D . 可识别的脂多糖

63. 根据文意，下列选项与“生物钟”无关的是（ ）。

睡眠有个神奇的特点，就是我们总是在每天晚上几乎相同的时间感受到睡神的召唤。之所以如此，是因为睡眠的启动部分依赖于大脑内的一个“时钟”，这个“时钟”能够追踪记录地球的昼夜更替，以及季节性规律。而这个星球上的其他生物，从细菌和植物，到鱼类、昆虫和哺乳动物，都具有这样的能力，“生物钟”在自然界无处不在。

- A . 棕熊在冬天冬眠
- B . 东半球的人移居到西半球需要倒时差
- C . 夏季来临昼长夜短
- D . 大多数花朵都会在春天盛开

64. 改革开放以来，我国文艺创作迎来了新的春天，产生了大量\_\_\_\_\_的作品，同时也不能否认，在文艺创作方面，存在着有数量缺质量、有“高原”缺“高峰”的现象，存在着抄袭模仿、\_\_\_\_\_的问题。精品之所以“精”，就在于其思想精深、艺术精湛、制作精良。文艺工作者要\_\_\_\_\_，随着时代生活创新，以自己的艺术个性进行创新。

依次填入横线最恰当的是：

- A . 家喻户晓 泥沙俱下 标新立异
- B . 丰富多彩 照猫画虎 精耕细作
- C . 脍炙人口 千篇一律 志存高远
- D . 喜闻乐见 因循守旧 与时俱进

65. 下列顿号使用错误的是：

- A . 目前，中国90%的陆地生态系统类型和70%的国家重点保护野生动植物物种得到有效保护，人们熟知的大熊猫、朱

鸮、亚洲象等濒危物种种群数量在不断增加。

B. 俄罗斯S-500“普罗米修斯”防空导弹系统，直接把抗击矛头指向战略轰炸机、战略侦察机、洲际弹道导弹、高超声速导弹甚至是低轨道卫星等。

C. 王维的“清泉石上流”、“红豆生南国”、以及“独在异乡为异客”都是耳熟能详的诗句。

D. 城市发展的近期和愿景规划，包括土地的开发与利用，基础设施和生活服务设施的建设与管理，环境的治理与保护，信息的收集、处理和应用，吸引投资的网络组织、营销方式和鼓励措施等。

66. 依次填入下面一段文字横线处的语句，衔接最恰当的一组是（ ）。

我国是食品生产和消费的大国，有效解决食品安全领域损害群众利益的突出问题，切实增强消费安全感，\_\_\_\_\_，\_\_\_\_\_，\_\_\_\_\_，\_\_\_\_\_，\_\_\_\_\_。

①强化执法措施，严惩违法犯罪分子

②创新食品安全监管机制

③坚决淘汰劣质企业，以震慑所有企业，使之不敢越雷池一步

④既需要食品生产经营者诚信自律，更需要严格的法律制度对其约束和有效监管

⑤因此，必须保持严厉打击违法违规行为的态势，及时消除各环节的隐患

A. ④⑤①②③

B. ⑤①②③④

C. ④⑤①③②

D. ④③⑤②①

67. 下列各句中，没有语病的一项是：

A. G7高速横穿戈壁、草原、城市、乡村、湿地等多种地形，沿途地貌多变，充满挑战，堪称“中国最美公路”，走上一遭就能顺便满足人们横穿中国的心愿。

B. 据中国人口与发展研究中心预测，从“十四五”开始，中国60岁以上老年人口将进入一个快速增长的时期，在2055年前中国的老年人口会超过5亿，占比将达到39.5%。

C. 四川三星堆遗址考古发掘中秉持的精细发掘理念、采用的多种现代科技手段、构建的考古发掘现场预防性保护，都为我国考古发掘和研究树立了新的标杆。

D. “燃灯校长”张桂梅教书育人，用知识改变贫困山区女孩命运，用教育阻断贫困代际传递，她要化作一束光，照亮了大山里女孩的梦想。

68. 能准确概括下面一段文字内容的是：

琴声渐起，我仿佛看见一滴滴饱满的水珠儿洒落在含苞待放的桃花上，又恋恋不舍地挂着丝儿似的落下来，犹如一个活泼的小精灵。它又像一条奔腾不息的大河，裹挟着泥沙、卵石，翻滚着向前奔去，撞击着河岸，向阻挡它的一切势力发起猛烈冲击。忽而，一阵清风穿过树林，一粒沙子从屋檐上滚落，掉在门前那口空水缸里，清脆悦耳，回音似壁。琴声欲止，似一朵烟花静静地绽放。

A. 琴音遐想

B. 琴声悠扬

C. 琴音似水

D. 琴声悦耳

69. 二十四节气是中华民族农耕文明的智慧结晶，也是专属中国人的独特时间美学。下列选项中，节气与诗句搭配正确的是：

- A. 立冬节气——蒹葭苍苍，白露为霜。所谓伊人，在水一方。
- B. 惊蛰节气——微雨众卉新，一雷惊蛰始。田家几日闲，耕种从此起。
- C. 立春节气——草树知春不久归，百般红紫斗芳菲。杨花榆荚无才思，惟解漫天作雪飞。
- D. 清明节气——田家少闲月，五月人倍忙。夜来南风起，小麦覆陇黄。

70. 下列文字中“它们是它们自己的。”一句指的是（ ）。

人说自己的作品是结成的果实，我却觉得，我的作品像一片片落叶，一年年落叶，一阵阵落叶。……一片又一片的落叶落下了，它们曾经是树的。现在也还是树的，却又不是树的了。它们是它们自己的。是树的过往的季节，过往的尝试，过往的儿女。又是大地的新客人，新的星外来客，新的友人。

- A. 作品一旦完成，就有了独立的生命
- B. 读作品不必理会作者的情况
- C. 树叶凋落，树已经无能为力
- D. 作家是作家，作品是作品

71. 填入横线最恰当的是（ ）。

君子之交淡如水，淡而不膩，才能持久。所有令人舒服的相处，一定饱含合适的\_\_\_\_\_。

- A. 代入感
- B. 价值感
- C. 认同感
- D. 分寸感

72. 下列两句填入横线处最恰当的是（ ）。

(1) 每逢深秋季节，\_\_\_\_\_，松竹山茶，色彩绚丽，美景尽览。

(2) 远眺群山环抱，\_\_\_\_\_，近看小河流水，茶园葱绿，松竹并茂。

- ①置身山顶，俯瞰槐榆丹枫
- ②置身山顶俯瞰，槐榆丹枫
- ③白云缭绕，层林叠翠
- ④层林叠翠，白云缭绕

- A. ②④
- B. ①③
- C. ①④
- D. ②③

73. 依次填入下列各句横线处的虚词，最恰当的是（ ）。

(1) 生活中，我们发现明智的人善于见微知著，\_\_\_\_\_做出科学的论断，于是便成了所谓的未卜先知。

(2) 随着高铁时代的到来，中国交通网日益发达，\_\_\_\_\_是边远山区，与外界的交往更便捷。

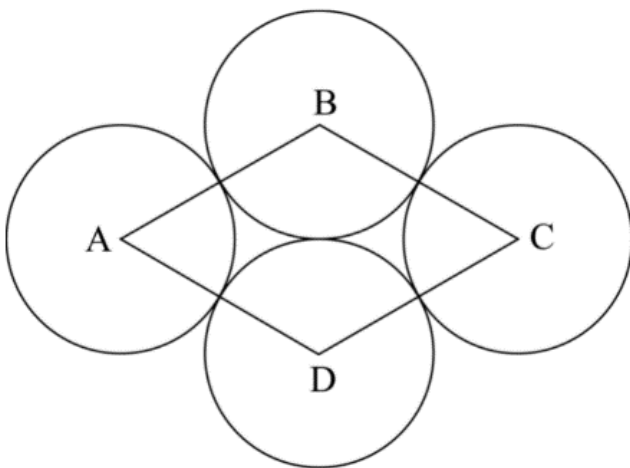
(3) 由于新冠疫情的影响，汽车生产和销售都受到了影响，\_\_\_\_\_是人员密集、流动性大的旅游行业。

- A. 从而 尤其 何况
- B. 从而 甚至 况且
- C. 进而 甚至 何况
- D. 进而 尤其 况且

74. 大当量精确制导武器的出现为阵地工程防护带来了新的挑战。比如，巨型钻地导弹可穿透数十米厚的混凝土防护层或岩石层，被称为“地堡克星”。即便是运用智能遮弹技术将其击爆于防护层表面，其巨大的爆炸能量也足以将地下工程重创或摧毁。在此威胁下，面对防护材料和防护结构难以实现突破性进展的现实“瓶颈”，战场目标一旦被发现就意味着被摧毁。而依托信息手段的近程拦截防护技术为防御大当量钻地导弹打击开辟了一条新的途径。

这段话主要说的是：

- A . 阵地工程防护面临全新挑战
  - B . 近程拦截为军事防御工程带来新希望
  - C . 大当量精确制导武器目前还无法防御
  - D . 智能遮弹技术是军事防御的发展趋势
75. 下列各句中，句意明确、没有歧义的是：
- A . 今年夏季，河南和湖北的大部分地区都遭受了严重的洪涝灾害，有人员伤亡。
  - B . 两个公司的员工都来了，这两个公司的领导也来了。
  - C . 工作组来我县调查的前三天，整个县城就已沸沸扬扬。
  - D . 他是刚到这里来工作的大学生，很多人还不了解。
76. 某通信排有15名女通信兵和5名男通信兵，其中包括2名女业务尖兵和1名男业务尖兵。若从该排随机抽选3名女兵和1名男兵参加团里组织的通信专业技能比武竞赛，则至少抽到1名业务尖兵的概率是：
- A . 46.7%
  - B . 49.7%
  - C . 50.3%
  - D . 53.3%
77. 四个半径为1厘米的圆如下图所示摆放在一起，且4个圆的圆心连成一个菱形ABCD，则这个菱形的面积是（ ）平方厘米。



- A . 4
  - B .  $2\sqrt{3}$
  - C .  $3\sqrt{2}$
  - D .  $\pi$
78. 2015年元旦，强军爸爸的年龄是强军的6倍。2017年元旦，强军多了一个妹妹。2022年元旦，强军12岁，又多了一个弟

弟。则到( )年元旦时,强军爸爸的年龄恰好是其三个孩子的年龄之和。

- A . 2026
- B . 2028
- C . 2030
- D . 2032

79. 选择最合理的一项来填充所给数列的空缺位置,使之符合原数列的排列规律:

24, 12, 12, 18, 45, ( )。

- A . 160
- B . 165
- C . 170
- D . 180

80. 某班级计划安排7名学生负责国庆7天的假期值班,每天安排1名学生,每名学生值班1天。若7名学生中的小王不值10月3日、小张不值10月4日,则有( )种不同的假期值班安排方案。

- A . 3480
- B . 3600
- C . 3720
- D . 4320

81. 记不超过20的所有质数(素数)的算术平均值为M,则与M最接近的整数是:

- A . 8
- B . 9
- C . 10
- D . 11

82. 选择最合理的一项来填充所给数列的空缺位置,使之符合原数列的排列规律:-1, 2, 6, 21, 43, ( )。

- A . 56
- B . 68
- C . 74
- D . 82

83. 一项工程由甲乙丙三人合作完成需要10天。如果丙休息1天,则要么甲乙两人多合作1天,要么乙单独多做2天。问这项工程由丙单独完成需要( )天。

- A . 20
- B . 30
- C . 40
- D . 60

84. 某部队共有200名士兵,分成3组全部去参加抗洪救灾。已知第一组与第二组的士兵数量比为,第三组的士兵数量比第一组少16,则第一组的士兵数量是:

- A . 54
- B . 65

C . 81

D . 90

85. 小王上楼梯，可以一步一个台阶，也可以一步两个台阶。若楼梯共有10个台阶，则小王上楼梯的方法有（ ）种。

A . 55

B . 89

C . 120

D . 144

86. 母亲只有在父亲陪伴下才坐飞机。如果父亲不坐高铁，那么儿子也不坐高铁。

则正确的是：

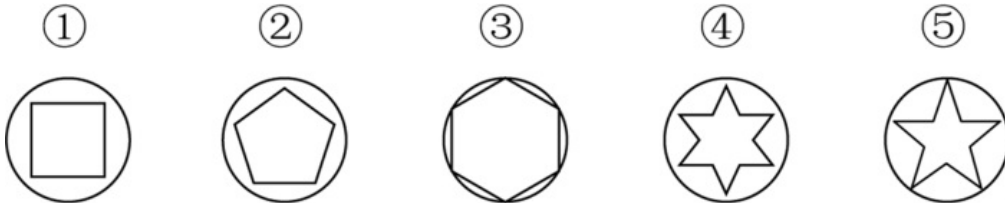
A . 父亲在高铁上，则儿子也在高铁上

B . 儿子不在高铁上，则母亲在飞机上

C . 父亲在飞机上，则母亲在高铁上

D . 儿子在高铁上，则母亲没在飞机上

87. 选择最合适的一项拿掉，使得剩下的图形呈现一定规律性的是：



A . ①

B . ②

C . ③

D . ④

88. 一项新的调查显示，那些饮食习惯相近的男女朋友发展成为夫妻的可能，比那些饮食习惯差异较大的男女朋友要高得多。

因此，要想结为夫妻，男女朋友之间就需要尽量保持相近的饮食习惯。

以下哪项如果为真，最能削弱上述题干的结论：

A . 饮食习惯不同的人往往性格差异巨大

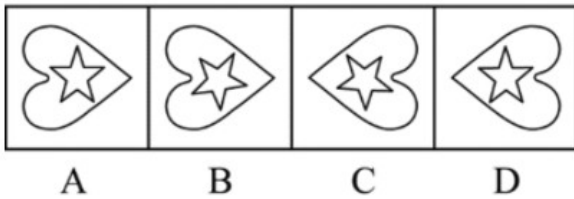

B . 男女朋友最后结为夫妻并不一定是饮食习惯相近

C . 饮食习惯与男女朋友发展成为夫妻关系有直接联系

D . 男女朋友不能结为夫妻的一个重要原因是饮食习惯差异大

89. 选择最合适的一项填入问号处，使之呈现一定规律性的是：





- A . A
- B . B
- C . C
- D . D

90. 五位同学对毕业去向进行讨论。

小张说：“小王去了西安，小李去了北京。”  
 小王说：“小李去了上海，小赵去了武汉。”  
 小李说：“小赵去了北京，小周去了武汉。”  
 小赵说：“小周去了南京，小李去了上海。”  
 小周说：“小张去了上海，小李去了南京。”

已知每位同学的去向不同，而且每位同学的去向都有同学说对，则正确的是：

- A . 小张去了上海，小王去了西安，小李去了南京，小赵去了北京，小周去了武汉
- B . 小李去了上海，小赵去了西安，小张去了南京，小王去了北京，小周去了武汉
- C . 小周去了上海，小王去了西安，小赵去了南京，小张去了北京，小李去了武汉
- D . 小赵去了上海，小李去了西安，小周去了南京，小张去了北京，小王去了武汉

91. ( ) 对于“踌躇满志”，相当于“垂头丧气”对于 ( )。

- A . 心满意足；滚滚东流
- B . 奋不顾身；心灰意冷
- C . 谨小慎微；贪生怕死
- D . 怡然自得；萎靡不振

92. 在一次联欢晚会上，小李登台表演了一段越剧，博得满堂喝彩。老张说：“小李的越剧唱得这么好，一定是南方人。”

则老张的话里不包含的意思是：

- A . 不是南方人，越剧不可能唱得那么好
- B . 只要越剧唱得像小李那样好，就是南方人

- C. 除非小李是南方人，否则她的越剧不可能唱得那么好
- D. 只有越剧唱得好，才是南方人

93. 曲曲折折的荷塘上面，弥望的是田田的叶子\_\_\_\_\_。\_\_\_\_\_。\_\_\_\_\_。\_\_\_\_\_。\_\_\_\_\_。叶子底下是脉脉的流水，遮住了，不能见一些颜色，而叶却更见风致了。

- ①微风过处，送来缕缕清香，仿佛远处高楼上渺茫的歌声似的
- ②叶子本是肩并肩密密地挨着，这便宛然有了一道凝碧的波痕
- ③叶子出水很高，像亭亭的舞女的裙
- ④这时候叶子与花也有一丝的颤动，像闪电般，霎时传过荷塘的那边去了
- ⑤层层叶子中间，零星地点缀着些白花，有袅娜地开着的，有羞涩地打着朵儿的；正如一粒粒的明珠，又如碧天里的星星，又如刚出浴的美人

将以上5个句子依次填入画横线部分，最合适的排序是：

- A. ③①②⑤④
- B. ③⑤①②④
- C. ③⑤④①②
- D. ③⑤①④②

94. 必要条件：如果事件M不发生的时候事件N一定不会发生，那么M就是N的必要条件。

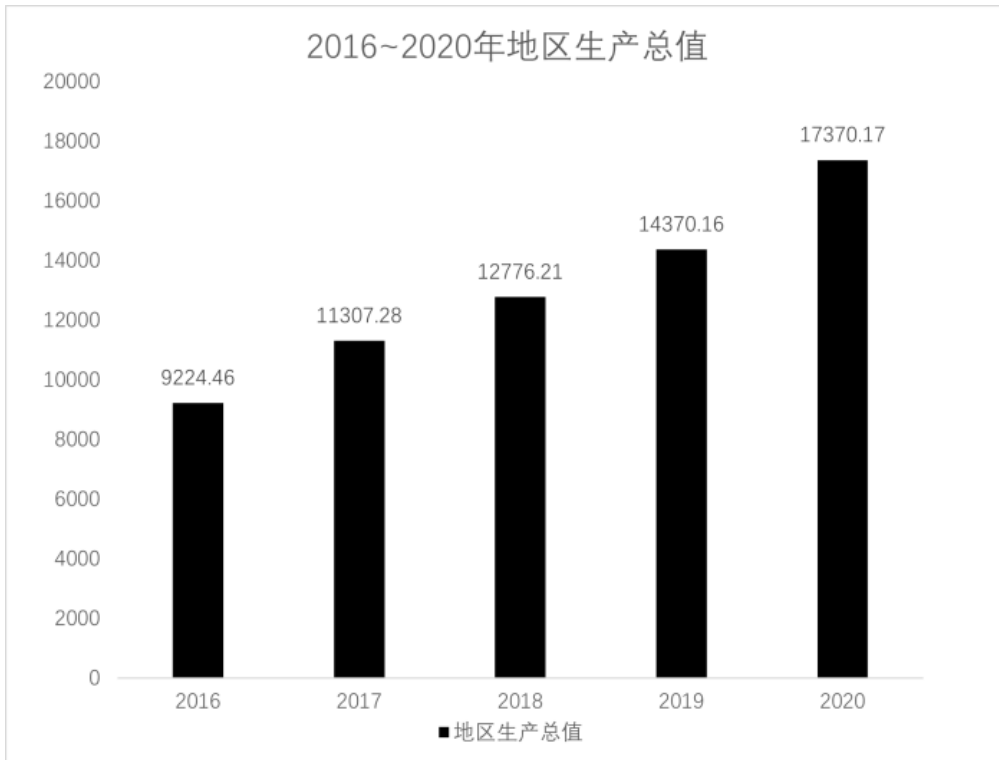
根据上述定义，M是N必要条件的选项是：

- A. 发生重大安全责任事故（M），人员伤亡（N）
- B. 一个数能被2整除（M），该数为偶数（N）
- C. 良好的家庭教育（M），孩子成才（N）
- D. 一个国家自然资源丰富（M），该国经济发达（N）

95. 下列词组与“房价上涨：宏观调控：保稳措施”逻辑关系最为贴近、相似或匹配的是：

- A. 肚子饿：吃饭：不饿
- B. 生病：打针：治疗
- C. 落后：教育：政策
- D. 刮风：下雨：乌云

某省经初步核算，2020年全年实现地区生产总值17370.17亿元，第一产业生产值202.12亿元，同比增长3.7%。第二产业生产值8277.86亿元，同比增长12.7%，第三产业生产值8890.19亿元，同比增长30.2%。第一、第二、第三产业结构比为1.2:47.6:51.2。



96. 从2017年至2020年，该省GDP增速最快的年份是（ ）年。

- A . 2017
- B . 2018
- C . 2019
- D . 2020

97. 2019年该省第二产业在全省GDP中的占比是：

- A . 10.8%
- B . 14.4%
- C . 29.5%
- D . 51.1%

98. 2020年该省的GDP同比增速是：

- A . 5.3%
- B . 9.7%
- C . 12.5%
- D . 20.9%

2020年，某地区农作物播种总面积达到1624.26万亩，比2019年同比增长4.5%。其中粮食和蔬菜播种面积大幅增长，分别为458.30万亩和110.01万亩，同比增长32.6%和31.2%；棉花、油料和甜菜播种面积大幅下降，分别为697.42万亩、104.42万亩和29.43万亩，同比下降17.2%、5.6%和18.1%。粮食作物中，小麦294.52万亩，同比增长；玉米92.66万亩，同比增长66.7%；大豆20.45万亩，同比增长3.1%；水稻33.54万亩，同比下降7.6%。蔬菜播种面积中，番茄64.48万亩，同比增长60.5%；辣椒22.34万亩，同比下降0.6%。

99. 根据上述资料，2019年油料播种面积约为（ ）万亩。

- A . 90
- B . 100
- C . 110
- D . 120

100. 2020年，下列农作物播种面积同比增幅最大的一种是：

- A . 番茄
- B . 小麦
- C . 玉米
- D . 棉花

101. 2020年粮食和蔬菜播种总面积：

- A . 比棉花的播种面积少近200万亩
- B . 同比增长超过40%
- C . 超过600万亩
- D . 约占该地区农作物总播种面积的35%

102. 2020年水稻播种面积比2019年大约少（ ）万亩。

- A . 2.34
- B . 2.52
- C . 2.76
- D . 2.85

2020年某省外外贸全年完成进出口总值548.8亿美元，由上年下降转为增长8.5%，增速高于全国0.9个百分点，其中，出口总值309.6亿美元，增长4.6%，增速同比提高1个百分点；进口总值由上年的16.3%下降转为增长14.1%，高于全国6.2个百分点。

外贸出口中，其中，对东盟出口38.2亿美元，增长14.7%，占全省出口总值的12.3%，比上年提高1.1个百分点；对俄罗斯出口28.9亿美元，增长16.4%，占9.3%，提高0.9个百分点；对墨西哥、智利、南非、尼日利亚出口较快增长，比重均有提高，分别出口4.3亿美元、4.0亿美元、3.4亿美元和3.3亿美元，分别增长61.7%、12.9%、16.5%和36.6%。对欧盟出口46.2亿美元，下降8.3%，占全省出口总值的17.0%，比上年减少2.1个百分点；对美国出口39.7亿美元，增长2.3%，减少0.3个百分点；对韩国出口19.9亿美元，下降10.6%，占6.4%，减少1.1个百分点；对日本出口15.1亿美元，下降0.3%，占全省出口总值的4.9%，减少0.2个百分点。

103. 2019年该省外外贸出口总值与进口总值相差约（ ）亿美元。

- A . 13.1
- B . 70.4
- C . 86.2
- D . 100.1

104. 2019年全年该省进出口总值为（ ）亿美元。

- A . 505.8
- B . 519.2

C . 581.9

D . 595.4

105. 2020年该省最大的出口市场是：

A . 俄罗斯

B . 东盟

C . 欧盟

D . 美国

106. 2020年该省对（ ）出口增长速度最快。

A . 墨西哥

B . 东盟

C . 尼日利亚

D . 俄罗斯

第七次全国人口普查结果表明，我国0—14岁人口为25338万，占17.95%。15—59岁人口为89438万，占63.35%。60岁及以上人口为26402万，占18.70%（其中，65岁及以上人口为19064万，占13.50%）。与2010年相比，0—14岁、15—59岁、60岁及以上人口的比重分别上升1.35个百分点、下降6.79个百分点、上升5.44个百分点。

具有大学文化程度的人口为21836万，与2010年相比，每10万人中具有大学文化程度由8930上升为15467，15岁及以上人口平均受教育年限由9.08提高至9.91，文盲率由4.08%下降至2.67%。

居住在城镇的人口为90199万，占63.89%。居住在乡村的人口为50979万，占36.11%。与2010年相比，城镇人口增加23642万，乡村人口减少16436万，城镇人口比重上升14.21个百分点。

人户分离人口为49276万，其中，市辖区内人户分离人口为11694万，流动人口为37582万。与2010年相比，人户分离人口增长88.52%，市辖区内人户分离人口增长192.66%，流动人口增长69.73%。

汉族人口为128631万，占91.11%。各少数民族人口为12547万，占8.89%。与2010年相比，汉族人口增长4.93%，各少数民族人口增长10.26%，少数民族人口比重上升0.40个百分点。

107. 下列结论错误的是：

A . 2010年以来，城镇人口一直就高于农村人口

B . 10年来我国新型城镇化进程稳步推进，城镇化建设取得了历史性成就

C . 我国经济社会持续发展，为人口的迁移流动创造了条件，人口流动趋势更加明显，流动人口规模进一步扩大

D . 少数民族人口稳步增长，充分体现了在中国共产党领导下，我国各民族全面发展进步的面貌

108. 下列结论错误的是：

A . 我国少儿人口比重回升，生育政策调整取得了积极成效

B . 人口老龄化程度进一步加深，未来一段时期将持续面临人口长期均衡发展的压力

C . 少数民族人口增长率低于汉族人口增长率

D . 受教育状况的持续改善反映了10年来我国大力发展高等教育以及扫除青壮年文盲等措施取得了积极成效，人口素质不断提高

109. 2010年，人户分离人口和流动人口分别是（ ）万。

A . 22142和26138

- B . 26138和22142
- C . 37582和49276
- D . 49276和37582

110. 与2010年相比，每10万人中具有大学文化程度人口增长率是：

- A . 57.74%
- B . 73.20%
- C . 119.57%
- D . 173.20%