

2020 年事业单位联考 A 类《职测》真题及参考答案
(安徽/湖北/内蒙古/青海/甘肃/广西/宁夏/云南/四川)
网友回忆版

公考通网校

www.chinaexam.org



公考通 APP



微信公众平台

2020 年事业单位联考 A 类《职测》真题及参考答案(网友回忆版)

(安徽/湖北/内蒙古/青海/甘肃/广西/宁夏/云南/四川)

第一部分 常识判断

1. 根据党的十九届四中全会精神，下列说法正确的是（ ）。

- A. 坚持和完善社会主义基本经济制度，推动经济持续高速发展
- B. 创新行政方式，提高行政效能，建设人民满意的管理型政府
- C. 注重加强普惠性、基础性、兜底性民生建设，保障群众基本生活
- D. 建立健全把经济效益放在首位、经济效益和社会效益相统一的文化创作生产体制机制

2. 我国脱贫攻坚取得了决定性成就，下列与之相关的说法错误的是（ ）。

- A. 今年脱贫攻坚任务完成后，我国将有 1 亿左右贫困人口实现脱贫，提前 10 年实现联合国 2030 年可持续发展议程的减贫目标
- B. 贫困人口从 2012 年年底的 9899 万人减到 2019 年年底的 551 万，连续 7 年每年减贫 1000 万人以上
- C. 具备条件的建制村全部通硬化路，村村都有卫生室和村医，农网供电可靠率达到 99%
- D. 建档立卡贫困人口中，90%以上得到了产业扶贫和就业扶贫支持，转移性收入占比上升，工资性收入占比逐年下降

3. 2020 年 5 月 28 日，十三届全国人大三次会议表决通过了《中华人民共和国民法典》，下列与之有关的说法，正确的是（ ）。

- A. 民法典在我国法律体系中具有统领地位，是一部固根本、稳预期、利长远的基础性法律
- B. 民法典是目前我国法律体系中条文最多、体量最大、编章结构最复杂的一部法律
- C. 民法典是五四运动以来中国历史上第一部以“法典”命名的法律
- D. 民法典颁布实施，意味着一劳永逸解决了民事法治建设的所有问题

4. 十三届全国人大三次会议表决通过了《全国人民代表大会关于建立健全香港特别行政区维护国家安全的法律制度和执行机制的决定》根据决定中的内容，下列说法错误的是（ ）。

- A. 维护国家主权、统一和领土完整是香港特别行政区的宪制责任
- B. 国家坚定不移并全面准确贯彻“一国两制”、“港人治港”、高度自治的方针，坚持依法治港
- C. 中央人民政府维护国家安全的有关机关根据需要在香港特别行政区设立机构，依法履行维护国家安全相关职责

D. 香港特别行政区行政长官应当就香港特别行政区履行维护国家安全职责、开展国家安全教育、依法禁止危害国家安全的行为和活动等情况，不定期向中央人民政府提交报告

5. 2020 年 6 月 1 日，中共中央、国务院印发了《海南自由贸易港建设方案》。下列关于该方案的内容说法

正确的是（ ）。

- A. 对货物贸易，实行以“低关税”为基本特征的自由化便利化制度安排
- B. 加强区块链技术在知识产权交易，存证等方面应用，探索适合自由贸易港发展的新模式
- C. 制定简明易行的实质经营，强化对偷漏税风险的识别，将自由贸易港打造成为“避税天堂”
- D. 建立以海南自由贸易港为基础，不同于我国现行法律原则的自由贸易港法治体系，营造国际一流的自由

贸易港法治环境

6. 下列四个宣言按出现时间的先后顺序，排列正确的是（ ）。

- 1 《人权宣言》 2 《共产党宣言》
- 3 《独立宣言》 4 《解放黑人奴隶宣言》

- A. 3124
- B. 3412
- C. 1234
- D. 1243

7. 近代以来，许多英雄为新中国的成立与建设做出了重大贡献，下列英雄礼赞与涉及人物对应错误的是

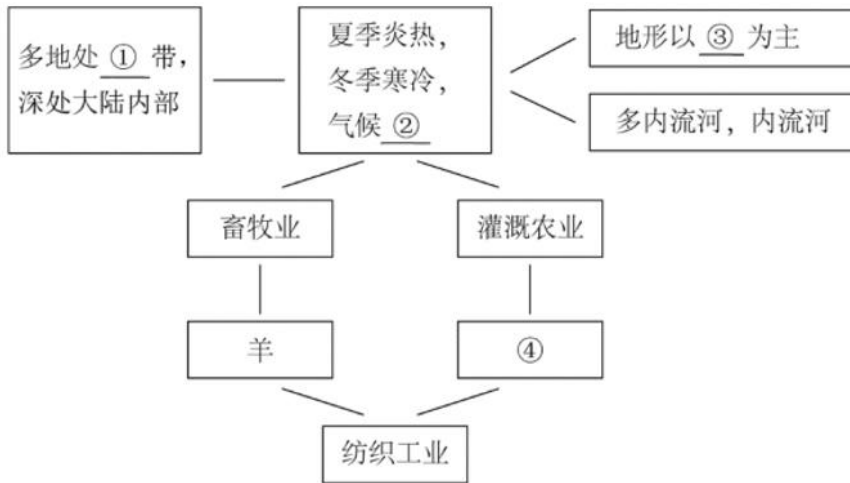
（ ）。

- A. 隆化城下高举信仰不屈的丰碑——董存瑞
- B. 上甘岭上舍生忘死无惧又无悔——黄继光
- C. 松嫩平原爬冰卧雪只为这一刻——赵尚志
- D. 荒漠风餐露宿算盘打出核威慑——李四光

8. 关于中国历史上著名的改革，下列说法错误的是（ ）。

- A. 商鞅变法的“分户令”推动了自耕农经济发展
- B. 北魏孝文帝以南伐为名来达到迁都洛阳的目的
- C. 王安石采用“青苗法”打击了逃避赋税的现象
- D. 张居正改革的“一条鞭法”意在整顿赋役制度

9. 图示为中亚的地理环境要素的内在联系分析，依次填入下列空白中正确的是（ ）。



- A. 温带；干燥；平原、丘陵；棉花、小麦
- B. 温带；干燥；山地、高原；玉米、水稻
- C. 亚热带；湿润；平原、河谷；咖啡、水稻
- D. 亚热带；干燥；丘陵、盆地；棉花、小麦

10. 瓷器的产地俗称“窑口”，不同窑口的瓷器各有其工艺特征。下列瓷器均为故宫博物院的藏品，根据外观描述，对应关系最可能错误的是（ ）。

- A. 青灰色釉带有冰裂纹的瓷盘——哥窑
- B. 通体乳白色釉质温润如象牙的瓷瓶——越窑
- C. 通体粉青釉凸起处形成白色弦纹的瓷瓶——龙泉窑
- D. 内侧天蓝釉外侧玫瑰紫釉的花盆——钧窑

11. 根据立案、受理等方面相关的法律法规，下列说法正确的是（ ）。

- A. 张某遭到诈骗向公安机关报案，公安机关决定不立案时，无需向张某出具书面通知
- B. 王某因合同纠纷向人民法院起诉，人民法院裁定不予受理时，无需说明理由
- C. 杨某因对国务院宣布其所住地区进入紧急状态的决定不服，向人民法院起诉，人民法院应不予受理
- D. 朱某因民间借贷纠纷向人民法院起诉，人民法院可以以欠款人不常居住在法院所在辖区为由，不接收起诉状

12. 下列选项中，没有违反我国广告法相关规定的是（ ）。

- A. 某食品公司销售的袋装核桃上印有“经常用脑，多吃 XX 牌核桃”的广告语
- B. 某公司通过网站进行金融产品销售，在其网站首页中间位置发布“100%本息担保安全优质的理财服务”字样的广告
- C. 某培训机构在其网站的页面中宣传“一纸协议，一次成‘公’，实现公考学习效率 300%的提升”

D. 某超市将本店促销活动的海报放在超市附近居民区内的每个住户家门口，使得居民知悉其打折信息

13. 2020年5月28日，十三届全国人大三次会议表决通过的《中华人民共和国民法典》，首次对“隐私”的定义作出了规定，并强化了对隐私权的保护。下列选项中，不属于侵犯隐私权的是（ ）。

A. 某知名导演钱某未经演员李某同意，将自己与李某私下的微信聊天记录发到网上，以证明二人关系良好

B. 某房地产公司职员孙某模仿自己上司刘某在工作中的神态语气并制成视频，未经刘某同意，将视频公开发布到网上，以增加网络点击量

C. 某银行应王某债权人的要求，未经王某同意，提供王某在该银行的流水记录，以证明王某存在隐匿、转移资产的情况

D. 某网络视频播放平台未经张某同意，将张某在该平台的观影记录提供给其所任职的政府机关，以证明张某在上班时间没有认真履行工作职责

14. 下列说法不符合科学常识的是（ ）。

A. 过夜的白开水可以饮用

B. 可以用食用醋来去除水壶里的水垢

C. 衣服上的碘酒可以用水擦洗

D. 可通过蒸馏除去自来水中的一些可溶性杂质

15. 下列厨房常用到的物品中，能与水混合形成溶液的是（ ）。

1、花生油；2、蔗糖；3、纯碱；4、冰块；5、奶；6、白酒。

A. 146

B. 245

C. 236

D. 123

16. 下列关于物质的应用，错误的是（ ）。

A. 氖被广泛用来制作霓虹灯

B. 氮被用于超低温技术

C. 石墨可用于切割大理石

D. 一氧化碳可用来冶炼金属

17. 下列生活现象与物理知识对应正确的是（ ）。

A. 吃火锅时，辣锅比清汤更先沸腾——油的沸点比水的沸点低

B. 家用水壶水沸后自动断——水分子扩散，气压变大

C. 虹高日头低，早晚披蓑衣——热空气遇冷会凝结成水滴

D. 铁轨上铺枕木——减少摩擦力，增加车速

18. 关于日常生活中处理伤口时的一些情况，下列说法正确的是（ ）。

- A. 伤口无论大小一定要消毒
- B. 被动物抓伤后要及时用创可贴包扎
- C. 湿润环境更有利于伤口的愈合
- D. 伤口痊愈后出现色素沉淀应立即就医

19. 下列对联与其所写人物对应错误的是（ ）。

- A. 四面湖山归眼底，万家忧乐到心头——范仲淹
- B. 宰相状元余事之，文章义节两兼之——文天祥
- C. 写鬼写妖高人一等，刺贪刺虐入木三分——蒲松龄
- D. 枫叶四弦秋，根触天涯迁谪恨；浔阳千尺水，勾留江山别离情——杜甫

20. 下列与抗生素有关的说法，正确的是（ ）。

- A. 抗生素能够通过食物链进入人体内部
- B. 抗生素主要治疗以病毒感染为主的疾病
- C. 广谱抗生素是指更容易产生耐药性的抗生素
- D. 食用含抗生素的饲料可增强饲养动物的免疫力

第二部分 言语理解与表达

21. 一本书首先要孩子喜欢，然后再倒过来看这本书好不好，而不是先认为这本书是好书，就要求孩子去读。孩子从书中获得什么，也不是_____的，比如我们说阅读对作文有好处，但也不是孩子读了一本书，立刻就会写作文了。

填入画横线部分最恰当的一项是（ ）。

- A. 立竿见影
- B. 千篇一律
- C. 唾手可得
- D. 游刃有余

22. 标签化思维的可怕之处，不仅在于其简单化，不足以反映复杂的现实，还在于一旦形成标签之后，就容易对人群进行_____，形成身份的固化，进而把一些人抛进道德的海洋里。年轻人的路要怎么走，旁人可以_____、引导、规劝，但不要简单粗暴地扣帽子，造成不必要的争论、伤害。

依次填入画横线部分最恰当的一项是（ ）。

- A. 监督 点拨
- B. 定位 批评
- C. 评价 教育

D. 划分 提醒

23. 漆艺术是中国最具代表性的文化元素之一，但随着工业化时代的到来，它因材料的特殊性和制作的周期性，在人们的生活中开始_____甚至缺位；而化学材料聚酯漆的广泛使用，似乎替代了人们对天然漆的认知，以致概念_____到“漆”好像就是指“聚酯漆”，人们对天然漆的认识甚至需要重新启蒙。传承漆工艺、重续漆文化已经成为当下重要的文化命题。

依次填入画横线部分最恰当的一项是（ ）。

- A. 式微 混淆
- B. 衰落 交叉
- C. 凋敝 含混
- D. 虚化 模糊

24. 人们一般以猫的意志为中心去理解它们的行为，所以很难想象猫模仿其他猫的样子，但其实这是猫向同类表达_____的一种方式。它们愿意模仿关系很好的猫的动作，以此来增加自己的狩猎技巧，而且它们也会允许自己的领地有它们的气味，还会分享自己行动的路线。由此可见只要得到它们的_____，猫会很放心地将后背交给同伴。

依次填入画横线部分最恰当的一项是（ ）。

- A. 亲密 欣赏
- B. 崇拜 首肯
- C. 羡慕 默许
- D. 友好 认可

25. 常识经常是我们“众所周知”的事情，但常识也是在不断发展变化的。科学研究的目标是探索未知，这个过程往往需要突破常识的_____，而新的科技成果就是我们“新常识”的_____。比如，历史上，“日心说”打破“地心说”，重塑了人类的宇宙观；“进化论”颠覆上帝造人假说，重塑了人类的生物观。

依次填入画横线部分最恰当的一项是（ ）。

- A. 局限 动力
- B. 瓶颈 起点
- C. 禁锢 来源
- D. 底线 依据

26. 进入“移动互联”时代，我们获取特定知识越来越容易。以往，需要在图书馆中找寻多日的研究资料。今天，借助移动互联，借助一些搜索工具，这些知识都可以随时随地，_____。今天，重要的已经不再是掌握特定知识，而是具备较高的思维水平，而是对信息的重要性做出_____，而是在各种可能的候选方案中快速做出自己的抉择。

依次填入画横线部分最恰当的一项是（ ）。

- A. 信手拈来 判断
- B. 触类旁通 评价
- C. 手到擒来 选择
- D. 唾手可得 解释

27. 从个人无意识、_____的影像记录，到组织严密、目标明确、系统全面的深度追踪，纪实摄影体现出见证人类社会发展的历史价值。个人生存状态、家庭生活变迁、社会文明进程、国家发展历程、时代步伐变迁等，纪实摄影建构的“记忆银行”，_____了人们的视觉感官，为我们提供了生动逼真的历史见证。

依次填入画横线部分最恰当的一项是（ ）。

- A. 碎片化 延伸
- B. 零散化 重塑
- C. 浅表化 拓展
- D. 娱乐化 刺激

28. 阐释与建构，是_____的。遍观中国思想史、美学史，“通”与“变”之间多是通过阐释与建构实现的。没有建构的阐释，是缺少思想归趋的；而不是建立在阐释基础上的建构，则是缺少根基的，是_____。当代的一些美学文艺学研究名著，都是阐释与建构互动的产物。

依次填入画横线部分最恰当的一项是（ ）。

- A. 此消彼长 本末倒置
- B. 一体两面 无本之木
- C. 相得益彰 纸上谈兵
- D. 齐头并进 闭门造车

29. 翻译不像物理、化学那样定义明确，翻译时有赖于译者的慧眼和_____的学识。译者不仅要有能够基本配得上原作的译笔，还需要激情和创造精神。可以说，译者耗尽心血，读者_____。

依次填入画横线部分最恰当的一项是（ ）。

- A. 学贯中西 自愧不如
- B. 博古通今 乐此不疲
- C. 满腹经纶 唾手可得
- D. 融会贯通 坐享其成

30. 2019年是新中国成立70周年，也是“两个一百年”奋斗目标历史交汇期的关键之年，在这样一个时间节点上，以中央名义下发爱国主义教育实施纲要可谓_____。当前，我们比历史上任何时候都更加接近民族伟大复兴这一目标，但与此同时，面临的风险挑战、险关阻碍不容忽视。无论是全面深化改革进入深水区、推

进国家治理现代化迫在眉睫，还是我国发展的外部环境更加复杂多样，抑或是分裂势力_____，凡此种种，都需要我们以爱国主义教育来凝聚共识、振奋精神、汇聚力量。

依次填入画横线部分最恰当的一项是（ ）。

- A. 力敌千钧 卷土重来
- B. 趁热打铁 甚嚣尘上
- C. 正当其时 兴风作浪
- D. 恰到好处 惹是生非

31. 微博刷热搜、电影刷高分、餐馆刷好评、微信刷阅读量，这种“以银子换热度，以热度挣银子”的模式背后，_____出“流量至上”“唯流量论”思维的流弊。网络留下的是时代的_____，流量反映的是公众的心声，但掺水的数据、虚假的点击，并不能成为这个时代有说服力的_____。

依次填入画横线部分最恰当的一项是（ ）。

- A. 反映 镜像 形象
- B. 暴露 记忆 见证
- C. 渗透 积淀 记载
- D. 折射 烙印 注脚

32. 纪录片《徒手攀岩》讲述了攀岩大师亚历克斯的传奇经历。攀登不仅仅为年轻的亚历克斯带来了名利和争议，还为他_____了看待世界的方式。亚历克斯选择将自己在公益和环保方面的理念和事业宣讲于众，_____人们去帮助不幸的人。声名鹊起并未让他_____于荣誉，而是向更好的世界进发。

依次填入画横线部分最恰当的一项是（ ）。

- A. 重塑 鼓动 沉湎
- B. 建构 激励 迷失
- C. 提供 慰勉 流连
- D. 丰富 希冀 止步

33. 经过高尔顿、宾尼特、戈达德等人百年来的“不懈努力”，终于将智商测试_____成一门“科学”，并得到了社会的普遍认同，于是智商测试实际上就成为又一个相对“_____”的筛选机制。它和作为主要筛选机制的现代教育相伴而行，作为“教育筛选”的辅助手段，确实有着某种程度的_____。

依次填入画横线部分最恰当的一项是（ ）。

- A. 塑造 有效 特殊性
- B. 打造 公平 合理性
- C. 改造 科学 偶然性
- D. 营造 快速 必要性

34. 近两个世纪，工业革命改变了全球财富的产生、流通和分配，人口聚集于都市，城市化改变了社会结构，引领着社会价值风尚，是高歌猛进的_____；乡村则一度被视为保守落后，需要被纳入城市的发展轨道，沦为_____。直到最近，城市中心的发展方式遇到环境破坏、资源枯竭、交通拥塞等问题，人们才开始_____除了欧美领衔的工业化、城市化发展道路之外，还有没有其他可能的历史选项。

依次填入画横线部分最恰当的一项是（ ）。

- A. 主旋律 附庸 反思
- B. 风景线 鸡肋 探索
- C. 协奏曲 配角 寻觅
- D. 大手笔 笑柄 考虑

35. 事实上，数学是非常有创造性的。它看起来总是_____，不越雷池半步，然而，16世纪，数学家对某一个问题迸发出难以置信的创造力。遵循数学的法则，他们找到的答案恰恰违反了这些法则。与“实数”相对，他们创造了“虚数”。计算方法_____，但虚数不是由1构成的。最初，这种做数学的方法似乎_____，但最终大有妙用。

依次填入画横线部分最恰当的一项是（ ）。

- A. 墨守成规 标新立异 天方夜谭
- B. 井然有序 一如既往 异想天开
- C. 壁垒分明 另辟蹊径 匪夷所思
- D. 循规蹈矩 别无二致 荒诞不经

36. 馆阁体诞生于明朝科举取士，是指流行于馆阁及科举考场的一种书写体式，也属于当时官方使用的书体，主要为楷书。它作为一种方正、光沼、乌黑、大小一律的明代官场书体，在清代也得到了一定的弘扬。明代称其为“台阁体”，清代才称为“馆阁体”。馆阁体在某种程度上限制了楷书的书写自由，使得明清两代的楷书在很大范围内缺少个性，这是它的局限。但是，作为一种官方使用的书体，它又具有别的书体不可替代的实用价值，至少，它可以在科举考试阅卷的过程中，不会因为书写潦草而影响考官阅读评卷。所以，馆阁体在科举兴盛之际，能独占官方运用的文字鳌头，也是自然而然的事情。

这段文字意在强调（ ）。

- A. 应辩证地评价馆阁体的艺术价值
- B. 馆阁体有其存在的历史和实用价值
- C. 官方使用书体的选择标准相对更加严苛
- D. 馆阁体一定程度上促进了科举考试的发展

37. 重点国有景区门票降价，不但直接触及景区的经济利益，而且伤及一些景区长期形成的“门票依赖”发展模式，因此必然会遭遇各种阻力和障碍。根据相关规定，重点国有景区门票降价不得只降低淡季价格、不

降低旺季价格；不得以经营管理者在政府指导价范围内自主下浮价格替代政府降价；不得通过不合理设置“园中园”门票，提高其他游览服务价格，将门票、相关游览服务项目强制捆绑销售等方式冲减降价实效，搞“明降暗升”等。这些规定明确指向此前景区门票降价中出现的种种“招数”，而只有这些“招数”彻底失灵失效了，景区门票价格形成机制、成本监审机制和外部监督机制才算真正建立。

这段文字意在说明（ ）。

- A. 必须尽快建立与之相关的法律监督机制
- B. 应从理念上摒弃“门票依赖”的发展模式
- C. 有助于推动旅游业持续、稳定、健康地发展
- D. 关键在于将景区门票降价的规定落在实处

38. 小剧场的“小”首先体现在物理空间的“小”。一般来讲，小剧场在物理空间的容纳度上是小的，演出空间基本上在 2000 平方米左右，观众席在 500 座以下，最为常见的为 200 至 300 个座位。参演人数不多，一般为 2 至 6 人，有时也会有独角戏。这就决定了演剧空间的紧凑性和观演关系的紧密性。因此，小剧场不宜过度渲染舞台美术的宏阔与震撼效果，而应该关注思想性、艺术形式表达或创新探索维度等戏剧艺术的本体呈现。用英国著名戏剧家彼得·布鲁克的话来说：“你若要看到什么有质量的东西，就得创造一个空的空间。”小剧场便是以鲜活的、新颖的方式传递内容、意义、表达、语言和音乐等核心艺术元素的存在。

这段文字意在说明（ ）。

- A. 小剧场营造出了一个空的艺术创作空间
- B. 物理空间的小决定了小剧场创作的特点
- C. 小剧场创作应更关注戏剧艺术本体呈现
- D. 小剧场具有更加多元化方向的创作取向

39. 大脑中有许多不同类型的细胞，例如传递信号的神经元和支持神经功能的神经胶质细胞。尽管所有这些细胞都包含相同的基因组，但不同类型的细胞表达这些基因的方式不同。通俗来说，人们可以将基因组想象成钢琴上的 88 个键，每个细胞使用的都并非全部琴键，因此每个细胞“弹奏”的那部分琴键决定了细胞的类型。下丘脑是包括人类在内的所有脊椎动物大脑的基本区域。研究表明，下丘脑内一个特定的区域腹膜下丘脑的腹侧部分，包含控制侵略行为的细胞。在这些研究中，即使没有任何威胁的情况下，对雄性和雌性小鼠脑中这些神经元进行强刺激，都会使它们立即变得具有攻击性。

这段文字主要讲的是（ ）。

- A. 人类下丘脑包含控制侵略的细胞
- B. 不同的大脑细胞类型具有特定的功能
- C. 细胞的类型是由多种因素共同决定的
- D. 不同类型的脑细胞有其特有的基因表达方式

40. 当下的家庭教育中，“教育超量”与教育不足同时存在。有些家长唯恐自己的孩子“输在起跑线上”，为孩子报了多个辅导班、兴趣班，给孩子造成很重的负担。也有家长认为孩子还小，不必学什么，让孩子自由成长就行。这种自然教育的观念，与西方教育思想的影响有关。卢梭在《爱弥儿》中就讲，“要放任无为，才能一切有为”“你开头什么都不教，结果反而会创造一切教育奇迹”，卢梭的这些说法有一定的启发性，但其片面性也是显而易见的。事实上，卢梭本人也不是“按照”他的教育观念成长的。

这段文字意在说明（ ）。

- A. 家庭教育不应偏信、执着于某一具体理论
- B. 如何把握家庭教育的尺度始终是一道难题
- C. 片面强调教育“超量”“减量”都不可取
- D. “教育超量”与教育不足都有其生存的土壤

41. 伽马射线是人们认识原子核的“探针”。不同于传统的离线伽马谱学测量，在束伽马谱学测量是在大科学装置的加速器上，利用多探头多角度的伽马探测器组成的高分辨伽马探测阵列开展在束伽马谱学测量，并进行相关核科学的前沿课题研究，是目前世界上各大核物理实验室均采用的重要研究手段。我国在在束伽马谱学研究平台整合与升级方面已迈出关键一步。通过多方合作，共建的新探测阵列探测器单元数量由15个提高到50个，将进一步提升整个实验终端探测能力，预计将会在核结构研究领域取得更丰富更高水平的研究成果，同时该探测阵列也将应用于核反应、核天体、核技术应用等领域。

这段文字主要讲的是（ ）。

- A. 在束伽马谱学测量的应用领域非常广泛
- B. 我国开始布局建设新一代伽马探测阵列
- C. 在束伽马谱学测量对于核物理研究意义重大
- D. 伽马射线在用于原子核研究方面又有新进展

42. 判断一个天体是否来自太阳系之外，最好的办法是看它的轨道——如果轨道是椭圆，即使是非常扁以至于接近抛物线的椭圆，那么它一般就是太阳系原有的天体。因为椭圆轨道是一个封闭的轨道，它不可能存在于一个太阳系之外的源头。当然，这里说的轨道形状都是指该天体相对于太阳运动的轨道。如果不是椭圆，而是双曲线，那么它极有可能就是来自太阳系外。确定了这个天体的轨道之后，反向推过去，原则上可以确定这个天体来的方向。但是，太阳系、银河系都在运动，而且速度都不慢。即便我们确定了它来的方向，也很难追到它究竟来自哪颗恒星附近。

这段文字意在说明（ ）。

- A. 天体的星系归属很难准确判断
- B. 不同天体的运行轨道差异非常大
- C. 太阳系天体的运行轨道一般为椭圆

D. 天体的运行轨道决定了它的星系归属

43. 很长一段时间，中国文学海外传播主要依赖有规模有体系的经典作品译介，这些译介在推动中国文学走出去的过程中发挥了重要作用，但有时也会出现译介书目和目标读者的喜好、接受度之间有差距的情况，从而影响译介和推广的效果。而如今，类型文学海外传播则更注重市场需求，有时候甚至表现出从“译出”到“译入”的变化，即不是先译好了再推送，而是对方主动译入。据称，中国网络小说的许多海外读者因为等不及人工翻译，便通过机器翻译来实时阅读中文更新内容，这种如饥似渴的阅读需求是中国文学走出去的根本动力。

这段文字意在说明（ ）。

- A. 中国文学走出去首先需要满足市场需求
- B. 类型文学在国外读者中拥有很高的人气
- C. 中国文学的传播方式会直接影响到效果
- D. 中国文学海外传播的路径需要与时俱进

44. ①近年来，人们对甜味零食、含糖饮料的需求越来越大，摄入的添加糖也与日俱增

②碳水化合物是一系列只由碳、氢、氧三种元素构成的物质，糖类就是种类繁多的碳水化合物中的一类

③许多食物（比如水果）中天然都含有糖，我们吃下这些含有糖类的食物后，可以吸收并释放能量，支持身体的正常生命活动

④添加糖的形式很多，我们熟知的白砂糖、红糖、冰糖、糖浆都属于添加糖

⑤这对我们的身体来说，可不是一个好消息

⑥“添加糖”与天然糖相对应，顾名思义，就是为了增加食物的甜味而额外添加进食物中的糖

将以上六个句子重新排序，语序正确的是（ ）。

- A. ①⑤⑥④②③
- B. ②③⑥④①⑤
- C. ③②⑥⑤①④
- D. ④①⑤③②⑥

45. ①现有的知识体系是不完备的，学生需要对其保持适当的距离，带着怀疑和批判的眼光去学习

②学生诚然需要尊重老师，但是教师和学生都应该尊重科学与真理

③要允许和鼓励学生对教师所讲的内容提出质疑和批判，教师与学生应该平等地讨论和交流，不能以势压人

④学生不仅要学习和掌握现有的知识体系，还需要具有批判精神和创造精神，从而具备创造新知识的能力

⑤正因如此，所谓的“师道”就不能过分“尊严”，而应该是适度“尊严”

⑥在这种情况下，“吾爱吾师，吾尤爱真理”的古训仍然有效

将以上六个句子重新排列，语序正确的是（ ）。

- A. ①⑤②④⑥③
- B. ②③⑤⑥①④
- C. ③②①⑥④⑤
- D. ④①⑤③②⑥

第三部分 数量关系

46. 工厂每天生产产品的合格率相同。如每天在所有生产的产品中随机抽 1 件，抽中不合格产品的概率为 0.1%。现工厂改进生产工艺，日产量增加 20%，且每次抽中不合格产品的概率比改进之前下降了 0.07 个百分点。问现在每生产 10 万件产品，不合格产品的数量比未改进工艺前（ ）。

- A. 增加了 20 件
- B. 增加了 16 件
- C. 减少了 50 件
- D. 减少了 70 件

47. 某论坛上午举办甲会议，下午举办乙会议。报名参加甲会议和乙会议的人次之和正好为 520。已知甲会议共报名 240 人。且报名参加甲会议的人中有一半报名参加乙会议，问仅报名参加乙会议的人数约占至少报名参加 2 个会议之一总人数的（ ）。

- A. 30%
- B. 40%
- C. 50%
- D. 60%

48. 小张每周一、周三、周五和周日各写 1 篇日记，其余时间不写日记，从不间断。某年第三季度，他写的日记数量与第四季度相同。问当年劳动节是周几？（ ）

- A. 周一
- B. 周二
- C. 周三
- D. 周四

49. 甲和乙同时对某初创企业投资 10 万元和 20 万元，分别获得该企业 x 股和 $2x$ 股股份。一段时间后乙售出其所持有的股份，之后企业估值又增长了 2 倍，此时甲出售其所持有的股份，获利比乙高 50 万元。问乙在本次投资中获取的利润为多少万元？（ ）

- A. 40
- B. 60
- C. 80

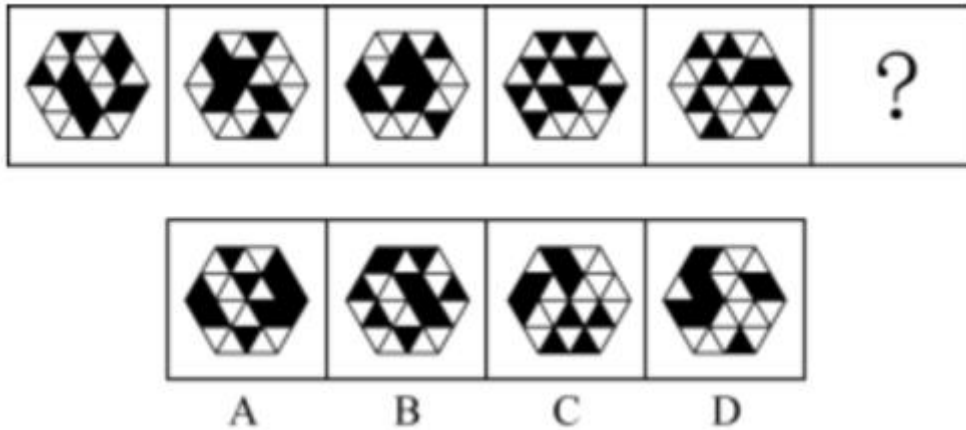
D. 120

50. A、B、C 三地之间彼此有唯一道路相连，且任两地之间的道路长度均为 x 千米。已知从 B 地出发，往 A 地和 C 地都是下坡路，C 地到 A 地是平路。甲、乙两车同时从 A 地出发，甲往 B 地方向、乙往 C 地方向，在三地之间不停循环行驶。已知甲车全程保持匀速，乙车在上坡、平路和下坡时，速度分别为甲车的 0.5、1 和 2 倍。两车第一次和第二次相遇的位置最短相隔 y 千米（按道路长度计算），问 y 的值在以下哪个范围内？（ ）

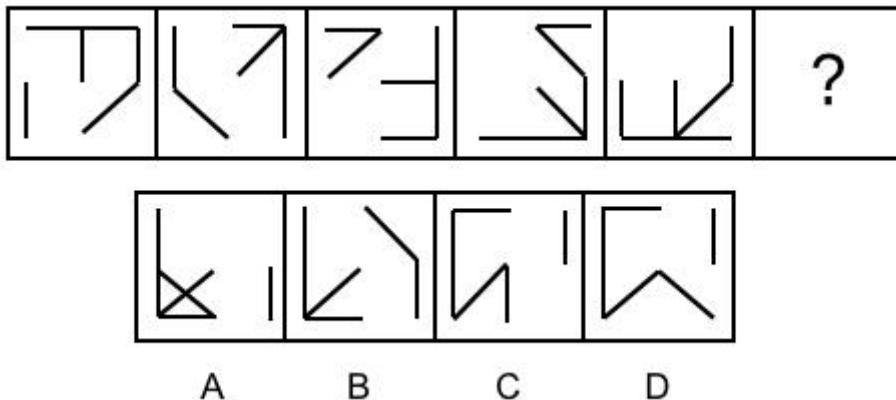
- A. $y < x$
- B. $x \leq y \leq 1.15x$
- C. $1.15x \leq y \leq 1.3x$
- D. $y \geq 1.3x$

第四部分 判断推理

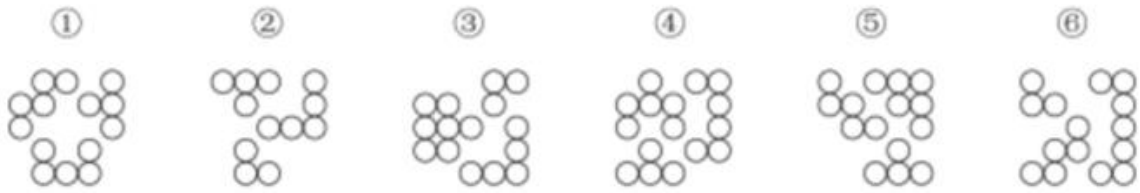
51. 从所给的四个选项中，选择最合适的一个填入问号处，使之呈现一定的规律性（ ）。



52. 从所给的四个选项中，选择最合适的一个填入问号处，使之呈现一定的规律性（ ）。

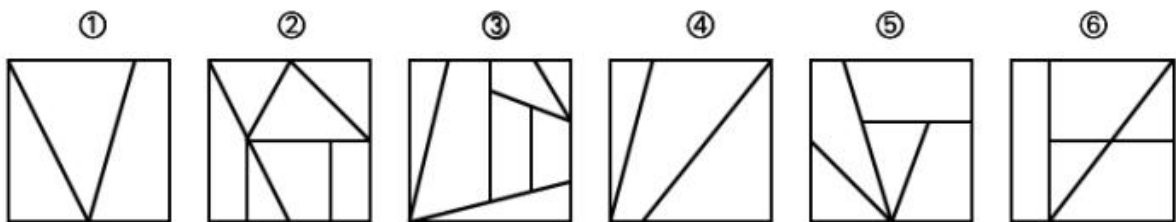


53. 把下面的六个图形分为两类，使每一类图形都有各自的共同特征或规律，分类正确的一项是（ ）。



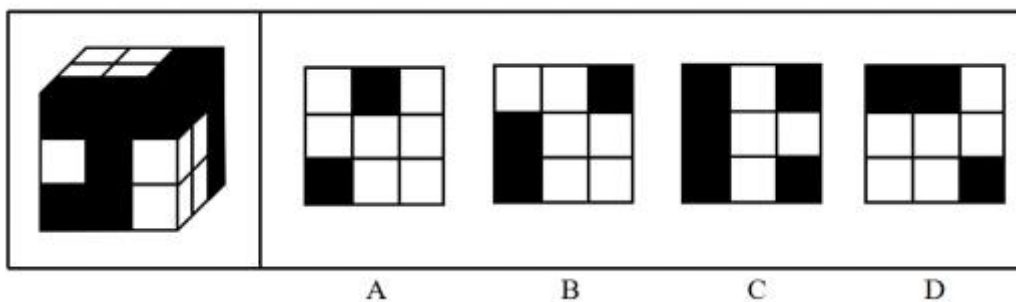
- A. ①③④, ②⑤⑥
- B. ①③⑤, ②④⑥
- C. ①②⑥, ③④⑤
- D. ①④⑥, ②③⑤

54. 把下面的六个图形分为两类, 使每一类图形都有各自的共同特征或规律, 分类正确的一项是 ()。



- A. ①②④, ③⑤⑥
- B. ①③⑤, ②④⑥
- C. ①②⑥, ③④⑤
- D. ①④⑥, ②③⑤

55. 左图为 17 个同样大小的白色实心正方体和 10 个同样大小的灰色实心正方体堆叠而成的大正方体, 将其从任一面剖开, 以下哪个不可能是该正方体的截面? ()



56. 战略思维能力就是高瞻远瞩、统揽全局, 善于把握事物发展总体趋势和方向的能力; 历史思维能力就是知古鉴今, 善于运用历史眼光认识发展规律、把握前进方向、指导现实工作的能力; 辩证思维能力就是承认矛盾、分析矛盾、解决矛盾, 善于抓住关键、找准重点、洞察事物发展规律的能力。

①客观地而不是主观地、发展地而不是静止地、全面地而不是片面地、系统地而不是零散地、普遍联系地而不是孤立地观察事物、分析问题、解决问题

②从政治上认识和判断形势, 通过纷繁复杂的表面现象把握事物的本质和发展的内在规律, 在解决突出问

题中实现关键突破，在把握全局中推进各项工作

③认真研究社会发展规律，把握全球发展的进程，对未来作出准确预判，未雨绸缪，顺应世界发展的大趋势，做人类文明的推动者和引领者

根据上述定义，下列哪项判断最为准确？（ ）

- A. ①体现的是战略思维能力，②体现的是历史思维能力，③体现的是辩证思维能力
- B. ①体现的是辩证思维能力，②体现的是战略思维能力，③体现的是历史思维能力
- C. ①体现的是战略思维能力，②体现的是辩证思维能力，③体现的是历史思维能力
- D. ①体现的是辩证思维能力，②体现的是历史思维能力，③体现的是战略思维能力

57. 禀褒效应是指当个体一旦拥有某项物品、奖励或者荣誉之后，那么他对该物品、奖励或者荣誉的价值评价要比未拥有之前明显提高。

根据上述定义，下列哪项属于禀褒效应？（ ）

- A. 小李花了 150 万元买了一套精装修的房屋，尽管小区房价在降，但他觉得自己的房子结构合理、聚气，交通方便，至少值 200 万元
- B. 小唐经过精心挑选购买了 4 只基金，但是自从他买后，这几只基金在很长一段时间不停地下跌，而他坚信这些基金一定会大涨获得超值回报
- C. 小王的同学赵某的论文在某次国际会议上获奖，小王逢人便说，这个国际会议奖项的国际认可度极高，能够获得该奖非常不容易
- D. 由于工作成绩突出，公司奖励给小陈价值 10 万元的一块定制金表，同事愿意出价 15 万元收藏，但是小陈毫不犹豫地拒绝了

58. 自毁型指的是一个观点、思想或者理论，如果假定其是正确的，则可以推导出它自身是错误的；而如果假定其是错误的，却未必能得出它自身是正确的。

根据上述定义，下列除哪项外均属于自毁型？（ ）

- A. 任何人都不能要求别人怎么样
- B. 不存在用十四字表达的汉语语句
- C. 如果你不让我安生，那么大家就都别想安生
- D. 所有的语句都是错误的

59. 存款保险又称存款保障，是指国家通过立法的形式，设立专门的存款保险基金，明确当个别金融机构经营出现问题时，依照规定对存款人进行及时偿付，保障存款人权益。

根据上述定义，下列哪项可以获得存款保险的偿付？（ ）

- A. 张某在某国有银行购买了 10000 元货币基金，结果 3 个月之后，损失了 500 元
- B. 李某看到一家地方银行三年期定期存款的利率比国有银行高不少，于是将全部积蓄 80000 元存入，结果

不到半年，这家银行破产了

C. 某银行系统升级导致客户当天无法进行线上交易，王某因无法按时支付合同约定的尾款而损失 10000 余元

D. 刘某半年前在某商业银行办理了 400000 元一年期定期存款，最近存款利率上调，刘某认为自己因此受到损失，希望获得补偿

60. 籍势而为指的是合理利用所处环境、地位而积极践行理想信念的进取心态。

根据上述定义，以下哪项属于籍势而为？（ ）

- A. 士不可以不弘毅，任重而道远
- B. 穷则独善其身，达则兼善天下
- C. 居庙堂之高则忧其民，处江湖之远则忧其君
- D. 天行健，君子以自强不息；地势坤，君子以厚德载物

61. 愧疚救赎心理指的是对由于自己的过错而造成对他人的伤害时，有意无意地会认为被伤害的人也有责任，从而减轻自己的负罪感。

根据上述定义，下列哪项涉及愧疚救赎心理？（ ）

- A. 早年家庭条件不好，女儿吃了不少苦，现在条件好了，妈妈常常逼迫女儿吃这吃那
- B. 看到不少老人、儿童孤苦伶仃，晓华决心从事国际慈善事业，救助世界上的困苦者
- C. 小陈开车遇堵，等待慢行时看手机，和旁边插队的车辆撞在一起，小陈认为对方需要承担主要责任
- D. 小黄随手扔在路边的香蕉皮绊倒了路过的张大娘，小黄本想扶起她，但转念一想，觉得都怪她自己走路不仔细，自己没必要多管闲事

62. 列举分承是两组或两组以上的并列项目前后照应彼此衔接，具体程序是在叙述中，先提起两件、三件或更多的事项，然后按照前面提及的次序，对事项分别加以阐述。

根据上述定义，下列哪项运用了列举分承？（ ）

- A. 我住长江头，君住长江尾。日日思君不见君，共饮长江水
- B. 迢迢牵牛星，皎皎河汉女。纤纤擢素手，札札弄机杼
- C. 山桃红花满山头，蜀江春水拍山流。花红易衰似郎意，水流无限似依愁
- D. 沧海月明珠有泪，蓝田日暖玉生烟。此情可待成追忆，只是当时已惘然

63. 塔西佗陷阱指的是一种社会现象，指当政府部门或某一组织失去公信力时，无论说真话还是假话，做好事还是坏事，都会被社会公众认为是说假话、做坏事。

根据上述定义，下列哪项属于塔西佗陷阱？（ ）

- A. 商鞅打算推出新法令进行变法，怕民众不信任，他采用“立木赏金”的办法赢得了民众的信任
- B. 西斯家族曾经受到国王不公正的对待，因此，凡是国王提出的议案，不论好坏，他们家族一律反对

C. 由于甲国多次违背盟约，当他们再次诚恳提出与乙国结盟的时候，乙国断然拒绝了

D. 某公益组织为了回应老百姓普遍的质疑，聘请第三方对其接受捐赠的所有物品和去向进行了公示，但老百姓认为他们是在作秀

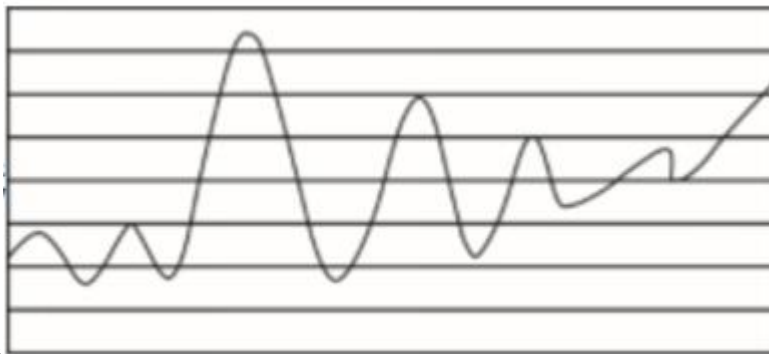
64. 标语可以分为多种类型。“请君入瓮”型标语指的是表面上给出可供选择的两个或者两个以上的情况，实际上，其中的若干情况是不能选择的，结果往往是唯一的，别无其他选择；“循循善诱”型标语指的是通过给出某一行为将获得的结果，从而引导人们选择或者放弃某一行为。

根据上述定义，下列哪项中的标语属于“请君入瓮”型？（ ）


- A. 今天到处串门，明天肺炎上门
- B. 今朝共尝野味，明日地府相会
- C. 口罩还是呼吸机，您老看着二选一
- D. 带病回乡不孝儿郎，传染爹娘丧尽天良

65. 一个矩阵中存在一条从左到右的曲线。如果这条曲线右边的终点高于左边的起点，则称该曲线为乾线；如果这条曲线右边的终点低于左边的起点，则称该曲线为坤线。如果这条曲线的最高点在最低点的左边，则称该曲线趋坤；如果这条曲线的最高点在最低点的右边，则称该曲线趋乾。趋乾的乾线称为双乾线，趋坤的乾线称为坤乾线，趋乾的坤线称为乾坤线，趋坤的坤线称为双坤线。

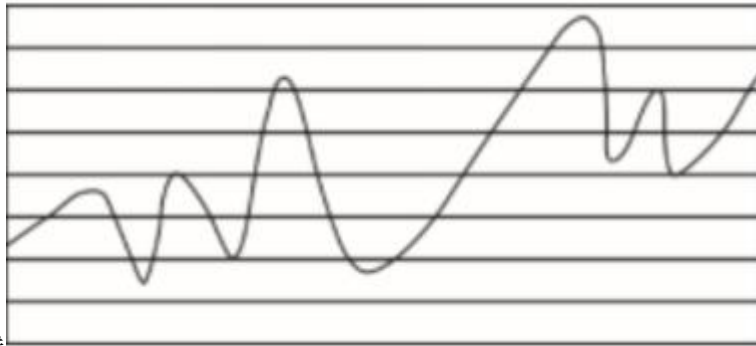
根据上述定义，下列哪项判断是正确的？（ ）



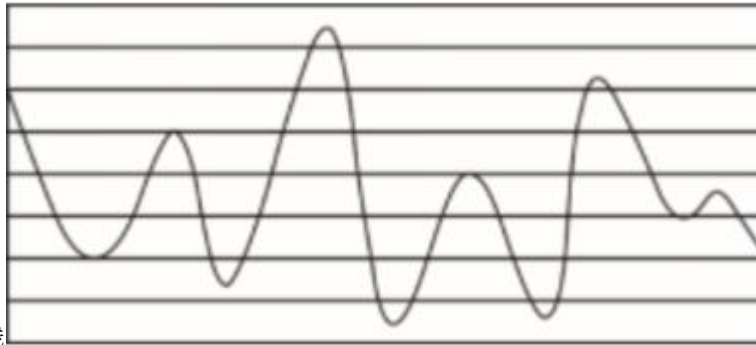
A. 右图是乾坤线



B. 右图是双乾线



C. 右图是坤乾线



D. 右图是双坤线

66. 计算器：搅拌机

- A. 不干胶：树脂板
- B. 杀虫剂：保鲜膜
- C. 无影灯：医用灯
- D. 虎斑蝶：安全帽

67. 交警：特警：警察

- A. 幼师：教授：教师
- B. 读者：记者：编者
- C. 瓷碗：陶碗：碗盏
- D. 竹凳：蓑衣：竹器

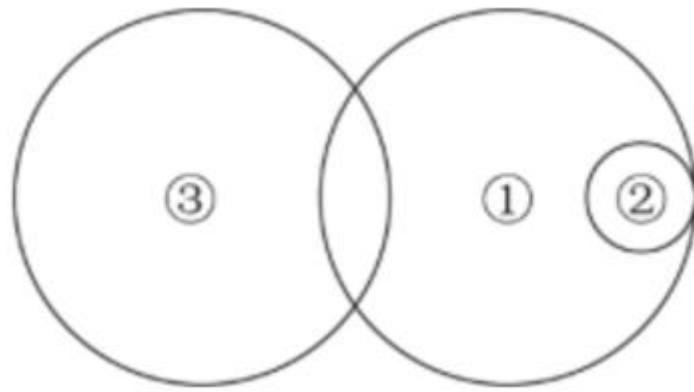
68. 灾害：预警：损失

- A. 鼓舞：官宣：士气
- B. 美化：修订：作品
- C. 经验：总结：教训
- D. 危机：公关：风险

69. 朱门：相思豆：赤字

- A. 热水器：暖气片：设备
- B. 沙漠：天王星：寂寥
- C. 红袖：巾帼：娥眉

- D. 教室：答题卡：蓝天
70. 雷阵雨：大暴雨：流星雨
- A. 观赏花：食用花：交际花
- B. 标志灯：指示灯：红绿灯
- C. 内陆湖：淡水湖：人工湖
- D. 捕鱼船：太空船：海盗船
71. 能被 13 整除的数：能被 17 整除的数：大于 10 小于 100 的整数
- A. 小于 30 的整数：大于 10 的整数：93 的因子
- B. 小于 30 的整数：大于 93 的整数：10 的因子
- C. 小于 93 的整数：大于 10 的整数：30 的因子
- D. 小于 93 的整数：大于 30 的整数：10 的因子
72. 运河之于（ ）相当于词典之于（ ）
- A. 开凿 查询
- B. 粮食 知识
- C. 长城 辞典
- D. 航运 解释
73. 几何学之于（ ）相当于（ ）之于诗词
- A. 代数学 文学
- B. 土地 情感
- C. 空间 山水
- D. 数学 宋词
74. 火山爆发对于（ ）相当于社会变革对于（ ）
- A. 火山灰 生产力
- B. 压力 矛盾
- C. 地幔 民众
- D. 灾害 改良
75. 如果用一个圆来表示词语所指称的对象的集合，那么以下哪项中三个词语之间的关系符合下图？（ ）



- A. ①研究生，②硕士生，③理科生
- B. ①讲师，②博士，③辅导员
- C. ①院长，②女院长，③男教授
- D. ①推免生，②大学生，③优秀生

76. 近日，有研究人员开发了一种生发新技术，这种技术通过温和的低频电脉冲来刺激皮肤，诱使休眠的毛囊重新开始产生头发。使用这种技术的设备靠佩戴者的日常活动供电，因此不需要笨重的电池组成复杂的电子设备，以至于可以放在普通棒球帽的下面。研究人员据此预测，这种新技术将会有效改善脱发。

以下哪项如果为真，最能质疑上述结论？（ ）

- A. 这种新技术对毛囊已被破坏的病理性脱发效果不明显
- B. 目前这种新技术设备处于实验室研发阶段，尚未商用
- C. 这种低频电脉冲有助于减少精神压力，改善睡眠质量
- D. 脱发原因多样，遗传因素、免疫异常等都易造成脱发

77. 红斑狼疮药物研发是国际药学界公认的最具挑战性的研究领域之一。由于发病机制不清和疾病的异质性，临床长期缺乏新型治疗药物。目前，1944年问世的抗疟疾药物羟氯喹是红斑狼疮治疗的常规药物。因此，作为首选的抗疟药类别，升级版的羟氯喹——青蒿素有望成为治疗红斑狼疮的有效药物。

以下除哪项外，均能支持上述结论？（ ）

- A. 有研究表明青蒿素的“近亲”——青蒿琥酯、马来酸蒿乙醚胺等，都对红斑狼疮有治疗效果
- B. 青蒿素对红斑狼疮的治疗效果目前正在进行相关试验，预计将在未来五年内完成这一试验
- C. 目前动物实验已经证明除了系统性红斑狼疮，青蒿素还对类风湿关节炎等其他疾病有一定治疗效果
- D. 针对红斑狼疮的治疗中，羟氯喹可发挥免疫抑制作用，青蒿素具有同样的免疫抑制活性

78. 近日，有研究人员梳理了将近76000名60岁以上女性的维生素摄入习惯，这些女性参与了为期数十年的护理健康研究。研究发现，服用高剂量维生素B6（每日35毫克以上）的人，相比较于服用低剂量或不服用的人，髋关节骨折的风险高出近50%。研究人员据此得出结论，服用高剂量维生素B6易导致老年女性髋关节骨折风险升高。

以下哪项如果为真，最能支持上述论证？（ ）

- A. 服用高剂量维生素 B6 会对神经系统产生毒性，增加老人跌倒的几率
- B. 大多数出现体内维生素不足的人，都是因为日常的饮食摄入不当而导致的
- C. 服用维生素 B6 会降低雌激素水平，使髌关节部位骨质疏松，从而更易骨折
- D. 50~60 岁的女性中，有 10%~30%因吸收较差而需要额外补充维生素 B6

79. 从早几年的“技工荒”，到目前劳动力市场呈现出以体力劳动为主的技工、普工同时紧俏，与此同时，不少高校毕业生仍在为一份工作发愁。这种强烈的对比，将劳动力市场的结构性供需矛盾以一种超出人们惯常认知的方式展现在世人面前。有学者认为，造成这一现象的深层次根源在于，全社会整体的择业意愿与社会需求的背离程度正在不断加深。

以下哪项如果为真，不能支持上述结论？（ ）

- A. 当前技能教育培训发展较慢，使有从事体力工作意愿的劳动者无法享受到相应的技能训练
- B. 高等教育的大众化增加了从事脑力劳动的机会，强化了更多人选择从事脑力劳动的志向
- C. 独生子女的大量存在使家庭愿意集中足够的精力、财力来承担让孩子跻身脑力劳动领域的成本
- D. 虽然随着人工智能的发展，社会对技工和普工的需求总量有所下降，但愿意从事这一工作的劳动者数量减少得更快

80. 天然的钻石一般是在火山爆发的过程中来到地球表面的，一开始它在地球深处的高温高压环境下形成，然后被岩浆带到地球的表面。近日，有研究团队研发出新的人造钻石培育技术，在实验室环境下，一星期就可以“培育”出一颗 1 克拉大小的钻石，人造钻石和天然钻石在成分和结构上并无差别，但其成本只有天然钻石市场价格的 1/6。有人据此预测，全球市场的天然钻石价格将大幅下降。

以下哪项如果为真，最能质疑上述预测？（ ）

- A. 人造钻石凝结的劳动价值远高于天然钻石
- B. 钻石消费者认为人造钻石不是值得购买的“真正的钻石”
- C. 结婚率的大幅度下降，可能导致钻石需求量有所下降
- D. 在工业和科研所需的精密仪器制造中，人造钻石需求量大

81. 共享单车和共享充电宝经历几轮洗牌，早已形成几大巨头鼎力的局面，与之相较，共享雨伞似乎渐渐淡出了公众视野。但是，近期的一项调查报告认为，从供需两端对该行业运营情况、市场规模及发展趋势来看，共享雨伞行业正在逐渐强大，拥有广阔的市场前景。

以下除哪项外，均能支持上述结论？（ ）

- A. 国家鼓励和发展共享经济给予了共享雨伞政策上的支持
- B. 晴热天气下，用户出于遮阳目的也愿意为共享雨伞付费
- C. 共享雨伞的租借方式主要是信用免押，容易被用户接受

D. 共享雨伞行业未来也面临着与共享单车类似的市场竞争

82. 物理学家认为宇宙起始于大爆炸，大爆炸之后应该有相同数量的物质与反物质。但为什么我们周围的自然界中几乎没有反物质呢？反物质去了哪里？很多科学家相信，在宇宙的遥远之处有大范围的反物质星系区存在，那里的宇宙射线主要由反质子和反氦四组成。

以下哪项如果为真，最能支持上述科学家的推断？（ ）

- A. 到目前为止，人类还没有在地球上发现以自然状态存在的反物质
- B. 物质与反物质一旦接触便会相互湮灭抵消，发生爆炸并产生巨大能量
- C. 从1955年起，科学家就陆续制造出反质子、反中子、反氦核甚至反氦四等反物质
- D. 放置在地球大气层之外的阿尔法磁谱仪从宇宙射线中观测到了反氦四粒子

83. 妈妈：“有女朋友吗？”

儿子：“没有。”

妈妈：“真没有？”

儿子：“没，你怎么不相信我呢。”

妈妈：“你经常撒谎，我不能相信你，当你开始说真话时，我就开始相信你。”

以下哪项是妈妈言论中所隐含的前提？（ ）

- A. 妈妈从来不相信儿子会说真话
- B. 妈妈认定儿子知道什么是说谎
- C. 妈妈知道儿子哪句说的是真话
- D. 妈妈相信儿子最终将会说真话

根据以下材料，回答8485题。

某医院安排甲、乙、丙、丁、戊、己6位医生在大年初一、初二、初三值班，每天需要2人值班，每个人只能安排值班一天。具体安排要满足以下条件：

- ①如果甲在初一值班，那么乙和丁都在初二值班；
- ②如果己不在初三值班，那么戊在初二值班；
- ③如果丙在初二值班，那么丁不在初二值班；
- ④丙和戊至少有一人不在初二值班。

84. 如果丙在初二值班，则可以推出（ ）。

- A. 己在初三值班
- B. 乙在初一值班
- C. 戊在初三值班
- D. 乙在初三值班

85. 如果甲和丁在同一天值班,且乙在初二值班,则可以推出()。

- A. 戊在初三值班
- B. 丁在初二值班
- C. 己在初二值班
- D. 丙在初一值班

第五部分 资料分析

根据所给资料,回答86-90题。

2019年上半年,S地区航空运输旅客吞吐量累计完成1773.9万人次,同比增长11.5%;货邮吞吐量累计完成9万吨,同比增长14.6%;飞行起降20.6万架次,同比增长14.8%。其中1季度旅客吞吐量累计完成841.9万人,同比增长10.2%;货邮吞吐量累计完成4.0万吨,同比增长9.1%;飞行起降8.3万架次,同比增长10.6%。

2019年上半年,S地区累计完成通用航空飞行19999小时,同比增长10.6%;累计起飞43633架次,同比增长9.1%。其中1季度累计完成通用航空飞行4564.3小时,同比增长13.5%;累计起飞9675架次,同比增长15.1%。

2019年6月,S地区航空运输旅客吞吐量完成321.3万人次,同比增长16.1%,环比增长1.75%;货邮吞吐量完成19210.7吨,同比增长23.8%,环比增长17%;飞行起降41804架次,同比增长13.2%,环比增长0.5%。

2019年6月,S地区完成通用航空飞行5591.5小时,同比增长0.8%,环比增长16.3%;起飞11438架次,同比下降6.2%,环比增长7.1%。

86. 2019年1~4月,S地区月均航空运输旅客吞吐量在以下哪个范围内?()

- A. 少于280万人次/月
- B. 280~290万人次/月之间
- C. 290~300万人次/月之间
- D. 多于300万人次/月

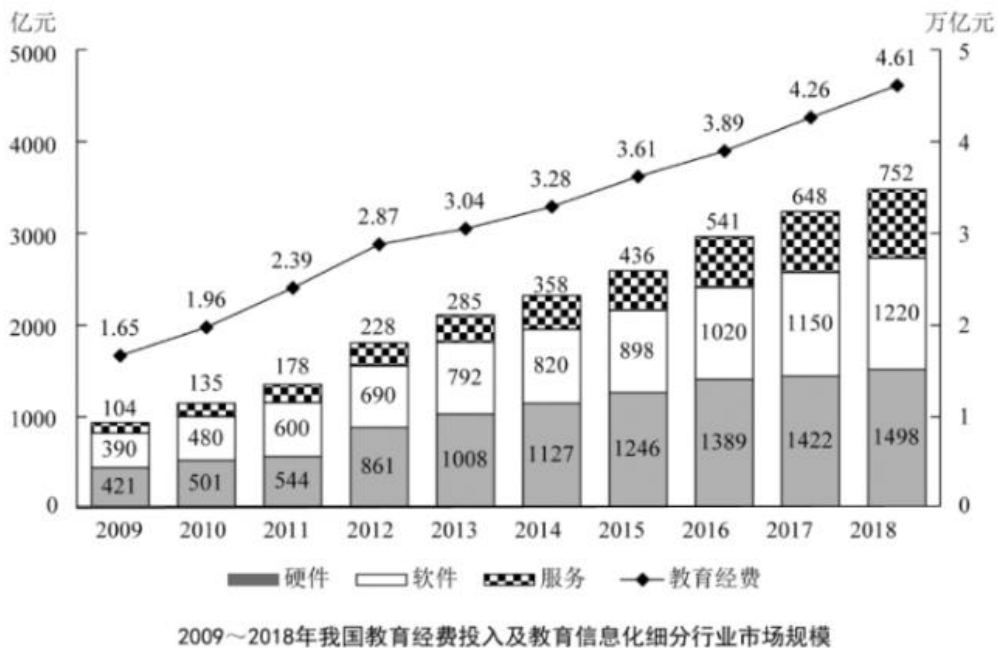
87. 如果S地区所有飞行起降的飞机均运输旅客,则2019年上半年平均每架次飞行起降的飞机运送乘客的数量比上年同期()。

- A. 增长10%以内
- B. 增长10%以上
- C. 减少10%以内
- D. 减少10%以上

88. 2019年6月,S地区货邮吞吐量约占2季度货邮吞吐量的()。

- A. 30%
- B. 34%

- C. 38%
 - D. 42%
89. 2019年2季度，S地区累计起飞架次数同比增速在以下哪个范围内？（ ）
- A. 低于3%
 - B. 在3%~9%之间
 - C. 在9%~15%之间
 - D. 高于15%
90. 关于S地区航空运输业运行状况，能够从上述资料中推出的是（ ）。
- A. 2019年2季度航空运输旅客吞吐量同比增速高于1季度
 - B. 2019年6月航空飞行起降架次同比增加超过6000架次
 - C. 2019年6月航空运输旅客吞吐量低于1~5月平均水平
 - D. 2019年2季度累计完成通用航空飞行时长是1季度的4倍以上
- 根据所给资料，回答91-95题。



91. 2014~2018年间，我国教育经费年均投入比上一个5年的平均值约高多少万亿元？（ ）
- A. 1.35
 - B. 1.55
 - C. 1.75
 - D. 1.95

92. 2010-2018 年, 我国教育信息化软件市场规模同比增速快于 20% 的年份有几个? ()

- A. 2
- B. 3
- C. 4
- D. 5

93. 2010-2018 年间教育经费同比增量最高的年份, 当年教育信息化三个细分行业市场中规模同比增速快于教育经费同比增速的有几类 ()。

- A. 0
- B. 1
- C. 2
- D. 3

94. 如各细分行业市场规模同比增量保持 2018 年水平不变, 教育信息化总体市场规模将在哪一年首次超过 5000 亿元 ()。

- A. 2024
- B. 2025
- C. 2026
- D. 2027

95. 能够从上述资料中推出的是 ()。

- A. 每年硬件市场规模均大于软件市场规模
- B. 2018 年教育经费投入额同比增长了 10% 以上
- C. 2014 年软件市场规模同比增速快于硬件市场同比增速
- D. 2016 年服务市场规模较 2010 年翻了两番

2019 年 1~10 月全国快递业务情况

时间	快递业务量	同比增速	快递业务收入	同比增速
	(亿件)	(%)	(亿元)	(%)
1月	45.2	13.5	597	19.9
2月	27.6	38.7	350	21.0
3月	48.6	23.4	596	23.0
4月	49.2	31.1	592	26.8
5月	52.3	25.2	618	24.2
6月	54.6	29.1	643	26.5
7月	52.5	28.6	608	26.3
8月	53.0	29.3	617	26.2
9月	56.0	25.0	649	22.2
10月	57.6	22.7	658	23.2

2019年1~10月，全国快递服务企业业务量累计完成496.6亿件，同比增26%；业务收入累计完成5929亿元，同比增长24%。

2019年1~10月，同城、异地、国际/港澳台快递业务量分别占全部快递业务量的17.7%、80%和2.3%，比1~9月增加-0.1%、0.1%和0%；业务收入分别占全部快递收入的10.2%、52.9%和9.9%，比1~9月增加-0.1%、-0.1%和0%。与去年同期相比，同城快递业务量的比重下降5个百分点，异地快递业务量的比重上升5个百分点，国际/港澳台业务量的比重基本持平。

2019年1~10月，东、中、西部地区快递业务量比重分别为79.8%、12.7%和7.5%，比1~9月增加-0.1%、0.1%和0%；业务收入比重分别为80.3%、11.2%和8.5%，比1~9月增加-0.1%、0.1%和0%。与去年同期相比，东部地区快递业务量比重下降0.1个百分点，快递业务收入比重上升0.3个百分点；中部地区快递业务比重上升0.5个百分点，快递业务收入比重基本持平；西部地区快递业务量比重下降0.4个百分点，快递业务收入比重下降0.3个百分点。

96. 2018年1~10月份，同城快递业务量累计完成（ ）。

- A. 不到60亿件
- B. 60~80亿件之间

- C. 80~100 亿件之间
- D. 100 亿件以上


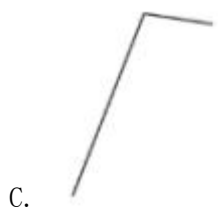
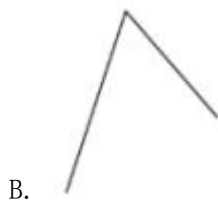
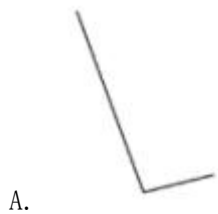
97. 2019 年 1~10 月份，中部地区快递业务量同比增速可能为（ ）。

- A. 16%
- B. 21%
- C. 26%
- D. 31%

98. 将东、中、西部地区按照 2019 年 1~10 月平均每件快递创造的快递业务收入同比增速从快到慢排列，以下正确的是（ ）。

- A. 东部>中部>西部
- B. 中部>西部>东部
- C. 中部>东部>西部
- D. 西部>东部>中部

99. 以下折线图中，最能准确反映 2019 年第二季度各月快递业务收入环比增速的是（ ）。



100. 能够从上述资料中推出的是（ ）。

- A. 2019 年前三季度，所有月份的平均单件快递业务收入都高于 10 元
- B. 2019 年 1~10 月，全国快递业务量和快递业务收入同比增速均超过 25%的月份有 5 个
- C. 2019 年 1~10 月，全国异地快递月均业务收入低于 300 亿元
- D. 2019 年二季度，全国快递业务收入比上季度增长了 30%以上

参考答案

1、正确答案是：C

解析

本题考查政治。

2019 年 10 月 31 日，中国共产党第十九届中央委员会第四次全体会议通过了《中共中央关于坚持和完善中国特色社会主义制度推进国家治理体系和治理能力现代化若干重大问题的决定》。

A 项错误，《决定》指出：“坚持和完善社会主义基本经济制度，推动经济高质量发展。”“经济持续高速发展”错误，应为“经济高质量发展”。

B 项错误，《决定》提出：“必须坚持一切行政机关为人民服务、对人民负责、受人民监督，创新行政方式，提高行政效能，建设人民满意的服务型政府。”“管理型政府”错误，应为“服务型政府”。

C 项正确，《决定》提出：“必须健全幼有所育、学有所教、劳有所得、病有所医、老有所养、住有所居、弱有所扶等方面国家基本公共服务制度体系，尽力而为，量力而行，注重加强普惠性、基础性、兜底性民生建设，保障群众基本生活。”

D 项错误，《决定》指出：“建立健全把社会效益放在首位、社会效益和经济效益相统一的文化创作生产体制机制。”“把经济效益放在首位”错误，应为“把社会效益放在首位”。

故正确答案为 C。

2、正确答案是：D

解析

本题考查政治。

2020 年 3 月 6 日，习近平总书记在北京出席决战决胜脱贫攻坚座谈会并发表重要讲话。

A 项正确，习近平总书记在会上指出：“今年脱贫攻坚任务完成后，我国将有 1 亿左右贫困人口实现脱贫，提前 10 年实现联合国 2030 年可持续发展议程的减贫目标，世界上没有哪一个国家能在这么短的时间内帮助这么多人脱贫，这对中国和世界都具有重大意义。”

B 项正确，习近平总书记在会上指出：“贫困人口从 2012 年年底的 9899 万人减到 2019 年年底的 551 万人，贫困发生率由 10.2%降至 0.6%，连续 7 年每年减贫 1000 万人以上。”

C项正确，习近平总书记在会上指出：“具备条件的建制村全部通硬化路，村村都有卫生室和村医，10.8万所义务教育薄弱学校的办学条件得到改善，农网供电可靠率达到99%，深度贫困地区贫困村通宽带比例达到98%，960多万贫困人口通过易地扶贫搬迁摆脱了‘一方水土养活不了一方人’的困境。”

D项错误，习近平总书记在会上指出：“建档立卡贫困人口中，90%以上得到了产业扶贫和就业扶贫支持，三分之二以上主要靠外出务工和产业脱贫，工资性收入和生产经营性收入占比上升，转移性收入占比逐年下降，自主脱贫能力稳步提高。”选项中“转移性收入占比上升，工资性收入占比逐年下降”错误，应为“工资性收入和生产经营性收入占比上升，转移性收入占比逐年下降”。

本题为选非题，故正确答案为D。

3、正确答案是：B

解析

本题考查法律常识。

A项错误，《中华人民共和国民法典》在中国特色法律体系中具有重要地位，是一部固根本、稳预期、利长远的基础性法律。民法典只是我国法律体系中的民（商）法法律部门。因此，该项的民法典具有“统领性地位”表述错误，宪法在我国法律体系中具有统领性地位。

B项正确，《中华人民共和国民法典》共7编1260条、10万多字，是我国法律体系中条文最多、体量最大、编章结构最复杂的一部法律。

C项错误，《中华人民共和国民法典》被称为“社会生活的百科全书”，是新中国而不是五四运动以来第一部以“法典”命名的法律，在法律体系中居于基础性地位，也是市场经济的基本法。

D项错误，该选项中的“一劳永逸”“解决·····所有问题”表述太过绝对，表述错误。

故正确答案为B。

4、正确答案是：D

解析

本题考查政治常识。

2020年5月28日，第十三届全国人民代表大会第三次会议通过《全国人民代表大会关于建立健全香港特别行政区维护国家安全的法律制度和执行机制的决定》（以下简称《决定》）。

A项正确，根据《决定》第三条规定：“维护国家主权、统一和领土完整是香港特别行政区的宪制责任。香港特别行政区应当尽早完成香港特别行政区基本法规定的维护国家安全立法。香港特别行政区行政机关、立法机关、司法机关应当依据有关法律规定有效防范、制止和惩治危害国家安全的行为和活动。”

B项正确，根据《决定》第一条规定：“国家坚定不移并全面准确贯彻‘一国两制’、‘港人治港’、高度自治的方针，坚持依法治港，维护宪法和香港特别行政区基本法确定的香港特别行政区宪制秩序，采取必要措施建立健全香港特别行政区维护国家安全的法律制度和执行机制，依法防范、制止和惩治危害国家安全的行

为和活动。”

C项正确，根据《决定》第四条规定：“香港特别行政区应当建立健全维护国家安全的机构和执行机制，强化维护国家安全执法力量，加强维护国家安全执法工作。中央人民政府维护国家安全的有关机关根据需要在香港特别行政区设立机构，依法履行维护国家安全相关职责。”

D项错误，根据《决定》第五条规定：“香港特别行政区行政长官应当就香港特别行政区履行维护国家安全职责、开展国家安全教育、依法禁止危害国家安全的行为和活动等情况，定期向中央人民政府提交报告。”

本题为选非题，故正确答案为D。

5、正确答案是：B

解析

本题考查政治常识。

2020年6月1日，中共中央、国务院印发了《海南自由贸易港建设总体方案》。

A项错误，《海南自由贸易港建设总体方案》第二部分“制度设计”（一）贸易自由便利中指出：“对货物贸易，实行以“零关税”为基本特征的自由化便利化制度安排。”

B项正确，《海南自由贸易港建设总体方案》第二部分“制度设计”（二）投资自由便利。8、完善产权保护制度中指出：“加强区块链技术在知识产权交易、存证等方面应用，探索适合自由贸易港发展的新模式。”

C项错误，《海南自由贸易港建设总体方案》第二部分“制度设计”（八）税收制度。25、强法治中指出：“税收管理部门按实质经济活动所在地和价值创造地原则对纳税行为进行评估和预警，制定简明易行的实质经营地、所在地居住判定标准，强化对偷漏税风险的识别，防范税基侵蚀和利润转移，避免成为‘避税天堂’。”

D项错误，《海南自由贸易港建设总体方案》第二部分“制度设计”（十）法治制度中指出：“建立以海南自由贸易港法为基础，以地方性法规和商事纠纷解决机制为重要组成的自由贸易港法治体系，营造国际一流的自由贸易港法治环境。”

故正确答案为B。

6、正确答案是：A

解析

本题考查人文常识。

①《人权宣言》是1789年8月26日在法国大革命时期颁布的纲领性文件。宣告了人权、法治、自由、分权、平等和保护私有财产等基本原则。

②《共产党宣言》是马克思和恩格斯为共产主义者同盟起草的第一部无产阶级政党的正式纲领，写于1847年12月至1848年1月，1848年2月第1次以单行本在伦敦出版。

③《独立宣言》是18世纪美国13个英属殖民地宣布脱离英国殖民统治的文件，也是美国人民关于其民主政府的权利的第一份正式声明。1776年7月2日在美国费城召开的大陆会议上通过，7月4日起实施。

④《解放黑人奴隶宣言》是1862年9月22日由美国总统亚伯拉罕·林肯公布的宣言，其主张所有美利坚联邦叛乱下的领土之黑奴应享有自由。

四个宣言按时间先后顺序排列正确的是③①②④。

故正确答案为A。

7、正确答案是：D

解析

本题考查人文常识。

A项正确，1948年5月25日，董存瑞在解放河北隆化的战斗中，当主攻部队受到桥头敌暗堡火力威胁的紧要关头，担任爆破组长的董存瑞冲到桥下，毅然用手托起炸药包，拉燃导火索，炸毁暗堡，壮烈牺牲。该项对应正确。

B项正确，1952年10月20日，黄继光在上甘岭战役中，在多处负伤、弹药用尽的情况下，用自己的胸膛堵住敌人正在喷射火舌的枪眼，壮烈捐躯，年仅21岁。该项对应正确。

C项正确，赵尚志是东北抗日联军创建人和领导人之一，东北地区最早的共产党员之一。抗日战争时期，赵尚志率领抗联部队对日伪军进行了英勇无比的艰苦战斗，远征松嫩平原，爬冰卧雪，风餐露宿，作战百余次，打破了日伪军一次次的重兵“讨伐”和“清剿”。该项对应正确。

D项错误，李四光，地质学家、教育家、音乐家、社会活动家，中国地质力学的创立者、中国现代地球科学和地质工作的主要领导人 and 奠基人之一。其英雄事迹与荒漠风餐露宿算盘打出核威慑无关。

本题为选非题，故正确答案为D。

8、正确答案是：C

解析

本题考查人文常识。

A项正确，公元前356年至350年，商鞅在秦国二次实行变法，《史记·商君列传》记载：“民有二男以上不分异者，倍其赋。”（即对家有成年男子二人以上，而又不分家立户的，要加倍征收赋税），“令民父子兄弟同室内息者为禁。”（即明令成年男子必须与父母分居）这是商鞅耕战政策的一部分，其目的是挖掘人力资源，增加农业劳动力和纳税服役的人口，该政策的实施有利促进了自耕农经济的发展。

B项正确，拓跋宏即北魏孝文帝，他是中国历史上杰出的少数民族政治家、改革家。太和十四年，孝文帝正式亲政后，先整顿吏治，立三长制，实行均田制；太和十八年，以“南伐”为名，迁都洛阳，全面改革鲜卑旧俗。孝文帝推行汉化最重要的措施就是迁都洛阳。为保证迁都顺利进行，孝文帝进行了周密的部署和安排：太和十七年五月，他召集百官，宣称要大举伐南朝齐，计划在南伐途中造成迁都的既成事实。故北魏孝文帝以南伐为名来达到迁都洛阳的目的。

C项错误，青苗法，亦称“常平新法”，是中国宋朝王安石变法的措施之一。主要是：改变旧有常平制度

的“遇贵量减市价崇，遇贱量增市价余”的呆板做法，灵活地将常平仓、广惠仓的储粮折算为本钱，以百分之二十的利率贷给农民、城市手工业者，以缓和民间高利贷盘剥的现象，同时增加政府的财政收入，达到“民不加赋而国用足”，改善北宋“积贫”的现象。青苗法的出台旨在增加政府收入的同时，抑制民间高利贷、保护和赈济民户，但是由于其本身以及运行有着许多缺陷，未能达到预期目的。

D项正确，“一条鞭法”是明代嘉靖时期确立的赋税及徭役制度，由桂萼在嘉靖十年提出，之后张居正为整顿赋役制度于万历九年将其推广到全国。新法规定：把各州县的田赋、徭役以及其他杂征总为一条，合并征收银两，按亩折算缴纳。它简化了税制，方便征收税款，同时使地方官员难于作弊，进而增加财政收入。一条鞭法在中国赋役制度史上是一件划时代的大事，它改变了历代“赋”与“役”平行的征收形式，统一了役法，简化了赋役制度，标志着赋税由实物为主向货币为主、征收种类由繁杂向简单的转变。

本题为选非题，故正确答案为C。

9、正确答案是：A

解析

本题考查地理国情。

中亚由于处于欧亚大陆腹地，尤其是东南缘高山阻隔印度洋、太平洋的暖湿气流，该地区气候为典型的温带沙漠、草原的大陆性气候，其突出特征是：第一，雨水稀少，极其干燥；第二，晴天多，太阳辐射强，温度高，蒸发旺盛；第三，温度变化剧烈。中亚地区的地形以平原、丘陵为主；地势东南高，中部及西北低。

分析选项，由于中亚多地处温带，①处应填入“温”，排除C、D两项；观察A、B两项，优先判断③处，由于中亚地区的地形以平原、丘陵为主，山地、高原表述错误，排除B项，A项当选。

代入验证，棉花和小麦是灌溉农业的代表性农作物，棉花也是纺织业的重要原料，表述正确。

故正确答案为A。

10、正确答案是：B

解析

本题考查人文常识。

A项正确，哥窑在我国陶瓷史上有举足轻重的地位，哥窑胎色有黑、深灰、浅灰及土黄多种，其釉均为失透的乳浊釉，釉色以炒米黄、灰青多见，釉面大小纹片结合。

B项错误，越窑所在地主要在今浙江省上虞、余姚、慈溪、宁波等地，是中国古代南方著名的青瓷窑，而非通体乳白色。

C项正确，龙泉窑因其主要产区在浙江省龙泉市而得名。龙泉窑以烧制青瓷而闻名，釉色淡青，釉层稍簿。龙泉窑釉色苍翠，北宋时多粉青色，南宋时呈葱青色。

D项正确，钧窑，即钧台窑，古人曾用“夕阳紫翠忽成岚”等诗句来形容钧瓷釉色灵活、变化微妙之美。传统钧瓷瑰丽多姿，包括玫瑰紫、海棠红、茄皮紫、鸡血红、葡萄紫、朱砂红、葱翠青等颜色，釉中红里透紫、

紫里藏青、青中寓白、白里泛青，纷彩争艳。

本题为选非题，故正确答案为B。

11、正确答案是：C

解析

本题考查法律常识。

A项错误，《公安机关办理刑事案件程序规定》第一百七十五条第二款规定：“对有控告人的案件，决定不予立案的，公安机关应当制作不予立案通知书，并在三日以内送达控告人。”该案中公安机关应当向张某出具《不予立案通知书》。

B项错误，人民法院针对王某的合同纠纷如不受理，应当出具书面的不予受理的裁定书，并应告知不予受理的理由等。

C项正确，《行政诉讼法》第十三条规定：“人民法院不受理公民、法人或者其他组织对下列事项提起的诉讼：（一）国防、外交等国家行为；·····”《最高人民法院关于适用〈中华人民共和国行政诉讼法〉的解释》第二条规定：“行政诉讼法第十三条第一项规定的‘国家行为’，是指国务院、中央军事委员会、国防部、外交部等根据宪法和法律的授权，以国家的名义实施的有关国防和外交事务的行为，以及经宪法和法律授权的国家机关宣布紧急状态等行为。”国务院宣布紧急状态的决定，不属于人民法院受案范围，杨某不服起诉的，人民法院应不予受理。

D项错误，《民事诉讼法》第二十三条规定：“因合同纠纷提起的诉讼，由被告住所地或者合同履行地人民法院管辖。”《最高人民法院关于适用〈中华人民共和国民事诉讼法〉的解释》第三条规定，公民的住所地是指公民的户籍所在地。该项中，人民法院不能以欠款人不常居住在住所地为由不接收诉状。

故正确答案为C。

12、正确答案是：A

解析

本题考查法律常识。

A项正确，该项中该食品公司在其销售的袋装核桃上印有的广告语不违反《广告法》的禁止性规定，属于合法有效的广告语。

B项错误，《广告法》第二十五条第一款规定：“招商等有投资回报预期的商品或者服务广告，应当对可能存在的风险以及风险责任承担有合理提示或者警示，并不得含有下列内容：（一）对未来效果、收益或者与其相关的情况作出保证性承诺，明示或者暗示保本、无风险或者保收益等，国家另有规定的除外；·····”该公司发售有投资回报与其他的金融商品时做出“100%本息担保”作出了保证性承诺（或无风险承诺），违反了《广告法》。

C项错误，《广告法》第二十四条规定：“教育、培训广告不得含有下列内容：（一）对升学、通过考试、

获得学位学历或者合格证书，或者对教育、培训的效果作出明示或者暗示的保证性承诺；·····”该项中的培训机构对通过考试、培训效果做出“一次成‘公’”“300%的提升”的承诺，违反了《广告法》。

D项错误，《广告法》第四十三条第一款规定：“任何单位或者个人未经当事人同意或者请求，不得向其住宅、交通工具等发送广告，也不得以电子信息方式向其发送广告。”该超市未经住户同意，向住户发放销售海报，违反了《广告法》。

故正确答案为A。

13、正确答案是：B

解析

本题考查法律常识。《民法典》第一千零三十二条规定：“自然人享有隐私权。任何组织或者个人不得以刺探、侵扰、泄露、公开等方式侵害他人的隐私权。隐私是自然人的私人生活安宁和不愿为他人知晓的私密空间、私密活动、私密信息。”第一千零三十三条规定：“除法律另有规定或者权利人明确同意外，任何组织或者个人不得实施下列行为：（一）以电话、短信、即时通讯工具、电子邮件、传单等方式侵扰他人的私人生活安宁；（二）进入、拍摄、窥视他人的住宅、宾馆房间等私密空间；（三）拍摄、窥视、窃听、公开他人的私密活动；（四）拍摄、窥视他人身体的私密部位；（五）处理他人的私密信息；（六）以其他方式侵害他人的隐私权。”

A项正确，证明两人关系良好的微信聊天记录，隐私信息，钱某未经李某同意予以公开侵犯了李某的隐私权。

B项错误，“他人神态语气”不属于他人的私密和私生活，孙某模仿刘某神态语气并录制视频发网上，不属于侵犯隐私权。

C项正确，银行的流水记录属于私密信息，未经本人同意或有权机关调查，银行不得向他人提供。该银行违法向他人提供王某银行流水，侵犯了其隐私权。

D项正确，张某在上班期间观看电影确实违反了工作纪律，但是其观影记录是与公共利益无关的私密活动，网络视频播放平台未经本人同意擅自提供的行为，构成了对张某隐私权的侵犯。

本题为选非题，故正确答案为B。

14、正确答案是：C

解析

本题考查科技常识。

A项正确，过夜的白开水可以饮用，隔夜水含有的亚硝酸盐含量非常低，远远低于常吃的剩菜、剩饭或者咸菜的量，对人体不会造成损害。

B项正确，用醋除水垢是生活中简单实用的方法，水垢的主要成分是碳酸钙等碳酸盐，加入食用醋，醋里面的醋酸会与其发生反应，产生溶于水的物质和二氧化碳气体。

C项错误，碘易溶于有机溶剂，不溶于水，用水擦洗无法祛除碘酒污渍，可用酒精涂在碘酒污渍处，能溶解碘酒污渍。

D项正确，蒸馏是分离、纯化液态混合物的一种常用的方法，可以除去自来水中的可溶性杂质。

本题为选非题，故正确答案为C。

15、正确答案是：C

解析

本题考查科技常识。

溶液是由至少两种物质组成的均一、稳定的混合物，被分散的物质（溶质）以分子或更小的质点分散于另一物质（溶剂）中。

1 错误，花生油不溶于水，不能和水形成均一、稳定的混合物，即不能够形成溶液。

2 正确，蔗糖可以溶于水，而形成均一、稳定的混合物。

3 正确，纯碱易溶于水，能形成均一、稳定的混合物，属于溶液。

4 错误，冰与水是同种物质，都是水分子构成的，而溶液是一种或几种物质分散到另一种物质里，不是同种物质，所以冰放入水中不是溶液。

5 错误，奶不溶于水，不能和水形成均一、稳定的混合物，即不能和水形成溶液，奶和水形成的混合物属于乳浊液。

6 正确，白酒易溶于水，能形成均一、稳定的混合物，属于溶液。

能与水混合形成溶液的是 236。

故正确答案为C。

16、正确答案是：C

解析

本题考查科技常识。

A项正确，氖，化学符号Ne，是一种无色的稀有气体，化学性质极不活泼，在通电时会发出有色的光，经常充入灯泡内用于制作霓虹灯。

B项正确，氮，化学符号N，氮是空气中最多的元素，在自然界中存在十分广泛。空气中的氮气分离出来可以制成液氮，液氮是医学上常用的冷冻剂，因为其汽化时大量吸热降低温度，达到冷冻目的。因此氮被用于超低温技术。

C项错误，石墨是碳的一种同素异形体，灰黑色，可用作抗磨剂、润滑剂、铅笔的笔芯等。但石墨的硬度小，不适合用来切割大理石。金刚石是一种由碳元素组成的矿物，是自然界中天然存在的最坚硬的物质，可以用来切割大理石。

D项正确，一氧化碳，化学式CO，通常状况下是无色、无臭、无味的气体。一氧化碳具有还原性，能把金

属从它的化合物中还原出来，可用来冶炼金属。

本题为选非题，故正确答案为C。

17、正确答案是：C

解析

本题考查科技常识。

A项错误，油的沸点比水高，而辣汤的表面有一层辣油，在加热的过程中，因为辣锅一般表面的油层会比清汤锅厚很多，而表面油层封锁住了下面水热量的散发，散热慢了升温就快，所以开得快。

B项错误，家用水壶烧开了以后，会自己断电其实是因为它加热的原理就是利用了铜片的热胀冷缩。当温度达到以后，由于铜片膨胀弯曲，就会断开通电。所以说用电水壶烧水，只要温度达到了就会自动断电，不用担心会把水烧干造成危险，这也是出于安全考虑进行的设计。

C项正确，水汽在高空遇到冷空气便凝结成小水滴，而虹是由于日光照射在含有大量雨滴的空气（或云）中，由于雨滴对阳光折射而形成的。当太阳视角角度很低时，而照射角度却比较高，所以虹也比较高，有时可以出现在天顶附近，这样就成了虹高日头低的现象。出现这种现象说明在高层空气中雨滴较大，含量较多，很可能出现阴雨天气，预示未来可能下雨，因此要“早晚披蓑衣”。

D项错误，因为铁轨与火车车轮的接触面积小，但是火车非常重，因此铁轨所承受的压力相当地大（压力=重量÷接触面积），路基容易损坏，因此，铁轨铺在枕木上，增大了路基的受力面积，减小了压强，从而达到保护路基的目的。

故正确答案为C。

18、正确答案是：A

解析

本题考查科技常识。

A项正确，皮肤出现伤口后，要进行严格消毒。皮肤出现伤口，完整性遭到破坏，细菌便有了可乘之机，为减少细菌的入侵，对伤口要进行认真的消毒。在日常的学习、工作和生活中，由于不慎常常会发生皮肤的损伤，如：擦伤、切伤等，特别是一些浅而小的伤口往往不被人们注意，无论伤口大小、深浅，都要进行及时正确的处理，若处理不当，会引起伤口出血、感染、化脓，严重会得破伤风而危及生命。

B项错误，创可贴只适用于创伤较为表浅、伤口齐整、干净、出血不多又不需要缝合的小伤口。被动物抓伤和咬伤的伤口不能使用创可贴，这是因为防止病菌在伤口内蓄积或扩散。

C项错误，治疗伤口是一个紧迫的实际问题，遵循“辨证施治”的原则，既不能脱离伤口的实际情况，也不能脱离医疗的环境条件，片面追求“干燥”或“潮湿”。对于创面整齐的刀伤，在医院条件较好情况下，可以提倡“湿”法治疗，效果较好；对于创面有渗出液体、面积较大或不规则的伤口，应该采用“干”法控制感染；在工地、野外、战场、雨季等环境出现的伤口，首先必须保证干燥防止潮湿等。在干燥环境下，伤口暴露、

有氧，细菌不容易存活，但伤口失掉水分，肉芽生长慢，伤口容易结痂，以后生成伤疤甚至“疤痕疙瘩”；在潮湿条件下（包括伤口湿敷盖），伤口表面湿度接近人体，新的肉芽细胞容易生长，伤口比较容易恢复，但前提是不能感染、又要保持适度透气，因此我们应当具体问题具体分析。

D项错误，皮肤上伤口愈合后的色素沉淀会随着时间推移而淡化，正常的情况下是2到3个月就会自动消除，如果是有感染的情况或伤口比较深，大概得需要一年以上时间，这是很正常的现象，可以附带外敷一些药物辅助。

故正确答案为A。

19、正确答案是：D

解析

本题考查人文常识。

A项正确，“四面湖山归眼底，万家忧乐到心头”为湖南岳阳楼的对联，意为站在岳阳楼上，四周洞庭湖的山水景色尽收眼底，天下百姓苦乐涌上心头。其化用范仲淹《岳阳楼记》中“先天下之忧而忧，后天下之乐而乐”一句，歌颂范仲淹以天下百姓的忧乐为己任的精神。

B项正确，“宰相状元余事之，文章义节两兼之”对应的人物为文天祥。上半句是指文天祥曾中过状元，担任过宰相的职务，下半句则歌颂的是文天祥的文章和气节。

C项正确，“写鬼写妖高人一等，刺贪刺虐入木三分”是郭沫若为蒲松龄纪念馆聊斋堂写的对联。“写鬼写妖”指《聊斋志异》的题材内容，其借狐鬼故事来达到“刺贪刺虐”的目的；“高人一等”是评价蒲松龄在文学史上的贡献；“入木三分”则概括了他在创作上的成就。

D项错误，“枫叶四弦秋，根触天涯迁谪恨，浔阳千尺水，勾留江山别离情”这幅对联是九江白居易祠中的对联。上联是《琵琶行》诗意的浓缩，下联写白居易离开九江时，当地人民对其的深厚感情。

本题为选非题，故正确答案为D。

20、正确答案是：A

解析

本题考查科技常识。

A项正确，抗生素能够通过食物链进入人体内部。例如，水环境中的抗生素可能通过灌溉、景观用水，甚至是捕捞河里的鱼等这些间接途径，进入到人体中。从而对人体肠道的微生物产生影响。

B项错误，抗生素一般治疗的是细菌感染的疾病，抗生素能杀死治病的细菌，不能杀死病毒。

C项错误，广谱抗生素指的是抗菌谱比较宽的药物，简单说就是能够抵抗大部分细菌的药物，耐药性的产生是由于抗生素的滥用导致的，与抗生素的种类无关。

D项错误，长期服用抗生素不仅会使致病菌变异产生耐药性，而且对于身体内的正常菌群还会有一定的抑制和杀伤作用，最后可能导致菌群失调，不仅不会提高免疫力，甚至还会降低免疫力，人和动物均如此。

故正确答案为 A。

21、正确答案是：A

解析

横线后对空缺处进行解释，根据举例内容“阅读对作文有好处，但也不是孩子读了一本书，立刻就会写作文了”可知，读书的效果不是立马显现的，对应 A 项“立竿见影”，比喻收效迅速，符合文意，当选。

B 项，“千篇一律”比喻完全按老一套，没有任何变化。侧重不变，无立刻、迅速见效之意，排除；

C 项，“唾手可得”比喻非常容易得到，强调容易得到，排除；

D 项，“游刃有余”比喻经验丰富，技术熟练，解决问题毫不费力。侧重由于熟练而轻松，无快速之意，排除。

故正确答案为 A。

22、正确答案是：D

解析

本题可从第二空入手，根据文意可知，作者对于“标签化思维”是不认同的，对于年轻人要走的路，旁人的态度不应过度干涉，且应与“引导”、“规劝”形成并列且有递进之意，故所填词语应程度较轻。A 项，“点拨”指指点；启发。符合语境，保留；D 项，“提醒”有从旁指点，引起注意之意，可以与文段形成并列，且语义较轻，保留。B 项，“批评”指对缺点和错误提出意见。程度较重，与作者不过多干涉的态度不符，排除；C 项，“教育”相比于“引导”、“规劝”，程度较重，排除。

第一空，根据“形成身份的固化”可知，一旦形成标签，就容易按照标签对人予以分类，对应 D 项，“划分”把整体分成几部分，符合文意，当选。A 项，“监督”无分类之意，与“标签化思维”无关，排除。

故正确答案为 D。

【文段出处】《“逃避式考研”？帽子须慎扣》

23、正确答案是：A

解析

第一空，根据横线后程度词“甚至”，说明横线处词语含义与“缺位”相近，但是程度略轻于“缺位”。结合文段可知，现在漆艺术在人们的生活中的地位不那么重要了。A 项“式微”指事物由兴盛而衰落，符合语境，保留。B 项“衰落”符合语境，保留。C 项“凋敝”指衰败、残缺破烂，程度比“缺位”重，不符合语境，排除。D 项“虚化”指抽取了实际内容，与漆艺术的重要程度无关，排除。

第二空，根据横线后“‘漆’好像就是指‘聚酯漆’”，说明把“漆”当作了“聚酯漆”，即把“漆”和“聚酯漆”的概念混淆了，A 项当选。B 项“交叉”一般指二者交替存在或相互影响，不符合文意，排除。

故正确答案为 A。

【文段出处】《脱胎换骨：漆艺术的当代传承》

24、正确答案是：D

解析

第一空，根据横线后的句子“它们愿意模仿关系很好的猫的动作”，说明第一空词语含义与“关系很好”相近。A项“亲密”、D项“友好”可以表现出“关系很好”，符合语境，保留。B项“崇拜”指崇敬钦佩和C项“羡慕”想拥有别人的优点、长处、有利条件等，均与“关系很好”无关，排除。

第二空，根据前文“它们也会允许自己的领地有它们的气味，还会分享自己行动的路线”，以及后文“放心的将后背交给同伴”，均能够说明与之关系很好的猫得到了对方的许可，D项“认可”符合文意，当选。A项“欣赏”指享受美好的事物，领略其中的情趣，或表示称赞，与文意不符，排除。

故正确答案为D。

25、正确答案是：C

解析

第一空，与“突破常识”搭配，意在表明需要突破以往“众所周知”的事情，改变我们以往认知的束缚，含褒义。A项“局限”指限制在某个范围内，C项“禁锢”有束缚、强力限制之意，二者均可与“突破”搭配，且与文意相符，保留；B项“瓶颈”比喻事情进行中容易发生阻碍的关键环节，文段未强调事物内部发生阻碍，排除；D项“底线”是指最低限度，“突破底线”含贬义，且文段意在强调打破以往固有的认知，排除。

第二空，根据“日心说”、“进化论”等新科技成果的出现重塑了人类宇宙观和生物观可知，新科技是“新常识”的源头、起源，符合文意，C项当选。A项“动力”指推动事物发展的力量，根据后文可知，新成果和新常识之间并非动力的关系，与文意不符，排除。

故正确答案为C。

【文段出处】《困于“众所周知”，谈何“科技创新”》

26、正确答案是：A

解析

第一空，与“随时随地”并列，意在表明在“移动互联”的时代，获取知识非常容易。A项“信手拈来”是指随手拿来，形容写文章时，善于运用词汇和组织材料，强调信息获取容易，符合文意，保留；B项“触类旁通”是指懂得了某一事物或道理从而懂得相关的其他事物或道理，侧重强调知识的迁移性，而非获取的容易性，排除；C项“手到擒来”比喻做事很有把握或毫不费力就能成功，侧重强调做事情有把握、很轻松，符合文意，保留；D项“唾手可得”比喻非常容易得到，与文意相符，保留。

第二空，结合前后语句可知，先对“信息的重要性”有了自己的思考、认知之后，方能做出抉择。A项“判断”是指判断事物是否具有某种属性的思维过程，强调对事物的认识，符合文意，保留；C项“选择”是指挑选、决定，与“重要性”搭配不当，排除；D项“解释”是指说明含义、原因、理由等，强调分析阐明，而非对事物进行思考分析，排除。

故正确答案为 A。

【文段出处】《浅析决策中的“不知不知”风险》

27、正确答案是：A

解析

本题从第一空入手，观察横线前后，“从个人……到组织严密、目标明确、系统全面”可知，横线上所填入的词语应该与横线后语义相反，即表示缺乏严密的组织、明确的目标以及非系统全面意思的词，A项“碎片化”、B项“零散化”均可表示不够全面、系统之意，保留；“浅表化、娱乐化”不符合语境，且不能用于形容“影像记录”，排除C、D两项。

第二空，“记忆银行”它的用途在于“存储记忆”，对应横线后“生动逼真的历史见证”即尽管社会变迁，纪实摄影能给人们视觉感官上的逼真体验，B项“重塑”强调重新塑造，重点在“新”，不符合文意，排除；A项“延伸”，意思是延长、发展，有让我们看到更多记忆之意，符合文意，当选。

故正确答案为 A。

【文段出处】《纪实摄影·承载厚重的人文、历史、社会价值》

28、正确答案是：B

解析

本题可从第二空入手，横线前“不是建立在阐释基础上的建构，则是缺少根基的”，强调缺乏根基，即没有基础。B项“无本之木”比喻没有基础的事物，不会长久发展，强调没有基础，符合文意，当选。

A、C、D三项都未体现出缺乏根基之意，“本末倒置”比喻把主次、轻重的位置颠倒了；“纸上谈兵”比喻空谈理论，不能解决实际问题；“闭门造车”比喻固步自封，不与外界交流，均与文意不符，排除A、C、D三项。

故正确答案为 B。

【文段出处】《阐释与构建》

29、正确答案是：D

解析

从第二空入手，根据文段信息“配得上原作的译笔”、“激情和创造精神”可知，此处形容优秀译者的翻译带给读者好的体验，与“译者耗尽心血”形成对比。D项“坐享其成”意思为自己不出力而享受别人取得的成果，可以用来形容读者对译者翻译成果的感受，锁定D项；A项“自愧不如”意思是自己惭愧不如别人，文段中没有表示读者要与译者相比较的含义，排除；B项“乐此不疲”指因酷爱干某事而不感觉厌烦，形容对某事特别爱好而沉浸其中，而文段并非是读者进行翻译，排除；C项“唾手可得”指动手就可以取得，比喻极容易得到，此处并不是形容读者能“轻易”得到什么，而是强调“享受”，排除。

第一空代入验证，“融会贯通”指各方面的知识或道理融合贯穿起来，从而得到系统透彻的理解，与“学

识”搭配得当，语义符合，当选。

故正确答案为D。

【文段出处】《郭小聪：优秀译本与“好即本文”》

30、正确答案是：C

解析

第一空，根据文段信息“关键之年”、“时间节点上”可知，此处形容中央下发纲要正符合时下需求。C项“正当其时”意思是正是时候，“可谓正当其时”为常见搭配，语意与文段对应恰当，当选。A项“力敌千钧”意思是形容力气大，能抵挡住几万斤，此处并不是形容力气大、能抵挡，排除；B项“趁热打铁”比喻要抓紧有利的时机和条件去做，不是强调“符合时下需求”，而是侧重一件连着一件的做成功之事，排除；D项“恰到好处”指说话做事正好到了最合适的地步，强调合适，而非“符合时下需求”，排除。

第二空代入验证，对应文段“外部环境更加复杂多样”、“分裂势力”，C项“兴风作浪”比喻煽动情绪，挑起事端，此处用来形容“分裂势力”恰当得体，当选。

故正确答案为C。

【文段出处】《让爱国主义在每个年轻人心中都落地生根》

31、正确答案是：D

解析

第一空，搭配“思维的流弊”，“流弊”指长期流传下来的弊病，A项“反映”比喻显现出客观事物的本质，B项“暴露”是指露在外面，无所遮蔽；D项“折射”比喻把事物的表象或实质表现出来，均能与“流弊”搭配，且与前后文表象与实质的语义关系对应得当。C项“渗透”是指某种事物或势力逐渐进入其他方面，文中并无此意，且与“……出”搭配不当，排除。

第二空，根据文意可知，微博、电影、餐馆和微信刷的内容将会通过网络留下痕迹。A项“镜像”指镜子中的相反影像，与文意不符，排除；B项“记忆”是指对认识过的事物能够回忆，强调一种时代的回忆，与上文表示留下思维、留下数据的痕迹不符，排除；D项“烙印”是指烫在人、动物或器物上的火印，作为标记，比喻不易磨灭的痕迹和深刻地留下印象，与文意相符，保留。

第三空代入验证，D项“注脚”指解释字句的文字，也泛指解释、说明，与“说服力”搭配得当，符合语境。

故正确答案为D。

【文段出处】《流量至上，到底伤害了谁》

32、正确答案是：B

解析

第一空，根据文段“攀岩不仅仅……还为他……”，得知此处为递进关系，A项“重塑”指重新塑造；

B项“建构”是指构建；建立，多用于抽象事物；D项“丰富”表示使丰富；三项均可表示在原有基础上有所提升，能够体现递进关系，保留；C项“提供”指供给意见、资料、物资、条件等，与文意不符且未体现出递进关系，排除。

第二空，根据文意可知，亚历克斯希望通过自己行动带动鼓励人们去帮助不幸的人。B项“激励”是指激发鼓励，与前文中的“宣讲”搭配准确。A项“鼓动”，指以言语或行为使他人有所行动。有时带有“唆使”的意思，相较于B项不够精准；D项“希冀”是指希望，主动性也不及B项。？

第三空，根据文意表示知名度的提供并没有让他沉浸于荣誉，无法辨别方向，而是能够积极向上的发展。A项“沉湎”比喻潜心于某事物或处于某种境界或思维活动中，深深迷恋着，无法自拔。多形容陷入不良的生活习惯难以自拔，表达消极的感情色彩。与文段积极向上色彩不符，排除；B项“迷失”指迷惑弄错；分辨不清，与文意相符，当选。D项“止步”意思是止住步子，驻足不前，通常表示动作停止，与“荣誉”搭配不当，排除。

综合来看，B项三个词语填入文段最为恰当。

故正确答案为B。

【文段出处】《徒手攀爬与死神打交道，有人说他藐视生命，33岁小伙却活出自我》

33、正确答案是：B

解析

第一空，与“科学”搭配，A项“塑造”指用语言文字或其他艺术手段表现人物形象，与“科学”搭配不当，排除；B项“打造”比喻创造或造就，后接表物名称，可与“科学”搭配，且与前文“百年来的不懈努力”的搭配更加准确，保留；C项“改造”指就原有的事物加以修改或变更，使适合需要，文中并无修改变更之意，排除；D项“营造”指建造制作或创造构造，常与环境、氛围等词搭配，与“科学”搭配不当，排除。

第二空，修饰“筛选机制”，同时表示得到社会的普遍认同，B项“公平”符合语境，当选

第三空，“确实有着”表示对智商测试作为“教育筛选”的辅助手段持肯定态度，B项“合理性”填入语义搭配得当。

故正确答案为B。

【文段出处】智商测试之前世今生

34、正确答案是：A

解析

第一空，搭配“高歌猛进”。“高歌猛进”意为高声歌唱，勇猛前进。形容在前进的道路上意气风发，气势迅猛。A项“主旋律”意为主要精神或基调，搭配得当，且与前文“引领价值风尚”形成较好的语义对应。同时，“旋律”与“高歌猛进”中的“歌”形成形象表达的对应，保留。B项“风景线”形容具有某些侧面相同或相似点的事物的集合体，与意气风发、气势迅猛的语义无法对应，排除。C项“协奏曲”意为协同演奏的

曲目，重在强调合作，文中并无此意，排除。D项“大手笔”比喻观念新颖、思路独到，并能从大处着眼的计划或方法，语义搭配亦可，保留。

第二空，用来形容乡村的现状和地位，A项“附庸”泛指依附别的人或事物而存在的人或事物，用来形容乡村和城市的关系，对应得当。D项“笑柄”意为可以用来取笑的话语、行为或事情，用来形容乡村程度过重，排除。基本锁定答案A。

第三空验证，填入“反思”可以表达已经发现诸多问题后，回过头来认真思考，语义对应，搭配得当。

故正确答案为A。

【文段出处】《从乡村建设现代中国》

35、正确答案是：D

解析

第一空，根据前文“数学是非常有创造性的”及后文“不越雷池半步”“然而”可知，横线处语义应为“缺乏创造力、不知变通”的意思，A项“墨守成规”指思想保守，守着老规矩不肯改变，D项“循规蹈矩”原指遵守规矩，现多指拘泥于旧准则，不敢稍做变通，均符合语境，保留；B项井然有序指整整齐齐，次序分明，条理清楚，C项“壁垒分明”意思是比喻界限非常清楚，横线处未体现整齐、界限清楚的意思，均不符合语境，排除。

第二空，与“计算方法”搭配，A项“标新立异”表示创新，D项“别无二致”表示方法与之前并无不同，搭配均可，语义不好判断，先都保留。

第三空，横线处修饰“做数学的方法”，A项“天方夜谭”，意思是比喻虚诞、离奇的议论，不能用来修饰“做数学的方法”，且“天方夜谭”为名词性成语，填入横线处使用方法不当，排除；D项“荒诞不经”，形容不合常理、虚妄离奇，修饰“做数学的方法”搭配得当，且与后文转折后的内容可以形成相反语义，保留。

故正确答案为D。

36、正确答案是：B

解析

文段开篇指出“馆阁体”诞生的背景、应用范围及其名称的由来，随后指出其局限性，“在某种程度上限制了楷书的书写自由，使得明清两代的楷书在很大范围内缺少个性”，随后通过“但是”转折强调其“有别的书体不可替代的实用价值”，并列举“科举考试”论证其价值。文段重在强调馆阁体具有较大的价值，对应B项。

A项，“艺术价值”文段并未提及，无中生有，排除；

C项，“官方使用书体的选择标准”文段并未提及，无中生有，排除；

D项，“馆阁体一定程度上促进了科举考试的发展”为解释说明馆阁体价值的内容，非重点，排除。

故正确答案为B。

【文段出处】《馆阁体并非一钱不值》

37、正确答案是：D

解析

文段开篇指出由于“重点国有景区门票降价”会“触及景区的经济利益”和“伤及景区的‘门票依赖’发展模式”，“因此必然会遭遇各种阻力和障碍”。接下来具体介绍了“重点国有景区门票降价”的有关规定，包括“国有景区需同时降低淡季和旺季价格”、“不可以在政府指导价范围内自主下浮价格取代政府降价”、“不得不合理设置‘园中园’门票，强制捆绑销售，搞‘明降暗升’”等，这些规定旨在消灭以往景区的一些“招数”。“而只有”引导对策，指出这些“招数”都失灵之后，景区才得以建立“价格形成机制、成本监审机制和外部监督机制”，所以文段重在强调通过具体措施使得“招数”失灵的重要性，对应D项。

A项，文段中并未提及“法律监督机制”，无中生有，排除；

B项，“门票依赖”为引出话题内容，非重点，排除；

C项，“推动旅游业持续、稳定、健康地发展”文段并未提及，无中生有，排除。

故正确答案为D。

【文段出处】《让景区门票降价来得更彻底些》

38、正确答案是：C

解析

文段开篇介绍“小剧场的‘小’主要体现在物理空间上”，且详细介绍了“小剧场”的“演出空间大小”、“观众席座位数量”以及“参演人数”，这些“小”的特点决定了“演剧空间的紧凑性和观演关系的紧密性”。随后用“因此”引出结论，“小剧场不宜过度渲染舞台美术的宏阔与震撼效果”，“而”表转折，之后是重点，提出对策“应该关注思想性、艺术形式表达或创新探索维度等戏剧艺术的本体呈现”，为文段中心。文段末尾引用彼得·布鲁克的话进行了进一步解释说明，文段中心对应C项。

A项，“空的空间”出现在文段中心之后，作为证实文段中心的论据，非文段论述重点，排除；

B项，“物理空间的小决定了小剧场创作的特点”为结论前论述内容，非文段重点，排除；

D项，文段论述“小剧场要注重呈现艺术本体”，没有提及“更加多元化方向的创作取向”，无中生有，排除。

故正确答案为C。

【文段出处】《刍议小剧场之“小”》

39、正确答案是：D

解析

文段开篇引出话题“大脑中有许多不同类型的细胞”，并用“神经胶质细胞”举例说明，紧接着通过转折关联词“尽管……但”引出文段的中心句，即“不同类型的细胞表达这些基因的方式不同”，随后通过“琴

键”“下丘脑”对中心句作进一步解释说明。因此，D项是文段中心句的同义替换，当选。

A项，是对文段中心句的解释说明部分，非重点，排除。

B项，“不同类型细胞具有特定功能”，无中生有，文段并未提及，排除。

C项，文段未涉及对“细胞类型由何决定”的论述，无中生有，排除。

故正确答案为D。

【文段出处】《Cell：首次发现，男女存在不同的脑细胞，位于控制侵略和交配行为的大脑区域》

40、正确答案是：C

解析

文段开篇提出“家庭教育中教育超量与教育不足同时存在”，通过举例论证对这两种存在的情况加以解释说明，“教育超量”会给孩子造成很重的负担，“教育不足”带来的是教育减量，其片面性也是显而易见，可能会造成孩子懂得不多，会的太少。因此，家庭教育上的“超量”与“不足”都是不可取的，C项符合文意，当选。

A项，文段提到卢梭的话，但是作为举例论证的部分，并非教育中具体理论的实际应用，排除；

B项，文段论述“教育量”的问题，并没有提及“教育尺度”，偷换概念，排除；

D项，文段只是描述“教育超量与教育不足同时存在”这一客观事实，未涉及对其生存土壤的详细论述，无中生有，排除。

故正确答案为C。

【文段出处】《读诗不是为了成为偶像》

41、正确答案是：B

解析

文段开篇介绍了在束伽马谱学测量是目前世界上各大核物理实验室均采用的重要研究手段，接下来提出观点——我国在束伽马谱学研究平台建设方面的取得的进步，最后具体阐述了这些进步将广泛应用在各大核物理研究领域，整个文段为分总分结构，B项对应文段中心，当选。

A项，对应文段结尾解释说明的内容，本身非重点，排除；

C项，对应文段开头引入话题部分的内容，非重点，排除；

D项，“伽马射线”对应开篇背景部分内容，且文段关键词为“在束伽马谱学测量”，偏离文段中心，排除。

故正确答案为B。

42、正确答案是：A

解析

文段开篇指出根据天体的轨道判断该天体是否来自太阳系，接着分别从正反面论证若是椭圆轨道，则来自

太阳系，若是双曲线轨道，则可能来自太阳系外。随后引出观点，即可以通过确定天体轨道来判断天体来的方向。最后通过转折词“但是”引出文段重点，即使知道天体来向也很难判断它归属哪颗恒星，对应 A 项。

B 项，“不同天体运行轨道差异大”文段未提及，无中生有，排除；

C 项，属于转折前内容，非重点，排除；

D 项，“决定”一词表述有误，文段最后强调根据天体轨道很难判断星系归属，与文意相悖，排除。

故正确答案为 A。

43、正确答案是：A

解析

文段开篇指出，有规模有体系的经典作品译介方式对推动中国文学走出去发挥了重要作用，紧接着通过转折词“但”引出问题，即译介书目和目标读者之间存在差距，影响译介和推广的效果。之后由程度词“更”引出重点“注重市场需求”，相当于解决问题的对策。最后，列举“中国网络小说”进一步论证“这种如饥似渴的阅读需求是中国文学走出去的根本动力”。故文段重点强调中国文学走出去根本在于注重市场需求，对应 A 项。

B 项，“很高的人气”仅对应文段“中国网络小说的许多海外读者因为等不及人工翻译”，属于举例论证，非重点，排除；

C 项，“传播方式影响效果”，属于问题表述，非重点，排除；

D 项，“与时俱进”，表述不明确，排除。

故正确答案为 A。

【文段出处】《以文化的力量吸引人感染人打动人》

44、正确答案是：B

解析

这是一道排序题，首选观察首句，分别是①②③④这四句话，①句通过“近年来”引出添加糖的话题，适合放在首句，②句通过碳水化合物引出糖类的话题，适合放在首句，③句介绍很多食物中都含有糖，对比②③两句话，应该是先引出糖类的话题，再介绍糖的分布，因此②在③的前面，排除 C、D 两项。

对比 A 和 B 发现，①论述添加糖，②论述糖类，根据概念的逻辑关系，应先论述糖类再具体说明添加糖，选择 B 项。

故正确答案为 B。

45、正确答案是：D

解析

观察选项，①②③④均无明显首句特征，不好判断。①通过“现有的知识体系是不完备的”这一问题，引出鼓励学生“带着怀疑和批判的眼光去学习”，③句指出要鼓励学生进行质疑和批判，需要“教师与学生应该

平等地讨论和交流，不能以势压人”，故按照逻辑顺序，应先引出学生要带着怀疑和批判的眼光去学习，再引出鼓励学生进行质疑和批判的具体要求，①在③之前，排除 B、C 两项。⑥“吾爱吾师，吾尤爱真理”与②“学生诚然需要尊重老师，但是教师和学生都应该尊重科学与真理”话题一致，故②⑥捆绑，且⑥通过指代词“在这种情况下”做总结，适合做尾句，排除 A 项。

故正确答案为 D。

【文段出处】《大学教师的八重角色与现代师生关系》

46、正确答案是：D

解析

根据题意，未改进工艺前，10 万件产品中不合格产品数量=总数×抽中不合格产品概率=100000×0.1%=100 件；改进工艺后，抽中不合格产品概率=0.1%—0.07%=0.03%，则 10 万件产品中不合格产品数量=100000×0.03%=30 件；则现在每生产 10 万件产品，不合格产品比未改进工艺前少 70 件。

故正确答案为 D。

47、正确答案是：B

解析

根据题意可知，报名参加甲会议人数+报名参加乙会议人数=520，则

报名参加乙会议人数=520-报名参加甲会议人数=520-240=280，

两会议都报名参加的人数= $\frac{\text{报名参加甲会议人数}}{2} = \frac{240}{2} = 120$ 。根据容斥原理公式，

报名参加乙会议人数-两个会议都报名参加的人数=520-120=400，

仅报名参加乙会议人数=报名参加乙会议人数-两会议都报名参加人数=280-120=160，则

仅报名参加乙会议人数占至少报名参加 2 个会议之一总人数的比重= $\frac{160}{400} = 40\%$ 。

故正确答案为 B。

48、正确答案是：B

解析

根据已知条件可以推出，小张写日记是以一周为一个周期，且第三季度和第四季度写日记的数量相同。第三季度包括 7、8、9 月，共有 31+31+30=92 天；第四季度包括 10、11、12 月，共有 31+30+31=92 天。第三季度和第四季度的总天数相同，均为 92 天， $92 \div 7 = 13$ 余 1，因此每个季度包括 13 周余 1 天，如果要满足第三季度和第四季度所写日记数量相同，余出的 1 天要么都写日记、要么都不写日记。已知小张每周日和周一都写日记，如果想要满足题干所给条件，第三季度需要以周日开始，中间经过 13 周，以周日结束；第四季度以周一开始，中间经过 13 周，以周一结束，此时第三季度写的日记数量与第四季度相同，所以 7 月 1 日为周日。劳动节为 5

月1日，从5月1日到7月1日共有61天， $61 \div 7 = 8$ 余5，将周日向前推5天，得到劳动节为周二。

故正确答案为B。

49、正确答案是：B

解析

设乙售出时每股售价为 y ，则甲售出时每股的售价为 $(2+1) \times y = 3y$ 。根据已知条件，列表梳理如下：

	原投资（万元）	股数	每股售价	总利润
甲	10	x	$3y$	$3xy-10$
乙	20	$2x$	y	$2xy-20$

已知甲获得利润比乙高50万元，列式为：甲利润 - 乙利润 = $(3xy - 10) - (2xy - 20) = 50$ 万元，解得 $xy = 40$

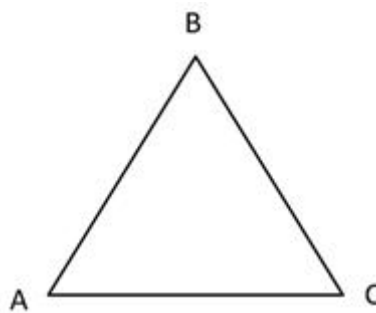
万元。则乙获取的利润 = $2xy - 20 = 2 \times 40 - 20 = 80 - 20 = 60$ 万元。

故正确答案为B。

50、正确答案是：D

解析

设甲车速度为 v ，如图所示：甲车从A地到B地速度为 v ，乙车从A地到C地为平路，速度也为 v ，故甲、乙两车分别同时到达B、C地。甲车由B地到C地速度为 v ，乙车由C地到B地为上坡，速度为 $0.5v$ ，此时甲、乙两车速度比为 $2:1$ ，时间相同，路程与速度成正比，故甲、乙两车第一次相遇的地点在距离B地右边 $\frac{2}{3}x$ 处。



乙车从第一次相遇点到B地，需要时间为 $\frac{\frac{2}{3}x}{0.5v} = \frac{4x}{3v}$ 。甲车从第一次相遇点到C地需要时间为 $\frac{\frac{1}{3}x}{v} = \frac{x}{3v}$ ，甲车从C地到A地，需要时间为 $\frac{x}{v}$ ，故甲车从第一次相遇点到A地需要时间为 $\frac{x}{3v} + \frac{x}{v} = \frac{4x}{3v}$ ，即甲、乙两车分别同时到

达 A、B 地。甲车从 A 地到 B 地速度为 v ，乙车从 B 地到 A 地为下坡，速度为 $2v$ ，此时甲、乙两车速度比为 $1:2$ ，时间相同，路程与速度成正比，故甲、乙两车第二次相遇的地点在距离 B 地左边 $\frac{2}{3}x$ 处。

所以甲、乙两车第一次和第二次相遇的位置最短距离 y 为 $\frac{2}{3}x + \frac{2}{3}x = \frac{4}{3}x > 1.3x$ 。

故正确答案为 D。

51、正确答案是：A

解析

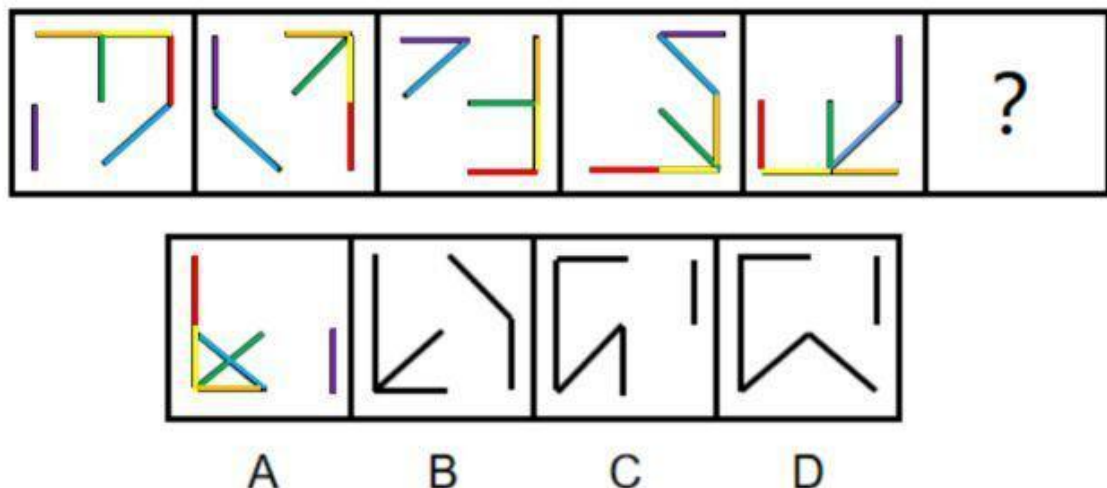
元素组成不同，且无明显属性规律，优先考虑数量规律。观察发现，题干图形中黑白三角形数量并无明显规律。进一步观察发现，三角形分布在内外圈，同色三角形指向上或下方向，考虑分开数，发现前一幅图内圈黑色向下三角形的数量等于后一副图内圈黑色向上三角形的数量。故？处应选择内圈黑色向上三角形的数量为 0 的图，只有 A 项符合。

故正确答案为 A。

52、正确答案是：A

解析

元素组成相同，优先考虑位置规律。观察发现，题干图形的不同线条各自有其运动规律，运用不同颜色的线条标出，如下图所示。



本题隐藏了正方形的路径，紫色、橙色、黄色、红色的线，沿着隐藏的路径顺时针移动，每次移动一个位置，隐藏的正方形路径内部的两条线在旋转 90° ，蓝色的线每次顺时针转 45° ，绿色的线每次顺时针转，只有 A 项符合。

故正确答案为 A。

53、正确答案是：C

解析

元素组成不同，优先考虑属性规律。观察发现，题干图形均由三个小轴对称图形构成，考虑对称性。①②⑥的三个小轴对称图形的对称轴有两条互相垂直，并和第三条相交 45° ，③④⑤的三个小轴对称图形均有两条对称轴平行。故①②⑥一组，③④⑤一组。

故正确答案为C。

54、正确答案是：A

解析

元素组成不同，且无明显属性规律，考虑数量规律。观察发现，图形封闭空间较多，考虑数面，但单纯数面无规律。再次观察发现，每个图形均由三角形和四边形组成，考虑分开数三角形和四边形的个数。其中①是2个三角形和1个四边形，②是4个三角形和3个四边形，③是3个三角形和4个四边形，④是2个三角形和1个四边形，⑤是2个三角形和3个四边形，⑥是2个三角形和3个四边形。①②④中三角形个数比四边形多1，③⑤⑥中三角形个数比四边形少1，即①②④一组，③⑤⑥一组。

故正确答案为A。

55、正确答案是：C

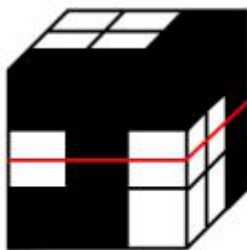
解析

A项：如图一所示，沿立体图形中间层横切，可以切出，排除；

B项：如图二所示，沿立体图形第三层横切，可以切出，排除；

C项：该项中有一列小正方体全部为黑色，按照题干立体图形无法切出，当选；

D项：如图二所示，沿立体图形第三层横切，可以切出，排除。



图一



图二

本题为选非题，故正确答案为C。

56、正确答案是：B

解析

第一步：找出定义关键词。

战略思维能力：“高瞻远瞩，统揽全局”，“把握事物发展总体趋势和方向”；

历史思维能力：“知古鉴今”，“运用历史眼光认识发展规律、把握前进方向、指导现实工作”；

辩证思维能力：“承认矛盾、分析矛盾、解决矛盾”，“善于抓住关键、找准重点、洞察事物发展规律”。

第二步：逐一分析事件。

事件①指出的观察事物、分析问题、解决问题，符合“承认矛盾、分析矛盾、解决矛盾”，客观地、发展地、全面地、系统地、普遍联系地符合“善于抓住关键、找准重点、洞察事物发展规律”，符合“辩证思维能力”定义；

事件②指出认识和判断形势，把握事物本质和发展的内在规律，符合“把握事物发展总体趋势和方向”，在把握全局中推进各项工作，符合“高瞻远瞩，统揽全局”，符合“战略思维能力”定义；

事件③指出研究社会发展规律，符合“知古鉴今”，做人类文明的推动者和引领者，符合“运用历史眼光认识发展规律、把握前进方向、指导现实工作”，符合“历史思维能力”定义。

故①体现的是辩证思维能力，②体现的是战略思维能力，③体现的是历史思维能力。

故正确答案为 B。

57、正确答案是：A

解析

第一步：找出定义关键词。

“个体拥有某项物品、奖励或者荣誉之后”，“对其价值评价要比未拥有之前明显提高”。

第二步：逐一分析选项。

A 项：小李花了 150 万元买了一套精装修的房屋，符合“个体拥有某项物品、奖励或者荣誉之后”，拥有该房屋后，他认为房子至少值 200 万元，价值评价上升 50 万元，符合“对其价值评价要比未拥有之前明显提高”，符合定义，当选；

B 项：小唐购买了 4 只基金，符合“个体拥有某项物品、奖励或者荣誉之后”，他坚信这些基金会获得超值回报，但是选项并未提及他拥有基金之前对其价值评价，不符合“对其价值评价要比未拥有之前明显提高”，不符合定义，排除；

C 项：小王逢人便称赞奖项的国际认可度极高，但是获奖的是小王的同学并非小王，不符合“个体拥有某项物品、奖励或者荣誉之后”，不符合定义，排除；

D 项：公司奖励给小陈一块定制金表，符合“个体拥有某项物品、奖励或者荣誉之后”，同事愿意出价 15 万元收藏被拒绝，说明金表在小陈心中的价值评价高于 15 万元，但是选项并未提及拥有该金表前小陈对其价值评价，不符合“对其价值评价要比未拥有之前明显提高”，不符合定义，排除。

故正确答案为 A。

58、正确答案是：C

解析

第一步：找出定义关键词。

“如果假定其是正确的，则可以推导出它自身是错误的”，“如果假定其是错误的，却未必能得出它自身是正确的”。

第二步：逐一分析选项。

A项：假定该观点正确，任何人都不能要求别人怎么样，但这句话本身也是个要求，也是不能进行的，由此可以推导出该观点错误，符合“如果假定其是正确的，则可以推导出它自身是错误的”；假定该观点错误，即有人能要求别人怎么样，也不一定能推导出它自身正确，符合“如果假定其是错误的，却未必能得出它自身是正确的”，符合定义，排除；

B项：假定该观点正确，不存在用十四字表达的汉语语句，与我们的生活常识相悖，可以推导出该观点错误，符合“如果假定其是正确的，则可以推导出它自身是错误的”；假定该观点错误，则难以推导出它自身正确，符合“如果假定其是错误的，却未必能得出它自身是正确的”，符合定义，排除；

C项：假定该观点正确，无法运用现有理论推导出该观点错误，不符合“如果假定其是正确的，则可以推导出它自身是错误的”，不符合定义，当选；

D项：假定该观点正确，所有的语句都是错误的，与我们的生活常识相悖，可以推导出该观点错误，符合“如果假定其是正确的，则可以推导出它自身是错误的”；假定该观点错误，则难以推导出它自身正确，符合“如果假定其是错误的，却未必能得出它自身是正确的”，符合定义，排除。

本题为选非题，故正确答案为C。

59、正确答案是：B

解析

第一步：找出定义关键词。

“当个别金融机构经营出现问题时，依照规定对存款人进行及时偿付，保障存款人权益”。

第二步：逐一分析选项。

A项：张某在国有银行购买货币基金后亏损，是正常的市场波动风险，而不是由于银行经营出现问题，不符合“当个别金融机构经营出现问题时，依照规定对存款人进行及时偿付，保障存款人权益”，不符合定义，排除；

B项：这家地方银行倒闭，是银行经营出现问题，并可能导致不能完成偿还存款人李某的本息，符合“当个别金融机构经营出现问题时，依照规定对存款人进行及时偿付，保障存款人权益”，符合定义，当选；

C项：银行系统升级导致客户当天无法进行线上交易，是银行系统升级而非该银行经营出现问题，不符合“当个别金融机构经营出现问题时，依照规定对存款人进行及时偿付，保障存款人权益”，不符合定义，排除；

D项：银行存款利率上调是国家政策调整，不是个别金融机构经营出现问题，而且刘某选择一年期定期存款是其个人自主选择，对于这期间可能发生的存款利率上调，刘某应有所预期并自行承担风险，不符合“当个

别金融机构经营出现问题时，依照规定对存款人进行及时偿付，保障存款人权益”，不符合定义，排除。

故正确答案为B。

60、正确答案是：C

解析

第一步：找出定义关键词。

“合理利用所处环境、地位而积极践行理想信念的进取心态”。

第二步：逐一分析选项。

A项：该项意思是作为一个士人，一个君子，必须要有宽广、坚韧的品质，因为自己责任重大，道路遥远，说的是个人应该具有的品德修养，未体现合理利用所处环境、地位，也未体现践行理想信念，不符合“合理利用所处环境、地位而积极践行理想信念的进取心态”，不符合定义，排除；

B项：该项意思是不得志的时候就要管好自己的道德修养，得志的时候就要努力让天下人都能得到好处，说的是不得志的时候和得志的时候个人应该怎么做，未体现合理利用所处环境、地位，也未体现积极践行理想信念的进取心态，不符合“合理利用所处环境、地位而积极践行理想信念的进取心态”，不符合定义，排除；

C项：该项意思是在朝廷里做高官就应当心系百姓；处在僻远的江湖间也不能忘记关注国家安危，说的是不论是在朝廷做高官还是在僻远的江湖，都应利用所处环境、地位心系百姓和国家，符合“合理利用所处环境、地位而积极践行理想信念的进取心态”，符合定义，当选；

D项：该项意思是天（即自然）的运动刚强劲健，相应于此，君子处世，应像天一样，自我力求进步，刚毅坚卓，发愤图强，永不停息；大地的气势厚实和顺，君子应增厚美德，容载万物，说的是君子应效法天地，增强自身修养，未涉及合理利用所处环境、地位，不符合“合理利用所处环境、地位而积极践行理想信念的进取心态”，不符合定义，排除。

故正确答案为C。

61、正确答案是：D

解析

第一步：找出定义关键词。

“由于自己的过错而造成对他人的伤害”、“有意无意地会认为被伤害的人也有责任”。

第二步：逐一分析选项。

A项：该项未涉及自己的过错，也未涉及造成对他人的伤害，不符合“由于自己的过错而造成对他人的伤害”、“有意无意地会认为被伤害的人也有责任”，不符合定义，排除；

B项：老人、儿童孤苦伶仃不是晓华的过错，晓华决心从事国际慈善事业也不涉及认为被伤害的人也有过错，不符合“由于自己的过错而造成对他人的伤害”、“有意无意地会认为被伤害的人也有责任”，不符合定义，排除；

C项：小陈的车和旁边插队的车辆撞在一起，双方均有过错，而且该项未明确双方是否有伤害，小陈认为对方需要承担责任也是符合事实的，不符合“由于自己的过错而造成对他人的伤害”、“有意无意地会认为被伤害的人也有责任”，不符合定义，排除；

D项：小黄随手扔香蕉皮绊倒了路过的张大娘，符合由于小黄的过错而造成对张大娘的伤害，小黄觉得是张大娘自己走路不仔细，符合小黄有意无意地认为被伤害的人也有责任，符合“由于自己的过错而造成对他人的伤害”、“有意无意地会认为被伤害的人也有责任”，符合定义，当选。

故正确答案为D。

62、正确答案是：C

解析

第一步：找出定义关键词。

“两组或两组以上的并列项目前后照应彼此衔接”、“先提起两件、三件或者更多事件，然后按照前面提及的次序，对事项分别加以阐述”。

第二步：逐一分析选项。

A项：“我住长江头，君住长江尾，日日思君不见君，共饮长江水。”先提起的是长江，后提起君，而阐述的先是思君，后阐述的长江水，不符合“先提起两件、三件或者更多事件，然后按照前面提及的次序，对事项分别加以阐述”，不符合定义，排除；

B项：“迢迢牵牛星，皎皎河汉女，纤纤擢素手，札札弄机杼。”阐述的是皎皎河汉女，并没有阐述前一句迢迢牵牛星，不符合“先提起两件、三件或者更多事件，然后按照前面提及的次序，对事项分别加以阐述”，不符合定义，排除；

C项：“山桃红花满山头，蜀江春水拍山流。花红易衰似郎意，水流无限似依愁。”先阐述的桃花，后阐述的江水，符合“两组或两组以上的并列项目前后照应彼此衔接”，也符合“先提起两件、三件或者更多事件，然后按照前面提及的次序，对事项分别加以阐述”，符合定义，当选；

D项：“沧海月明珠有泪，蓝田日暖玉生烟。此情可待成追忆，只是当时已惘然。”没有阐述提起的事件，不符合“先提起两件、三件或者更多事件，然后按照前面提及的次序，对事项分别加以阐述”，不符合定义，排除。

故正确答案为C。

63、正确答案是：D

解析

第一步：找出定义关键词。

“政府部门或者某一组织失去公信力时”、“都会被社会公众认为是说假话、做坏事”。

第二步：逐一分析选项。

A项：商鞅属于个人，不符合“政府部门或者某一组织”，且最后赢得了民众的信任，不符合“被社会公众认为是说假话、做坏事”，不符合定义，排除；

B项：西斯家族仅代表一个家族，不符合“社会公众”，不符合定义，排除；

C项：甲国由于失信导致乙国拒绝结盟，乙国不符合“社会公众”，不符合定义，排除；

D项：某公益组织，符合“政府部门或者某一组织”，老百姓认为他们在作秀，符合“被社会公众认为是说假话、做坏事”，符合定义，当选。

故正确答案为D。

64、正确答案是：C

解析

第一步：找出定义关键词。

“请君入瓮”型标语：“表面上给出可供选择的两个或者两个以上的情况”，“实际上若干情况是不能选择的，结果往往是唯一的”；

“循循善诱”型标语：“给出某一行为将获得的结果”、“引导人们选择或者放弃某一行为”。

第二步：逐一分析选项。

A项：得肺炎是到处串门的结果，符合“给出某一行为将获得的结果”、“引导人们选择或者放弃某一行为”，属于循循善诱型标语，不符合请君入瓮型标语，排除；

B项：地府相会是尝野味的结果，符合“给出某一行为将获得的结果”、“引导人们选择或者放弃某一行为”，属于循循善诱型标语，不符合请君入瓮型标语，排除；

C项：口罩还是呼吸机，符合“表面上给出可供选择的两个或者两个以上的情况”，但是二者中明显呼吸机是不能选择的，只能选择口罩，符合“实际上若干情况是不能选择的，结果往往是唯一的”，符合请君入瓮型标语，当选；

D项：传染爹娘是带病回乡的结果，符合“给出某一行为将获得的结果”、“引导人们选择或者放弃某一行为”，属于循循善诱型标语，不符合请君入瓮型标语，排除。

故正确答案为C。

65、正确答案是：D

解析

第一步：找出定义关键词。

乾线：“曲线右边的终点高于左边的起点”；

坤线：“曲线右边的终点低于左边的起点”；

趋坤：“曲线的最高点在最低点的左边”；

趋乾：“曲线的最高点在最低点的右边”；

双乾线：“趋乾的乾线”；

坤乾线：“趋坤的乾线”；

乾坤线：“趋乾的坤线”；

双坤线：“趋坤的坤线”。

第二步：逐一分析选项。

A项：乾坤线是指“趋乾的坤线”，即要符合“曲线的最高点在最低点的右边，且右边的终点低于左边的起点”。该项曲线右边的终点高于左边的起点，不符合“曲线右边的终点低于左边的起点”，不符合定义，排除；

B项：双乾线是指“趋乾的乾线”，即要符合“曲线的最高点在最低点的右边，且右边的终点高于左边的起点”。该项最高点在最低点的左边，右边的终点低于左边的起点，不符合“曲线的最高点在最低点的右边，且右边的终点高于左边的起点”，不符合定义，排除；

C项：坤乾线是指“趋坤的乾线”，即要符合“曲线的最高点在最低点的左边，且右边的终点高于左边的起点”。该项最高点在最低点右边，不符合“曲线的最高点在最低点的左边”，不符合定义，排除；

D项：双坤线是指“趋坤的坤线”，即要符合“曲线的最高点在最低点的左边，且右边的终点低于左边的起点”。该项符合“曲线的最高点在最低点的左边，且右边的终点低于左边的起点”，符合定义，当选。

故正确答案为D。

66、正确答案是：B

解析

第一步：判断题干词语间逻辑关系。

计算器的功能是计算，搅拌机的功能是搅拌，二者都是以功能命名的对应关系。

第二步：判断选项词语间逻辑关系。

A项：树脂板是不干胶的原材料，二者是原材料与产成品的对应关系，与题干逻辑关系不一致，排除；

B项：杀虫剂的功能是杀虫，保鲜膜的功能是保鲜，二者都是以功能命名的对应关系，与题干逻辑关系一致，当选；

C项：无影灯是医用灯的一种，二者是包容关系里的种属关系，与题干逻辑关系不一致，排除；

D项：虎斑蝶是外形有类似虎斑的蝴蝶，安全帽是无生命体的物品，是保护人体头部的，二者无明显对应关系，排除。

故正确答案为B。

67、正确答案是：C

解析

第一步：判断题干词语间逻辑关系。

交警是警察的一种，二者是种属关系，特警是警察的一种，二者是种属关系，交警和特警是并列关系中的反对关系。

第二步：判断选项词语间逻辑关系。

A项：幼师是教师的一种，二者是种属关系，有的教授是教师，有的教师是教授，二者是交叉关系，与题干逻辑关系不一致，排除；

B项：读者是阅读书刊文章的人，记者是新闻媒体机构汇总担任采访、新闻写作、摄影的专业人员，编者是编写的人，三者互为交叉关系，与题干逻辑关系不一致，排除；

C项：瓷碗是碗盏的一种，二者是种属关系，陶碗是碗盏的一种，二者是种属关系，瓷碗与陶碗是并列关系中的反对关系，与题干逻辑关系一致，当选；

D项：竹凳是竹器的一种，二者是种属关系，蓑衣是用草编制的雨具，不是竹器，二者无种属关系，与题干逻辑关系不一致，排除。

故正确答案为C。

68、正确答案是：D

解析

第一步：判断题干词语间逻辑关系。

灾害预警，二者是主谓关系，灾害会带来损失，二者是必然属性的对应关系。

第二步：判断选项词语间逻辑系。

A项：鼓舞士气，二者是动宾关系，官宣是正式发布的意思，与二者无明显对应关系，与题干逻辑关系不一致，排除；

B项：美化与修订均为动词，无明显对应关系，美化作品，修订作品，前两者与后者均为动宾关系，与题干逻辑关系不一致，排除；

C项：总结是动词，经验与教训是名词，总结经验，二者是动宾关系，经验不一定是教训，二者不是必然属性关系，与题干逻辑关系不一致，排除；

D项：危机公关，公关做动词时意为“解决公关关系问题”，二者是主谓关系，危机会带来风险，二者是必然属性关系，与题干逻辑关系一致，当选。

故正确答案为D。

69、正确答案是：C

解析

第一步：判断题干词语间逻辑关系。

朱门最初的含义是红色的门，相思豆指的是红豆，赤字本意为红色的字，三者都有红色的含义，三者为对应关系。

第二步：判断选项词语间逻辑关系。

A项：热水器和暖气片都是一种设备，二者是并列关系，分别与第三词为种属关系，与题干逻辑关系不一致，排除；

B项：沙漠是一种特殊的植被景观，天王星是太阳系中的一颗行星，寂寥的意思是寂静冷清，空旷高远，三者无明显的逻辑关系，与题干逻辑关系不一致，排除；

C项：红袖、巾帼、娥眉都是女子的代名词，都有女子的含义，三者为对应关系，题干逻辑关系一致，当选；

D项：教室、答题卡、蓝天三个词无明显逻辑关系，与题干逻辑关系不一致，排除。

故正确答案为C。

70、正确答案是：A

解析

第一步：判断题干词语间逻辑关系。

有的雷阵雨是大暴雨，有的大暴雨是雷阵雨，二者是交叉关系，且二者都是雨的一种，流星雨不属于雨。

第二步：判断选项词语间逻辑关系。

A项：观赏花和食用花，二者是交叉关系，且二者都是花的一种，交际花指旧时在社交场中活跃而有名的女子，不属于花，与题干逻辑关系一致，当选；

B项：标志灯和指示灯，二者是全同关系，与题干逻辑关系不一致，排除；

C项：内陆湖和淡水湖，二者是交叉关系，且二者都是湖的一种，但人工湖也是湖的一种，与题干逻辑关系不一致，排除；

D项：捕鱼船和太空船，二者是并列关系，与题干逻辑关系不一致，排除。

故正确答案为A。

71、正确答案是：A

解析

第一步：判断题干词语间逻辑关系。

能被13整除的数为13、26、39·····，能被17整除的数为17、34、51·····，二者为交叉关系，交叉部分为221、442、663·····；大于10小于100的整数和前两者分别为交叉关系。

第二步：判断选项词语间逻辑关系。

A项：小于30的整数和大于10的整数，二者为交叉关系，93的因子有1、3、31、93，与前两者分别为交叉关系，与题干逻辑关系一致，当选；

B项：小于30的整数和大于93的整数，二者为并列关系，与题干逻辑关系不一致，排除；

C项：小于93的整数和大于10的整数，二者为交叉关系，30的因子有1、2、3、5、6、10、15、30，小

于 93 的整数包含 30 的因子，二者为包容关系，与题干逻辑关系不一致，排除；

D 项：小于 93 的整数和大于 30 的整数，二者为交叉关系，10 的因子有 1、2、5、10，10 的因子与小于 93 的整数为包容关系，与题干逻辑关系不一致，排除。

故正确答案为 A。

72、正确答案是：A

解析

逐一代入选项。

A 项：开凿运河，二者是动宾关系，查询词典，二者也是动宾关系，前后逻辑关系一致，当选；

B 项：运河必须通过船只才能运送粮食，词典是知识的直接载体，前后逻辑关系不一致，排除；

C 项：运河和长城是并列关系，词典是辞典的一种，二者为种属关系，前后逻辑关系不一致，排除；

D 项：运河有航运的功能，词典是查询词语解释的工具，前后逻辑关系不一致，排除。

故正确答案为 A。

73、正确答案是：D

解析

逐一代入选项。

A 项：几何学是研究空间关系的数学分支，有时简称为几何。代数学是数学中最重要的、最基础的分支之一，是研究数、数量、关系与结构的数学分支。二者为并列关系；诗词是文学的一种，二者为种属关系，前后逻辑关系不一致，排除；

B 项：几何学与土地无明显逻辑关系；诗词可以表达情感，二者为对应关系，前后逻辑关系不一致，排除；

C 项：几何学是研究空间关系的数学分支，二者为对应关系；诗词可以描写山水，二者为对应关系，但前后两部分的顺序不一致，且前后逻辑关系不一致，排除；

D 项：几何学是数学的一个分支，二者为包容关系；宋词是诗词的一个分支，二者为包容关系，前后逻辑关系一致，当选。

故正确答案为 D。

74、正确答案是：B

解析

逐一代入选项。

A 项：由于火山爆发产生火山灰，生产力是社会变革的决定因素，由于生产力提高产生社会变革，前后均为因果关系，但前后顺序相反，前后逻辑关系不一致，排除；

B 项：由于地球内部存在极大压力造成火山爆发，由于社会存在矛盾引发社会变革，前后均为因果关系，前后逻辑关系一致，当选；

C项：火山爆发是地幔中的岩浆冲破地壳产生的，二者为现象与来源地的对应关系，民众参与社会变革，二者为人与运动的对应关系，前后逻辑关系不一致，排除；

D项：火山爆发是一种灾害，二者为种属关系，社会变革会起到改良社会的作用，二者不属于种属关系，前后逻辑关系不一致，排除。

故正确答案为B。

75、正确答案是：C

解析

第一步：判断题干词语间逻辑关系。

根据题干图形所示，①包容②，二者为包容关系；①和③有部分公共交集，二者为交叉关系。

第二步：判断选项词语间逻辑关系。

A项：研究生包含硕士生和博士生，因此研究生与硕士生为包容关系，而研究生、硕士生和理科生均为交叉关系，与题干逻辑关系不一致，排除；

B项：讲师和博士为交叉关系，讲师与辅导员是两种不同类型的职业，二者为并列关系，与题干逻辑关系不一致，排除；

C项：女院长是院长的一种，属于包容关系，院长和男教授为交叉关系，与题干逻辑关系一致，当选；

D项：“推免生”全称为“推荐优秀应届本科毕业生免试攻读硕士学位研究生”，是指可以不用参加研究生考试而直接读研的一种情形，属于大学生的一种，二者为包容关系，但与题干词语顺序相反，同时推免生也属于优秀生，二者也为包容关系，与题干逻辑关系不一致，排除。

故正确答案为C。

76、正确答案是：A

解析

第一步：找出论点和论据。

论点：新技术将会有效改善脱发。

论据：这种技术通过温和的低频电脉冲来刺激皮肤，诱使休眠的毛囊重新开始产生头发。使用这种技术的设备靠佩戴者的日常活动供电，因此不需要笨重的电池组成复杂的电子设备，以至于可以放在普通棒球帽的下面。

论点与论据都讨论新技术对改善脱发的效果，对于论点与论据一致的削弱题，优先考虑否定论点。

第二步：逐一分析选项。

A项：这种新技术对毛囊已被破坏的病理性脱发效果不明显，即这项技术不能有效改善脱发，直接否定论点，可以削弱，当选；

B项：选项说新技术设备处于实验室研发阶段，而论点讨论的是新技术对改善脱发的效果，话题不一致，

属于无关项，不能削弱，排除；

C项：选项讨论低频电脉冲可以改善睡眠质量，而论点讨论的是新技术对改善脱发的效果，话题不一致，属于无关项，不能削弱，排除；

D项：选项讨论造成脱发的原因，而论点讨论的是新技术对改善脱发的效果，话题不一致，属于无关项，不能削弱，排除。

故正确答案为A。

77、正确答案是：B

解析

第一步：找出论点和论据。

论点：升级版的羟氯喹——青蒿素有望成为治疗红斑狼疮的有效药物。

论据：抗疟疾药物羟氯喹是目前红斑狼疮治疗的常规药物。

第二步：逐一分析选项。

A项：青蒿琥酯、马来酸蒿乙醚胺属于青蒿素的衍生物，其衍生物们对红斑狼疮有治疗效果，说明青蒿素有较大可能成为治疗红斑狼疮的有效药物，可以支持，排除；

B项：论点说的是青蒿素有可能成为治疗红斑狼疮的有效药物，该项说的是青蒿素对红斑狼疮的治疗效果正在试验中，即便将在五年内完成，但是否会有治疗效果不得而知，属于不明确选项，无法支持，当选；

C项：动物实验已经证明青蒿素对系统性红斑狼疮有一定治疗效果，说明青蒿素对治疗红斑狼疮有效，可以支持，排除；

D项：青蒿素和羟氯喹具有同样的免疫抑制活性，说明在治疗红斑狼疮时，青蒿素也可能发挥免疫抑制作用，补充论据，可以支持，排除。

本题为选非题，故正确答案为B。

78、正确答案是：C

解析

第一步：找出论点和论据。

论点：服用高剂量维生素B6易导致老年女性髋关节骨折风险升高。

论据：研究发现，服用高剂量维生素B6（每日35毫克以上）的人，相比较于服用低剂量或不服用的人，髋关节骨折的风险高出近50%。

第二步：逐一分析选项。

A项：该项说的是服用高剂量维生素B6会增加老人跌倒的风险，论点讨论的是老年女性髋关节骨折的风险，跌倒不能代表髋关节骨折，话题不一致，无法支持，排除；

B项：该项说的是饮食摄入不当而导致体内维生素不足，论点讨论的是服用高剂量维生素B6与老年女性髋

关节骨折风险间的联系，话题不一致，无法支持，排除；

C项：服用维生素 B6 会使髌关节部位骨质疏松，更易骨折，解释说明服用高剂量维生素 B6 会增加髌关节部位骨质疏松的风险，进而导致髌关节骨折的风险升高，可以支持，当选；

D项：该项说的是有一部分老年女性需要额外补充维生素 B6，论点讨论的是服用高剂量维生素 B6 与老年女性髌关节骨折的风险间的关系，话题不一致，无法支持，排除。

故正确答案为 C。

79、正确答案是：A

解析

第一步：找出论点和论据。

论点：全社会整体的择业意愿与社会需求的背离程度正在不断加深。

论据：无。

第二步：逐一分析选项。

A项：该项说的是择业意愿与教育培训之间的背离，论点讨论的是择业意愿与社会需求的背离，话题不一致，无法支持，当选；

B项：高等教育的大众化使得更多人希望从事脑力劳动，但社会目前对脑力劳动者的需求并不高，体现了择业意愿与社会需求间的背离，可以支持，排除；

C项：大量独生子女的家庭更愿意培养孩子从事脑力劳动，但社会对体力劳动者的需求更大，体现了择业意愿与社会需求间的背离，可以支持，排除；

D项：愿意从事技工和普工的劳动者数量比社会对此工作的需求量减少得更快，说明择业意愿与社会需求无法匹配，可以支持，排除。

本题为选非题，故正确答案为 A。

80、正确答案是：B

解析

第一步：找出论点和论据。

论点：全球市场的天然钻石价格将大幅下降。

论据：有研究团队研发出新的人造钻石培育技术，在实验室环境下，一星期就可以“培育”出一颗 1 克拉大小的钻石，人造钻石和天然钻石在成分和结构上并无差别，但其成本只有天然钻石市场价格的 1/6。

本题的论点是对未来的一种预测，这种预测未来的题目没办法通过直接否定论点（全球市场的天然钻石价格不会大幅下降）的方式来削弱，要么否定过去和未来的关系，要么补充一些能证明未来全球市场的天然钻石价格不会大幅下降的理由。

第二步：逐一分析选项。

A 项：价值决定价格，人造钻石的劳动价值高于天然钻石，说明人造钻石的价格未来可能更高，同样的成分下，这对天然钻石市场来说是有利的，无法削弱，排除；

B 项：消费者不认可人造钻石，说明天然钻石不会因为人造钻石的成本低而丧失市场需求，该选项给未来全球市场的天然钻石价格不会大幅下降提供了有利的证据，能证明未来天然钻石价格不会大幅下降，可以削弱题干论点，当选；

C 项：钻石需求下降但不明确是人工还是天然的钻石，无法削弱，排除；

D 项：人工钻石的需求量大不能证明天然钻石的需求量小，则是否会影响未来全球天然钻石的市场不确定，是不确定选项，无法削弱，排除。

故正确答案为 B。

81、正确答案是：D

解析

第一步：找出论点和论据。

论点：共享雨伞行业正在逐步强大，拥有广阔的市场前景。

论据：无。

第二步：逐一分析选项。

A 项：选项说明共享雨伞有了政策的支持，因此会拥有广阔的市场前景，补充论据，可以加强，排除；

B 项：除了雨天，用户也会因为天热遮阳而选择买伞，说明共享雨伞能多方面解决用户的需求，因此会拥有广阔的市场前景，补充论据，可以加强，排除；

C 项：共享雨伞的租借方式被用户接受，说明共享雨伞的使用十分便捷，因此会拥有广阔的市场前景，补充论据，可以加强，排除；

D 项：共享雨伞未来面临市场竞争，有竞争不代表没前景，是否会拥有广阔的市场前景不明确，无法加强，当选。

本题为选非题，故正确答案为 D。

82、正确答案是：D

解析

第一步：找出论点和论据。

论点：在宇宙的遥远之处有大氛围的反物质星系区存在，那里的宇宙射线主要由反质子和反氦四组成。

论据：无。

第二步：逐一分析选项。

A 项：人类没有发现在地球上以自然状态存在的反物质，而题干中说的是宇宙的遥远之处，话题不一致，无法加强，排除；

B项：物质和反物质可以相互抵消，那么物质也不会存在，而题干中只提及到反物质的去处，属于无关选项，无法加强，排除；

C项：选项说的是科学家可以制造反物质，不是在宇宙外存在反物质，话题不一致，无法加强，排除；

D项：放置在地球大气层之外的阿尔法磁谱仪观测到反物质，补充论据，从科学的角度证明了反物质的存在，可以加强，当选。

故正确答案为D。

83、正确答案是：C

解析

第一步：找出论点和论据。

论点：你经常撒谎，我不能相信你，当你开始说真话的时候，我就开始相信你。

论据：儿子在说谎，妈妈不相信儿子。

第二步：逐一分析选项。

A项：妈妈从来不相信儿子会说真话，与题干中儿子开始说真话的时候，妈妈开始相信，两个话题正好相反，话题不一致，无法加强，排除；

B项：妈妈认定儿子知道什么是说谎，与儿子说不说谎和妈妈知不知道没有关系，是无关选项，无法加强，排除；

C项：妈妈知道儿子哪句话是真话，是论点成立的必要条件，因为只有当妈妈可以判别孩子说话的真假时，才能选择相信或者不信，可以加强，当选；

D项：妈妈相信儿子最终会说真话，不能解释妈妈能否正确辨别儿子是否在说真话，是无关选项，无法加强，排除。

故正确答案为C。

84、正确答案是：A

解析

第一步：分析题干。

①甲在初一值班→乙和丁在初二值班；

②一己初三值班→戊在初二值班；

③丙在初二值班→一丁初二值班；

④丙和戊至少有一人不在初二值班。

第二步：根据题干条件分析选项。

由题干可知，丙在初二值班，结合④，在或条件中，否定一个，必然肯定另一个条件可得，戊不在初二值班，再结合②否后必否前可得，己在初三值班，只有A项满足条件。

故正确答案为 A。

85、正确答案是：D

解析

第一步：分析题干。

①甲在初一值班→乙和丁在初二值班；

②——初三值班→戊在初二值班；

③丙在初二值班→一丁初二值班；

④丙和戊至少有一人不在初二值班；

⑤甲和丁在同一天值班；

⑥乙在初二值班。

第二步：根据题干条件分析选项。

由①⑤⑥可得，丁不在初二值班，甲不在初一值班，所以，甲和丁只能在初三值班，排除 B 项；又结合②可得，每天只有两人值班，故己不在初三值班，肯前必肯后，戊在初二值班，排除 A 项；再结合④可知，在或条件中，否一推一，可得，丙不在初二值班，那么丙只能在初一值班，只有 D 项符合。

故正确答案为 D。

86、正确答案是：B

解析

根据题干“2019 年 1~4 月 84、正确答案是：A

解析

第一步：分析题干。

①甲在初一值班→乙和丁在初二值班；

②——己初三值班→戊在初二值班；

③丙在初二值班→一丁初二值班；

④丙和戊至少有一人不在初二值班。

第二步：根据题干条件分析选项。

由题干可知，丙在初二值班，结合④，在或条件中，否定一个，必然肯定另一个条件可得，戊不在初二值班，再结合②否后必否前可得，己在初三值班，只有 A 项满足条件。

故正确答案为 A。

85、正确答案是：D

解析

第一步：分析题干。

- ①甲在初一值班→乙和丁在初二值班；
- ②——初三值班→戊在初二值班；
- ③丙在初二值班→一丁初二值班；
- ④丙和戊至少有一人不在初二值班；
- ⑤甲和丁在同一天值班；
- ⑥乙在初二值班。

第二步：根据题干条件分析选项。

由①⑤⑥可得，丁不在初二值班，甲不在初一值班，所以，甲和丁只能在初三值班，排除 B 项；又结合②可得，每天只有两人值班，故己不在初三值班，肯前必肯后，戊在初二值班，排除 A 项；再结合④可知，在或条件中，否一推一，可得，丙不在初二值班，那么丙只能在初一值班，只有 D 项符合。

故正确答案为 D。

86、正确答案是：B

解析

根据题干“2019 年 1~4 月，S 地区月均航空运输旅客吞吐量在以下哪个范围内”，判定本题为现期平均数问题。根据材料第一段“2019 年上半年，S 地区航空运输旅客吞吐量累计完成 1773.9 万人次”，第三段“2019 年 6 月，S 地区航空运输旅客吞吐量完成 321.3 万人次……环比增长 1.7%”可知，2019 年 5 月 S 地区

航空运输旅客吞吐量完成人次为 $\frac{321.3}{1+1.7\%} \approx 316$ 万人次。故 2019 年 1~4 月，S 地区月均航空运输旅客吞吐量为 $\frac{1773.9 - 321.3 - 316}{4} \approx 284$ 万人次，介于 280~290 万人次之间。

故正确答案为 B。

87、正确答案是：C

解析

根据题干“2019 年上半年平均每架次飞行起降的飞机运送乘客的数量比上年同期”，结合选项为百分数，可判定此题为平均数的增长率问题。定位文字材料第一段可知，2019 年上半年，S 地区航空运输旅客吞吐量同比增长 11.5% (a)；飞行起降 20.6 万架次，同比增长 14.8% (b)。根据平均数的增长率公式可知：

$$r = \frac{a - b}{1 + b} = \frac{11.5\% - 14.8\%}{1 + 14.8\%} = \frac{-3.5\%}{1.148}, -10\% < r < 0。$$

故正确答案为 C。

88、正确答案是：C

解析

根据题干“2019年6月……占2季度……”，可判定此题为现期比重问题。定位文字材料第一段可知，2019年上半年，货邮吞吐量累计完成9万吨，其中1季度货邮吞吐量累计完成4.0万吨，即2019年2季度货邮吞吐量 = $9 - 4 = 5$ 万吨。定位文字材料第三段可知，2019年6月，货邮吞吐量完成19210.7吨。

则所求 = $\frac{2019年6月货邮吞吐量}{2019年2季度货邮吞吐量} = \frac{19210.7吨}{5万吨} \approx \frac{1.9}{5} = 38\%$ 。

故正确答案为C。

89、正确答案是：B

解析

根据题干“2019年2季度，S地区累计起飞架次数同比增速……”和材料第二段“2019年上半年，S地区累计……；累计起飞43633架次，同比增长9.1%。其中1季度……；累计起飞9675架次，同比增长15.1%。”判定本题为混合增长率问题。设2019年2季度S地区累计起飞架次数同比增速为 x 。

根据线段法，可列式 $(9.1\% - x) : 9675 = (15.1\% - 9.1\%) : (43633 - 9675)$ ，解得 $x \approx 7.4\%$ 。

故正确答案为B。

备注：题干表述不严谨，命题人意在问S地区通用航空累计起飞架次数的同比增速。

90、正确答案是：A

解析

A项：根据材料第一段“2019年上半年，S地区航空运输旅客吞吐量累计完成1773.9万人次，同比增长11.5%……其中1季度旅客吞吐量累计完成841.9万人，同比增长10.2%”，根据混合增长率混合后增长率居中，可知2019年2季度航空运输旅客吞吐量同比增速高于1季度，正确；

B项：根据材料第三段“2019年6月，S地区航空……飞行起降41804架次，同比增长13.2%”可知，2019年6月航空飞行起降架次同比增加量为 $\frac{41804}{1 + 13.2\%} \times 13.2\% \approx \frac{41804}{1 + \frac{1}{7.5}} \times \frac{1}{7.5} = \frac{41804}{7.5 + 1} \approx 4900$ 架次 < 6000架次，错误；

C项：根据材料第一段“2019年上半年，S地区航空运输旅客吞吐量累计完成1773.9万人次”和材料第三段“2019年6月，S地区航空运输旅客吞吐量完成321.3万人次”可知，1~5月平均水平为： $\frac{1773.9 - 321.3}{5} \approx 290$ 万人次 < 321.3万人次，故2019年6月航空运输旅客吞吐量高于1~5月平均水平，错误；

D项：根据材料第二段“2019年上半年，S地区累计完成通用航空飞行19999小时，……其中1季度累计完成通用航空飞行4564.3小时”可知，2019年2季度累计完成通用航空飞行时长是1季度的 $\frac{19999 - 4564.3}{4564.3} \approx 3.4$ 倍 < 4倍，错误。

故正确答案为 A。

91、正确答案是：B

解析

根据题干“2014~2018 年间，·····比上一个 5 年的平均值高·····”，可判定本题为两期平均数比较，根据折线可求出 2014~2018 年我国教育经费平均值 $= \frac{3.28 + 3.61 + 3.89 + 4.26 + 4.61}{5} = 3.93$ 万亿元，2009~2013 年教育经费平均值 $= \frac{1.65 + 1.96 + 2.39 + 2.87 + 3.04}{5} = \frac{11.91}{5} = 2.382$ 万亿元， $3.93 - 2.382 \approx 1.55$ 万亿元。

故正确答案为 B。

92、正确答案是：A

解析根据题干“·····同比增速快于 20% 的年份有几个，”可判定本题为一般增长率问题。定位统

计图，根据公式：增长率 $= \frac{\text{现期量} - \text{基期量}}{\text{基期量}}$ ， $\frac{\text{现期量} - \text{基期量}}{\text{基期量}} > 20\%$ ，即 $\text{现期量} - \text{基期量} > \text{基期量} \times 20\%$ 。代入数据可得：

2010 年： $480 - 390 = 90 > 390 \times 0.2 = 78$ ，满足；

2011 年： $600 - 480 = 120 > 480 \times 0.2 = 96$ ，满足；

2012 年： $690 - 600 = 90 < 600 \times 0.2 = 120$ ，不满足；

2013 年： $792 - 690 = 102 < 690 \times 0.2 = 138$ ，不满足；

2014 年： $820 - 792 = 28 < 792 \times 0.2 \approx 160$ ，不满足；

2015 年： $898 - 820 = 78 < 820 \times 0.2 = 164$ ，不满足；

2016 年： $1020 - 898 = 122 < 898 \times 0.2 \approx 180$ ，不满足；

2017 年： $1150 - 1020 = 130 < 1020 \times 0.2 = 204$ ，不满足；

2018 年： $1220 - 1150 = 70 < 1150 \times 0.2 = 230$ ，不满足。

综上，满足题干要求的只有 2010 年、2011 年这 2 个年份。

故正确答案为 A。

93、正确答案是：C

解析

根据题干“·····同比增速·····”，可判定本题为一般增长率问题。定位统计表，根据公式： $\text{增长量} = \text{现期量} - \text{基期量}$ ，代入数据计算可得：2010~2018 年教育经费同比增量最高的年份是 2012 年。根

据公式：增长率 = $\frac{\text{现期量} - \text{基期量}}{\text{基期量}}$ ，可知 2012 年教育经费的同比增速 = $\frac{2.87 - 2.39}{2.39} \approx \frac{0.48}{2.4} = 20\%$ ，硬件投入的同比增速 = $\frac{861 - 544}{544} = \frac{317}{544} > 50\% > 20\%$ ，软件投入的同比增速 = $\frac{690 - 600}{600} = \frac{90}{600} = 15\% < 20\%$ ，服务投入的同比增速 = $\frac{228 - 178}{178} = \frac{50}{178} > \frac{50}{250} = 20\%$ 。则当年教育信息化三个细分行业中规模同比增速快于教育经费同比增速的有 2 类。

故正确答案为 C。

94、正确答案是：B

解析

根据题干“……同比增量保持不变，……将在哪一年首次超过……”，可判定本题为现期追赶问题。增长量 = 现期量 - 基期量，2018 年硬件行业同比增量 = $1498 - 1422 = 76$ 亿元，软件行业同比增量 = $1220 - 1150 = 70$ 亿元，服务行业同比增量 = $752 - 648 = 104$ 亿元。三个行业同比增量总和 = $76 + 70 + 104 = 250$ 亿元，当年三个行业投入总和 = $1498 + 1220 + 752 = 3470$ 亿元。若 n 年后首次超过，则有 $3470 + 250n > 5000$ ，解得： $n > 6.12$ ，则 n 至少取 7，故 7 年后首次超过 5000 亿元，即 $2018 + 7 = 2025$ 年。

故正确答案为 B。

95、正确答案是：D

解析

A 项：定位柱状图可知，2011 年硬件市场规模为 544 亿元，软件市场规模为 600 亿元，硬件市场规模小于软件市场规模，错误；

B 项：定位折线图可知，2018 年教育经费投入额为 4.61 万亿元，2017 年教育经费投入额为 4.26 万亿元，故 2018 年教育经费投入额同比增长率 $r = \frac{4.61 - 4.26}{4.26} = \frac{0.35}{4.26} < 10\%$ ，错误；

C 项：定位柱状图可知，2014 年软件市场规模为 820 亿元，硬件市场规模为 1127 亿元；2013 年软件市场规模为 792 亿元，硬件市场规模为 1008 亿元。2014 年软件市场规模同比增速为 $\frac{820 - 792}{792} = \frac{28}{792} = 3\%^+$ ；硬件市场规模同比增速为 $\frac{1127 - 1008}{1008} = \frac{119}{1008} = 10\%^+$ ，故 2014 年软件市场规模同比增速慢于硬件市场规模同比增速，错误；

D 项：定位柱状图可知，2016 年服务市场规模为 541 亿元，2010 年服务市场规模为 135 亿元，135 亿元翻两番为 $135 \times 4 = 540$ 亿元，541 亿元 > 540 亿元，故 2016 年服务市场规模较 2010 年翻两番，正确。

故正确答案为 D。

96、正确答案是：C

解析

根据题干“2018年1~10月份，同城快递业务量累积完成...”，结合材料所给时间为2019年1~10月份，可判定为基期计算问题。定位文字材料可知，“2019年1~10月，全国快递服务企业业务量累计完成496.6亿件，同比增长26%...”，“2019年1~10月，同城快递业务量占全部快递业务量的17.7%，与去年同期相比，比重下降5个百分点”。则2018年1~10月份同城快递业务累积完成数量为

$$\frac{496.6}{1+26\%} \times (17.7\% + 5\%) \approx \frac{500}{1.3} \times 0.23 \approx 88 \text{ 亿件。}$$

故正确答案为C。

97、正确答案是：D

解析根据题干“中部地区快递业务量同比增速可能为”，结合选项都带%，可判定本题为一般增长率问题。定位材料第一段“2019年1~10月，全国快递服务企业业务量累计完成496.6亿件，同比增长26%”，定位材料第三段“中部地区快递业务比重上升0.5个百分点”，比重上升说明中部地区快递业务同比增长率大于全国快递业务同比增长率，故所求一定大于26%，结合选项，只有D项符合。

故正确答案为D。

98、正确答案是：D

解析

根据题干“2019年1~10月每件快递创造的快递业务收入同比增速”，可判定本题为平均数增长率问题。定位材料第三段“东部地区快递业务量比重下降0.1个百分点，快递业务收入比重上升0.3个百分点；中部地区快递业务比重上升0.5个百分点，快递业务收入比重基本持平；西部地区快递业务量比重下降0.4个百分点，快递业务收入比重下降0.3个百分点”，平均每件快递创造的快递业务收入 $= \frac{\text{快递业务收入}}{\text{快递业务量}}$ ，令收入增长率为 a ，业务增长率为 b ，则平均每件快递创造的快递业务收入增长率 $r = \frac{a-b}{1+b}$ ①，东部地区业务量比重下降说明 $b_{东} < b_{全国}$ ，业务收入上升说明 $a_{东} > a_{全国}$ ，代入公式①后， $r_{东} > r_{全国}$ ；中部地区业务量比重上升，业务收入持平，则 $b_{中} > b_{全国}$ ， $a_{中} = a_{全国}$ ，代入公式①后， $r_{中} < r_{全国}$ ；西部地区业务量比重下降的多，快递业务收入比重下降的少，代入公式①后， $r_{西} > r_{全国}$ 。故中部地区一定最慢，结合选项，只有D项符合。

故正确答案为D。

99、正确答案是：C

解析

根据题干“...2019年第二季度各月快递业务收入环比增速...”，可判定本题为一般增长率问题。定位材料表格可得，各月快递业务环比收入增速分别为：

$$4 \text{ 月: } \frac{592}{596} - 1 < 0;$$

$$5 \text{ 月: } \frac{618}{592} - 1 = \frac{26}{592} \approx 4.4\%;$$

$$6 \text{ 月: } \frac{6432}{596} - 1 = \frac{25}{618} \approx 4\%。$$

故正确答案为 C。

100、正确答案是：A

解析

A 项：定位表格，2019 年前三季度，所有月份的平均单件快递业务收入分别为 1-9 月分别为 $45.2 \times 10 < 597$ ， $27.6 \times 10 < 350$ ， $48.6 \times 10 < 596$ ， $49.2 \times 10 < 592$ ， $52.3 \times 10 < 618$ ， $54.6 \times 10 < 643$ ， $28.6 \times 10 < 608$ ， $53 \times 10 < 617$ ， $56 \times 10 < 649$ ，正确；

B 项：定位表格，全国快递业务量和快递业务收入同比增速均超过 25% 的月份有 4 月、6 月、7 月、8 月，共 4 个，错误；

C 项：定位文字资料第一段、第二段，2019 年 1~10 月，全国快递业务收入累计完成 5929 亿元。异地业务收入占全部快递业务收入 52.9%，故 2019 年 1~10 月，全国异地快递月均业务收入为

$$\frac{5929 \times 52.9\%}{10} \approx \frac{6000 \times 52\%}{10} = 312 > 300，错误；$$

D 项：定位表格，2019 年二季度，全国快递业务收入比上季度增长了

$$\frac{592 + 618 + 643}{597 + 350 = 596} - 1 = \frac{310}{1543} \approx 20\% < 30\%，错误。$$

故正确答案为 A。



美好的事情即将发生...

something wonderful is about to happen